



Question Paper Preview

Notations :

- Options shown in green color and with  icon are correct.
- Options shown in red color and with  icon are incorrect.

Question Paper Name:	ASSISTANT TEACHER PRIMARY 11th Nov 2018 Shift 2
Subject Name:	ASSISTANT TEACHER PRIMARY
Creation Date:	2018-11-11 16:21:29
Duration:	120
Total Marks:	200
Display Marks:	Yes
Share Answer Key With Delivery Engine:	Yes
Actual Answer Key:	Yes
Calculator:	None
Magnifying Glass Required?:	No
Ruler Required?:	No
Eraser Required?:	No
Scratch Pad Required?:	No
Rough Sketch/Notepad Required?:	No
Protractor Required?:	No
Show Watermark on Console?:	No
Highlighter:	No
Auto Save on Console?:	No

Mental Ability

Group Number :	1
Group Id :	16265351
Group Maximum Duration :	0
Group Minimum Duration :	0
Revisit allowed for view? :	No
Revisit allowed for edit? :	No
Break time:	0
Group Marks:	20
Revisit allowed for group Instructions? :	Yes
Maximum Instruction Time:	0
Minimum Instruction Time:	0

Mental Ability

Section Id :	16265351
Section Number :	1
Section type :	Online
Mandatory or Optional:	Mandatory
Number of Questions:	20
Number of Questions to be attempted:	20
Section Marks:	20

Display Number Panel:

Yes

Group All Questions:

No

Sub-Section Number:

1

Sub-Section Id:

16265367

Question Shuffling Allowed :

Yes

Question Number : 1 Question Id : 1626531016 Question Type : MCQ Option Shuffling : Yes Display Question Number : Yes
Single Line Question Option : No Option Orientation : Vertical

Correct Marks : 1 Wrong Marks : 0.25

In a college, 65% students played cricket, 40% students played tennis and 25% students played both cricket and tennis.
What percent of the students played neither cricket nor tennis?

Options :

1. ✖ 10%

2. ✔ 20%

3. ✖ 25%

4. ✖ 35%

Question Number : 1 Question Id : 1626531016 Question Type : MCQ Option Shuffling : Yes Display Question Number : Yes
Single Line Question Option : No Option Orientation : Vertical

Correct Marks : 1 Wrong Marks : 0.25

एक कॉलेज में, 65% छात्रों ने क्रिकेट खेला, 40% छात्रों ने टेनिस खेला तथा 25% छात्रों ने क्रिकेट और टेनिस दोनों खेले। कितने प्रतिशत छात्रों ने न तो क्रिकेट और न ही टेनिस खेला?

Options :

1. ✖ 10%

2. ✔ 20%

3. ✖ 25%

4. ✖ 35%

Question Number : 2 Question Id : 1626531017 Question Type : MCQ Option Shuffling : Yes Display Question Number : Yes
Single Line Question Option : No Option Orientation : Vertical

Correct Marks : 1 Wrong Marks : 0.25

Choose the pair that is similar to the given pair.

Smile : Happiness: : _____ : _____

Options :

1. ✖ Eyes : Tears

2. ✖ Face : Expression

3. ✖ Sorrow : Happy

4. ✔ Yawn : Boredom

Question Number : 2 Question Id : 1626531017 Question Type : MCQ Option Shuffling : Yes Display Question Number : Yes
Single Line Question Option : No Option Orientation : Vertical

Correct Marks : 1 Wrong Marks : 0.25

दिए गए युग्म के समान वाला युग्म चुनें।

मुस्कान : खुशी : _____ : _____

Options :

1. ✖ आँखें : आंसू

2. ✖ चेहरा : अभिव्यक्ति

3. ✖ दुःख : सुखी

4. ✔ जंभाई : विरक्ति

Question Number : 3 Question Id : 1626531018 Question Type : MCQ Option Shuffling : Yes Display Question Number : Yes
Single Line Question Option : No Option Orientation : Vertical

Correct Marks : 1 Wrong Marks : 0.25

If 'green' means 'yellow', 'yellow' means 'white', 'white' means 'blue', 'blue' means 'red' and 'red' means 'pink' then what is the colour of milk?

Options :

1. ✔ Yellow

2. ✖ White

3. ✖ Blue

4. ✖ Green

Question Number : 3 Question Id : 1626531018 Question Type : MCQ Option Shuffling : Yes Display Question Number : Yes
Single Line Question Option : No Option Orientation : Vertical

Correct Marks : 1 Wrong Marks : 0.25

यदि 'हरे' का मतलब 'पीला', 'पीले' का मतलब 'श्वेत', 'श्वेत' का मतलब 'नीला', 'नीले' का मतलब 'लाल' और 'लाल' का मतलब 'गुलाबी' है तब दूध का रंग क्या है?

Options :

1. ✓ पीला
2. ✗ श्वेत
3. ✗ नीला
4. ✗ हरा

Question Number : 4 Question Id : 1626531019 Question Type : MCQ Option Shuffling : Yes Display Question Number : Yes
Single Line Question Option : No Option Orientation : Vertical

Correct Marks : 1 Wrong Marks : 0.25

Subitha remembers that her sister's birthday is after 15th but before 18th of February whereas her brother Ragu remembers that his sister's birthday is after 16th but below 19th of February. On which day in February is Subitha's sister's birthday?

Note: For this question, discrepancy is found in question/answer. So, this question is ignored for all candidates.

Options :

1. 15th
2. 16th
3. 18th
4. 19th

Question Number : 4 Question Id : 1626531019 Question Type : MCQ Option Shuffling : Yes Display Question Number : Yes
Single Line Question Option : No Option Orientation : Vertical

Correct Marks : 1 Wrong Marks : 0.25

सुबिता याद करती है कि उसकी बहन का जन्मदिन 15 फरवरी के बाद लेकिन 18 फरवरी से पहले है जबकि उसका भाई रघु याद करता है कि उसकी बहन का जन्मदिन 16 फरवरी के बाद लेकिन 19 फरवरी से पहले है। फरवरी की किस तारीख को सुबिता की बहन का जन्मदिन है?

Note: For this question, discrepancy is found in question/answer. So, this question is ignored for all candidates.

Options :

1. 15^{वीं}
2. 16^{वीं}
3. 18^{वीं}

4. 19वीं

Question Number : 5 Question Id : 1626531020 Question Type : MCQ Option Shuffling : Yes Display Question Number : Yes
Single Line Question Option : No Option Orientation : Vertical

Correct Marks : 1 Wrong Marks : 0.25

Introducing Hari, Veena said, "He is the brother of the daughter of the wife of my husband." How is Veena related to Hari?

Options :

1. ✓ Mother

2. ✗ Sister

3. ✗ Aunty

4. ✗ Mother-in-law

Question Number : 5 Question Id : 1626531020 Question Type : MCQ Option Shuffling : Yes Display Question Number : Yes
Single Line Question Option : No Option Orientation : Vertical

Correct Marks : 1 Wrong Marks : 0.25

हरी से परिचय कराते हुए, वीणा ने कह, "वह मेरे पति की पत्नी की बेटी का भाई है"। वीणा का हरी से क्या संबंध है?

Options :

1. ✓ माँ

2. ✗ बहन

3. ✗ चाची

4. ✗ सास

Question Number : 6 Question Id : 1626531021 Question Type : MCQ Option Shuffling : Yes Display Question Number : Yes
Single Line Question Option : No Option Orientation : Vertical

Correct Marks : 1 Wrong Marks : 0.25

A cube is coloured red on all faces and is cut into 27 small cubes of equal sizes. How many cubes are painted on one face only?

Options :

1. ✗ 4

2. ✓ 6

3. ✗ 8

4. ✗ 10

Question Number : 6 Question Id : 1626531021 Question Type : MCQ Option Shuffling : Yes Display Question Number : Yes
Single Line Question Option : No Option Orientation : Vertical

Correct Marks : 1 Wrong Marks : 0.25

एक घन सभी पृष्ठों पर लाल रंग लगाया जाता है और फिर उसे 27 छोटे समाकार घनों में काटा जाता है। कितने घनों की केवल एक सतह पर रंग लगा है?

Options :

1. ✖ 4
2. ✔ 6
3. ✖ 8
4. ✖ 10

Question Number : 7 Question Id : 1626531022 Question Type : MCQ Option Shuffling : Yes Display Question Number : Yes
Single Line Question Option : No Option Orientation : Vertical

Correct Marks : 1 Wrong Marks : 0.25

Given below is a statement followed by two assumptions numbered I and II. Consider the statement and the following assumptions and decide which of the assumptions is implicit in the statement.

Statement:

Unemployment allowance should be given to all unemployed youth of our country.

Assumptions:

- I. There are unemployed youth of our country who need monetary support.
- II. The government has sufficient funds to provide allowance to all unemployed youth.

Options :

1. ✔ Only assumptions I is implicit
2. ✖ Only assumptions II is implicit
3. ✖ Both I and II are implicit
4. ✖ Neither I nor II is implicit

Question Number : 7 Question Id : 1626531022 Question Type : MCQ Option Shuffling : Yes Display Question Number : Yes
Single Line Question Option : No Option Orientation : Vertical

Correct Marks : 1 Wrong Marks : 0.25

निम्न कथन के नीचे दो पूर्वधारणाएँ दी गई हैं जिन्हें I और II से अंकित किया गया है। कथन और पूर्वधारणाओं पर विचार करें और तय करें कि कौनसा विकल्प अंतर्निहित है।

कथन:

हमारे देश के सभी बेरोजगार युवाओं को बेरोजगारी भत्ता देना चाहिए।

पूर्वधारणाएँ:

- I. हमारे देश के बेरोजगार युवाओं है जिनको मौद्रिक समर्थन की जरूरत है।
- II. सरकार के पास सभी बेरोजगार युवाओं को भत्ता प्रदान करने के लिए पर्याप्त फंड है।

Options :

1. ☒ केवल धारणाए I अंतर्निहित है
2. ☐ केवल धारणा II अंतर्निहित है
3. ☐ दोनों I और II अंतर्निहित हैं
4. ☐ न तो I और न II अंतर्निहित हैं

Question Number : 8 Question Id : 1626531023 Question Type : MCQ Option Shuffling : Yes Display Question Number : Yes
Single Line Question Option : No Option Orientation : Vertical

Correct Marks : 1 Wrong Marks : 0.25

Read the following information carefully and answer the question given below.

- '*' stands for '=';
' α ' stands for 'greater than';
' β ' stands for 'less than';
' δ ' stands for 'not less than';
' γ ' stands for 'not greater than';

If $M * 2N$ and $3N \gamma L$, then:
(Assume all M, N, L are positive)

Options :

1. ☒ $M \beta L$
2. ☐ $3M \alpha 2L$
3. ☐ $M * L$
4. ☐ $M \delta 2L$

Question Number : 8 Question Id : 1626531023 Question Type : MCQ Option Shuffling : Yes Display Question Number : Yes
Single Line Question Option : No Option Orientation : Vertical

Correct Marks : 1 Wrong Marks : 0.25

निम्नलिखित जानकारी को सावधानीपूर्वक पढ़ें तथा नीचे दिए गए प्रश्नों का उत्तर दें:

'*' प्रतीक है '=' का;

' α ' प्रतीक है 'से बड़ा' का;

' β ' प्रतीक है 'से कम'; का

' δ ' प्रतीक है 'से कम नहीं';का

' γ ' प्रतीक है 'से अधिक नहीं';का

यदि $M * 2N$ तथा $3N \gamma L$, तब

(मान लें कि सभी M, N, L धनात्मक हैं)

Options :

1. ☒ $M \beta L$

2. ☐ $3M \alpha 2L$

3. ☐ $M * L$

4. ☐ $M \delta 2L$

Question Number : 9 Question Id : 1626531024 Question Type : MCQ Option Shuffling : Yes Display Question Number : Yes
Single Line Question Option : No Option Orientation : Vertical

Correct Marks : 1 Wrong Marks : 0.25

You go for a function with your friend and he / she comments that you are not looking good. You:

Options :

1. ☒ make up some reason as to what went wrong

2. ☐ start crying

3. ☐ get back at him/her telling him/her how bad he/she is looking

4. ☐ take offence to do it and estrange your relationship

Question Number : 9 Question Id : 1626531024 Question Type : MCQ Option Shuffling : Yes Display Question Number : Yes
Single Line Question Option : No Option Orientation : Vertical

Correct Marks : 1 Wrong Marks : 0.25

आप अपने मित्र के साथ एक समारोह में जाते हैं और वह आप पर टिप्पणी करता/करती है कि आप अच्छे नहीं दिख रहे हैं। आप:

Options :

1. ☒ क्या गलत हो गया है इसके कारण की कल्पना करते हैं
2. ☐ रोना शुरू करते हैं
3. ☐ यह कहने के लिए उसके पास वापस आते हैं कि वह कितना खराब दिख रहा/रही है
4. ☐ ऐसा करने के लिए रोष प्रकट करते हैं तथा आपके संबंध में मनमुटाव पैदा होता है

Question Number : 10 Question Id : 1626531025 Question Type : MCQ Option Shuffling : Yes Display Question Number : Yes
Single Line Question Option : No Option Orientation : Vertical

Correct Marks : 1 Wrong Marks : 0.25

In a march past, seven students are standing in a row. B is standing at the left of C but at the right of A. D is standing at the right of E and at the left of A. Similarly, F is standing at the right of C and at the left of G. Who is standing in the middle?

Options :

1. ☐ D
2. ☐ F
3. ☒ B
4. ☐ C

Question Number : 10 Question Id : 1626531025 Question Type : MCQ Option Shuffling : Yes Display Question Number : Yes
Single Line Question Option : No Option Orientation : Vertical

Correct Marks : 1 Wrong Marks : 0.25

एक मार्च पास्ट में, सात छात्र एक पंक्ति में खड़े हैं। B, C के बाईं ओर किंतु A के दाईं ओर खड़ा है। D, E के दाईं ओर किंतु A के बाईं ओर खड़ा है। इसी प्रकार, F, C के दाईं ओर और G के बाईं ओर खड़ा है। कौन पंक्ति के बीच में खड़ा है?

Options :

1. ☐ D
2. ☐ F
3. ☒ B
4. ☐ C

Question Number : 11 Question Id : 1626531026 Question Type : MCQ Option Shuffling : Yes Display Question Number : Yes
Single Line Question Option : No Option Orientation : Vertical

Correct Marks : 1 Wrong Marks : 0.25

Choose the alternative which is closely resembles the mirror-image of the given combination.

AUTUMN

Options :

1. ✖ NWUTUA
2. ✖ NMUTUA
3. ✖ AUTUMИ
4. ✔ ИMUTUA

Question Number : 11 Question Id : 1626531026 Question Type : MCQ Option Shuffling : Yes Display Question Number : Yes
Single Line Question Option : No Option Orientation : Vertical

Correct Marks : 1 Wrong Marks : 0.25

उस विकल्प को चुनें जो दिए गए संयोजन AUTUMN की दर्पण-छवि के काफी सदृश है।

Options :

1. ✖ NWUTUA
2. ✖ NMUTUA
3. ✖ AUTUMИ
4. ✔ ИMUTUA

Question Number : 12 Question Id : 1626531027 Question Type : MCQ Option Shuffling : Yes Display Question Number : Yes
Single Line Question Option : No Option Orientation : Vertical

Correct Marks : 1 Wrong Marks : 0.25

Arrange the following words as per their order in an English dictionary.

1. EMERGENCY
2. ENERGY
3. EMPOWERMENT
4. EMPLOYMENT
5. ENHANCEMENT

Options :

1. ✖ 1, 2, 3, 4, 5
2. ✔ 1, 4, 3, 2, 5
3. ✖ 1, 3, 4, 2, 5
4. ✖ 1, 4, 2, 3, 5

Question Number : 12 Question Id : 1626531027 Question Type : MCQ Option Shuffling : Yes Display Question Number : Yes
Single Line Question Option : No Option Orientation : Vertical

Correct Marks : 1 Wrong Marks : 0.25

निम्न शब्दों को अंग्रेजी शब्दकोष के क्रमानुसार व्यवस्थित करें।

1. EMERGENCY
2. ENERGY
3. EMPOWERMENT
4. EMPLOYMENT
5. ENHANCEMENT

Options :

1. ✖ 1, 2, 3, 4, 5

2. ✔ 1, 4, 3, 2, 5

3. ✖ 1, 3, 4, 2, 5

4. ✖ 1, 4, 2, 3, 5

Question Number : 13 Question Id : 1626531028 Question Type : MCQ Option Shuffling : Yes Display Question Number : Yes
Single Line Question Option : No Option Orientation : Vertical

Correct Marks : 1 Wrong Marks : 0.25

Find the odd one.

Options :

1. ✖ Pitch

2. ✔ Court

3. ✖ Stump

4. ✖ Bat

Question Number : 13 Question Id : 1626531028 Question Type : MCQ Option Shuffling : Yes Display Question Number : Yes
Single Line Question Option : No Option Orientation : Vertical

Correct Marks : 1 Wrong Marks : 0.25

निम्नलिखित में से विसंगत को चुनें:

Options :

1. ✖ पिच

2. ✔ कोर्ट

3. ✖ स्टेप

4. ✖ बैट

Question Number : 14 Question Id : 1626531029 Question Type : MCQ Option Shuffling : Yes Display Question Number : Yes
Single Line Question Option : No Option Orientation : Vertical

Correct Marks : 1 Wrong Marks : 0.25

You are given three statements and three conclusions. Choose the comment about conclusion from the given options below.

Given below are three statements followed by three conclusions numbered I, II and III. Consider the statement and the following conclusions and decide which of the conclusion(s) follow(s).

Statement:

- I. No cat is a lion.
- II. Some horses are lions.
- III. All cats are cows.

Conclusions:

- I. Some cows are lions.
- II. Some horses are cats.
- III. No lion is a cow.

Options :

- 1. ✖ Only conclusion I follows
- 2. ✖ Either I or II follows
- 3. ✔ Either I or III follows
- 4. ✖ All follow

Question Number : 14 Question Id : 1626531029 Question Type : MCQ Option Shuffling : Yes Display Question Number : Yes
Single Line Question Option : No Option Orientation : Vertical

Correct Marks : 1 Wrong Marks : 0.25

निम्न तीन कथनों के नीचे तीन निष्कर्ष दिए गए हैं जिन्हें I, II और III से अंकित किया गया है। कथनों और निष्कर्षों पर विचार करें और तय करें कि कौनसा विकल्प विकल्प परिणाम निकलता है।

कथन:

- I. कोई बिल्ली शेर नहीं है।
- II. कुछ घोड़े शेर हैं।
- III. सभी बिल्लियाँ गाय हैं।

निष्कर्ष:

- I. कुछ गाय शेर हैं।
- II. कुछ घोड़े बिल्ली हैं।
- III. कोई शेर गाय नहीं है।

Options :

1. ✖ केवल निष्कर्ष । परिणाम निकालता है
2. ✖ या तो निष्कर्ष । या II परिणाम निकालता है
3. ✔ या तो निष्कर्ष । या III परिणाम निकालता है
4. ✖ सभी परिणाम देते हैं

Question Number : 15 Question Id : 1626531030 Question Type : MCQ Option Shuffling : Yes Display Question Number : Yes
Single Line Question Option : No Option Orientation : Vertical

Correct Marks : 1 Wrong Marks : 0.25

You are given a question and two statements I and II. You have to decide whether the data provided in the statements are sufficient to answer the question.

Malini is elder than Kavya and Seema is younger than Anjali. Who among them is the youngest?

Statements:

- I. Seema is younger than Malini.
- II. Anjali is younger than Kavya.

Options :

1. ✖ Data in statement I alone is sufficient to answer the question
2. ✔ Data in statement II alone is sufficient to answer the question
3. ✖ Both the statements I and II are necessary to answer the question
4. ✖ Both the statements I and II are not sufficient to answer the question

Question Number : 15 Question Id : 1626531030 Question Type : MCQ Option Shuffling : Yes Display Question Number : Yes
Single Line Question Option : No Option Orientation : Vertical

Correct Marks : 1 Wrong Marks : 0.25

आपको एक प्रश्न तथा दो कथन I और II दिए गए हैं। आपको यह सुनिश्चित करना है कि क्या कथनों में उपलब्ध कराया गया डेटा प्रश्न का उत्तर देने के लिए पर्याप्त है।

प्रश्न:

मालिनी काव्या से छोटी है तथा सीमा अंजलि से छोटी है। उनमें से कौन सबसे छोटा है?

कथन:

- I. सीमा मालिनी से छोटी है।
- II. अंजलि काव्या से छोटी है।

Options :

1. ✖ प्रश्न का उत्तर देने के लिए अकेले कथन । में डेटा पर्याप्त है
2. ✔ प्रश्न का उत्तर देने के लिए अकेले कथन ॥ में डेटा पर्याप्त है
3. ✖ प्रश्न का उत्तर देने के लिए दोनों कथन । और ॥ आवश्यक हैं।
4. ✖ प्रश्न का उत्तर देने के लिए दोनों कथन । और ॥ पर्याप्त नहीं हैं

Question Number : 16 Question Id : 1626531031 Question Type : MCQ Option Shuffling : Yes Display Question Number : Yes
Single Line Question Option : No Option Orientation : Vertical

Correct Marks : 1 Wrong Marks : 0.25

Anand, Balu, Sekar and Vikram are playing cards. Anand and Balu are partners. Vikram faces towards north. If Anand faces towards west, then who faces towards south?

Options :

1. ✖ Anand
2. ✖ Vikram
3. ✖ Balu
4. ✔ Sekar

Question Number : 16 Question Id : 1626531031 Question Type : MCQ Option Shuffling : Yes Display Question Number : Yes
Single Line Question Option : No Option Orientation : Vertical

Correct Marks : 1 Wrong Marks : 0.25

आनंद, बालू, शेखर और विक्रम ताश खेल रहे हैं। आनंद और बालू जोड़ीदार हैं। विक्रम का मुँह उत्तर की तरफ है। यदि आनंद का मुँह पश्चिम की ओर हो तब किसका मुँह दक्षिण की ओर होगा?

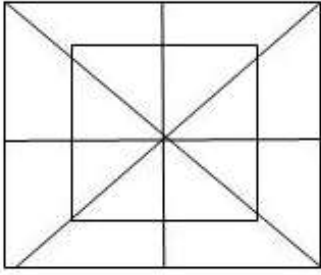
Options :

1. ✖ आनंद
2. ✖ विक्रम
3. ✖ बालू
4. ✔ शेखर

Question Number : 17 Question Id : 1626531032 Question Type : MCQ Option Shuffling : Yes Display Question Number : Yes
Single Line Question Option : No Option Orientation : Vertical

Correct Marks : 1 Wrong Marks : 0.25

Find the number of squares in the following figure.



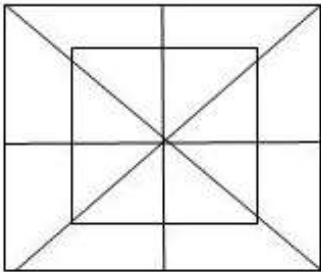
Options :

1. ✖ 6 squares
2. ✖ 8 squares
3. ✔ 10 squares
4. ✖ 12 squares

Question Number : 17 Question Id : 1626531032 Question Type : MCQ Option Shuffling : Yes Display Question Number : Yes
Single Line Question Option : No Option Orientation : Vertical

Correct Marks : 1 Wrong Marks : 0.25

निम्नलिखित आकृति में वर्गों की संख्या का पता लगाएं:



Options :

1. ✖ 6 वर्ग
2. ✖ 8 वर्ग
3. ✔ 10 वर्ग
4. ✖ 12 वर्ग

Question Number : 18 Question Id : 1626531033 Question Type : MCQ Option Shuffling : Yes Display Question Number : Yes
Single Line Question Option : No Option Orientation : Vertical

Correct Marks : 1 Wrong Marks : 0.25

Choose the correct alternative for the following.

46 : 22 :: 88 : _____

Options :

1. ✖ 42

2. ✔ 43

3. ✖ 44

4. ✖ 45

Question Number : 18 Question Id : 1626531033 Question Type : MCQ Option Shuffling : Yes Display Question Number : Yes
Single Line Question Option : No Option Orientation : Vertical

Correct Marks : 1 Wrong Marks : 0.25

निम्नलिखित के लिए सही विकल्प चुनें।

46 : 22 :: 88 : _____

Options :

1. ✖ 42

2. ✔ 43

3. ✖ 44

4. ✖ 45

Question Number : 19 Question Id : 1626531034 Question Type : MCQ Option Shuffling : Yes Display Question Number : Yes
Single Line Question Option : No Option Orientation : Vertical

Correct Marks : 1 Wrong Marks : 0.25

While going to college, Anitha was behind Sunitha and Rani was ahead of Mala. Rekha was in between Anitha and Rani. Who was leading?

Options :

1. ✔ Sunitha

2. ✖ Rani

3. ✖ Mala

4. ✖ Rekha

Question Number : 19 Question Id : 1626531034 Question Type : MCQ Option Shuffling : Yes Display Question Number : Yes
Single Line Question Option : No Option Orientation : Vertical

Correct Marks : 1 Wrong Marks : 0.25

कॉलेज जाते समय, अनीता सुनीता के पीछे थी तथा रानी माला के आगे थी। रेखा, अनीता और रानी के बीच में थी।
कौन अगुआई कर रहा था?

Options :

1.  सुनीता
2.  रानी
3.  माला
4.  रेखा

Question Number : 20 Question Id : 1626531035 Question Type : MCQ Option Shuffling : Yes Display Question Number : Yes
Single Line Question Option : No Option Orientation : Vertical

Correct Marks : 1 Wrong Marks : 0.25

Identify the missing terms in place of the question marks.

2, 3, B, ?, 6, ?, F, G, ?, 5, D, ?, 8, ?, H, I

Options :

1.  E, 8, 7, I, 9
2.  C, 7, 4, E, 9
3.  W, 8, 7, I, 6
4.  D, 8, 5, C, 7



Question Number : 20 Question Id : 1626531035 Question Type : MCQ Option Shuffling : Yes Display Question Number : Yes
Single Line Question Option : No Option Orientation : Vertical

Correct Marks : 1 Wrong Marks : 0.25

प्रश्न चिह्नों के स्थान में छूटी शब्दावली की पहचान करें।

2, 3, B, ?, 6, ?, F, G, ?, 5, D, ?, 8, ?, H, I

Options :

1.  E, 8, 7, I, 9
2.  C, 7, 4, E, 9

3. ✖ W, 8, 7, 1, 6

4. ✖ D, 8, 5, C, 7

General Awareness

Group Number :	2
Group Id :	16265352
Group Maximum Duration :	0
Group Minimum Duration :	0
Revisit allowed for view? :	No
Revisit allowed for edit? :	No
Break time:	0
Group Marks:	20
Revisit allowed for group Instructions? :	Yes
Maximum Instruction Time:	0
Minimum Instruction Time:	0

General Awareness

Section Id :	16265352
Section Number :	1
Section type :	Online
Mandatory or Optional:	Mandatory
Number of Questions:	20
Number of Questions to be attempted:	20
Section Marks:	20
Display Number Panel:	Yes
Group All Questions:	No

Sub-Section Number:	1
Sub-Section Id:	16265368
Question Shuffling Allowed :	Yes

Question Number : 21 Question Id : 1626531036 Question Type : MCQ Option Shuffling : Yes Display Question Number : Yes
Single Line Question Option : No Option Orientation : Vertical

Correct Marks : 1 Wrong Marks : 0.25

‘Bandi Jiwan’, which served as a textbook to the revolutionary movement in colonial India, was written by _____.

Options :

1. ✖ Surya Sen

2. ✖ Arvind Ghosh

3. ✔ Sachindranath Sanyal

4. ✖ Rajendra Lahiri

Question Number : 21 Question Id : 1626531036 Question Type : MCQ Option Shuffling : Yes Display Question Number : Yes
Single Line Question Option : No Option Orientation : Vertical

Correct Marks : 1 Wrong Marks : 0.25

'बंदी जीवन', जिसने औपनिवेशिक भारत में क्रांतिकारी आंदोलन के लिए पाठ्यपुस्तक के रूप में कार्य किया, _____ द्वारा लिखी गई थी।

Options :

1. ✖ सूर्य सेन
2. ✖ अरविंद घोष
3. ✔ सचिंद्रनाथ सान्याल
4. ✖ राजेंद्र लाहिरी

Question Number : 22 Question Id : 1626531037 Question Type : MCQ Option Shuffling : Yes Display Question Number : Yes
Single Line Question Option : No Option Orientation : Vertical

Correct Marks : 1 Wrong Marks : 0.25

The political parties which boycotted the Simon Commission constituted an All Parties' Conference to draft a Constitution for India. Which of the following statements is correct with regard to it?

Options :

1. ✖ It was chaired by Jawaharlal Nehru.
2. ✖ It demanded complete freedom.
3. ✔ It demanded that Indians should be granted fundamental rights.
4. ✖ It resolved that the Parliament should be unitary.


Question Number : 22 Question Id : 1626531037 Question Type : MCQ Option Shuffling : Yes Display Question Number : Yes
Single Line Question Option : No Option Orientation : Vertical


Correct Marks : 1 Wrong Marks : 0.25

साइमन कमीशन का बहिष्कार करने वाले राजनीतिक दलों ने भारत के लिए संविधान का एक मसौदा तैयार करने के लिए एक सर्व दलीय सम्मेलन गठित किया। निम्नलिखित में से कौन सा कथन सही मालूम होता है?

Options :

1. ✖ इसकी अध्यक्षता जवाहरलाल नेहरू द्वारा की गई।
2. ✖ इसने पूर्ण स्वतंत्रता की मांग की।

3.  इसने भारतीय नागरिकों को मूलभूत अधिकार देने की माँग की।


4.  इसने संसद का एकीय होना प्रस्तावित किया।


Question Number : 23 Question Id : 1626531038 Question Type : MCQ Option Shuffling : Yes Display Question Number : Yes
Single Line Question Option : No Option Orientation : Vertical


Correct Marks : 1 Wrong Marks : 0.25

Panchayati Raj was formally inaugurated by Pandit Jawaharlal Nehru on _____ in the _____ district of _____.

Options :

1.  2nd October 1956 ; Bahraich ; Uttar Pradesh

2.  2nd October 1957 ; Gwalior ; Madhya Pradesh

3.  2nd October 1958 ; Udaipur ; Rajasthan


4.  2nd October 1959 ; Nagaur ; Rajasthan


Question Number : 23 Question Id : 1626531038 Question Type : MCQ Option Shuffling : Yes Display Question Number : Yes
Single Line Question Option : No Option Orientation : Vertical


Correct Marks : 1 Wrong Marks : 0.25


पंचायती राज का औपचारिक रूप से पंडित जवाहरलाल नेहरू द्वारा उद्घाटन _____ को _____ के _____ जिले में किया गया।

Options :

1.  2 अक्टूबर 1956 ; बहराइच ; उत्तर प्रदेश

2.  2 अक्टूबर 1957 ; ग्वालियर ; मध्य प्रदेश

3.  2 अक्टूबर 1958 ; उदयपुर ; राजस्थान

4.  2 अक्टूबर 1959 ; नागौर ; राजस्थान

Question Number : 24 Question Id : 1626531039 Question Type : MCQ Option Shuffling : Yes Display Question Number : Yes
Single Line Question Option : No Option Orientation : Vertical

Correct Marks : 1 Wrong Marks : 0.25

Who argued that “The Indian Constitution established indeed a system of Government which is at most quasi-federal, a unitary state with subsidiary features rather than a Federal States with unitary features”?

Options :

1.  KC Wheare

2. ✖ Dr BR Ambedkar
3. ✖ Justice Fazal Ali
4. ✖ Sir Ivor Jennings

Question Number : 24 Question Id : 1626531039 Question Type : MCQ Option Shuffling : Yes Display Question Number : Yes
Single Line Question Option : No Option Orientation : Vertical

Correct Marks : 1 Wrong Marks : 0.25

किसने तर्क दिया कि "भारतीय संविधान ने वास्तव में ऐसी सरकार की एक प्रणाली स्थापित की जो एकतापूर्ण सुविधाओं वाले एक संघीय राज्यों की बजाय सहायक सुविधाओं वाला सबसे अर्ध-संघीय, एकतापूर्ण राज्य है"?

Options :

1. ✔ के.सी. व्हिअर
2. ✖ डॉ. बी.आर. अम्बेडकर
3. ✖ न्यायमूर्ति फजल अली
4. ✖ सर इवर जेनिंग्स

Question Number : 25 Question Id : 1626531040 Question Type : MCQ Option Shuffling : Yes Display Question Number : Yes
Single Line Question Option : No Option Orientation : Vertical

Correct Marks : 1 Wrong Marks : 0.25

Citizenship is lost by which one/all of the following.

Options :

1. ✖ Renunciation of citizenship
2. ✖ Termination of citizenship
3. ✖ Deprivation of citizenship
4. ✔ All of the given options

Question Number : 25 Question Id : 1626531040 Question Type : MCQ Option Shuffling : Yes Display Question Number : Yes
Single Line Question Option : No Option Orientation : Vertical

Correct Marks : 1 Wrong Marks : 0.25

नागरिकता निम्नलिखित में से किस एक/किन सभी के द्वारा गंवाई जाती है?

Options :

1. ✖ नागरिकता का त्याग

- 2. ✖ नागरिकता की समाप्ति
- 3. ✖ नागरिकता से पदच्युति
- 4. ✔ दिए गए सभी विकल्प

Question Number : 26 Question Id : 1626531041 Question Type : MCQ Option Shuffling : Yes Display Question Number : Yes
Single Line Question Option : No Option Orientation : Vertical

Correct Marks : 1 Wrong Marks : 0.25

Which of the following fundamental rights is mismatched?

Options :

- 1. ✖ Article 21A: At the right of education
- 2. ✖ Article 26: Freedom to manage religious affairs.
- 3. ✖ Article 29: Protection of interests of minorities.
- 4. ✔ None of the given options

Question Number : 26 Question Id : 1626531041 Question Type : MCQ Option Shuffling : Yes Display Question Number : Yes
Single Line Question Option : No Option Orientation : Vertical

Correct Marks : 1 Wrong Marks : 0.25

निम्नलिखित में से कौन सा मूलभूत अधिकार बेमेल है?

Options :

- 1. ✖ अनुच्छेद 21A शिक्षा का अधिकार
- 2. ✖ अनुच्छेद 26: धार्मिक मामलों का प्रबंधन करने की स्वतंत्रता।
- 3. ✖ अनुच्छेद 29: अल्पसंख्यकों के हितों की सुरक्षा।
- 4. ✔ इनमे से कोई भी नहीं

Question Number : 27 Question Id : 1626531042 Question Type : MCQ Option Shuffling : Yes Display Question Number : Yes
Single Line Question Option : No Option Orientation : Vertical

Correct Marks : 1 Wrong Marks : 0.25

Who was the first cricket test captain of Independent India?

Options :

- 1. ✖ Maharaj Kumar

2. ✓ Lala Amarnath

3. ✗ CK Nayudu

4. ✗ Vijay Merchant

Question Number : 27 Question Id : 1626531042 Question Type : MCQ Option Shuffling : Yes Display Question Number : Yes
Single Line Question Option : No Option Orientation : Vertical

Correct Marks : 1 Wrong Marks : 0.25

स्वतंत्र भारत के पहले क्रिकेट टेस्ट कप्तान कौन थे?

Options :

1. ✗ महाराज कुमार

2. ✓ लाला अमरनाथ

3. ✗ सी.के. नायडू

4. ✗ विजय मर्चेन्ट

Question Number : 28 Question Id : 1626531043 Question Type : MCQ Option Shuffling : Yes Display Question Number : Yes
Single Line Question Option : No Option Orientation : Vertical

Correct Marks : 1 Wrong Marks : 0.25

National Sports Day is celebrated on _____.

Options :

1. ✗ 21 June

2. ✓ 29 August

3. ✗ 25 September

4. ✗ 24 October

Question Number : 28 Question Id : 1626531043 Question Type : MCQ Option Shuffling : Yes Display Question Number : Yes
Single Line Question Option : No Option Orientation : Vertical

Correct Marks : 1 Wrong Marks : 0.25

राष्ट्रीय खेल दिवस _____ को मनाया जाता है।

Options :

1. ✗ 21 जून

2. ✓ 29 अगस्त

3. ✗ 25 सितंबर

4. ✗ 24 अक्टूबर

Question Number : 29 Question Id : 1626531044 Question Type : MCQ Option Shuffling : Yes Display Question Number : Yes
Single Line Question Option : No Option Orientation : Vertical

Correct Marks : 1 Wrong Marks : 0.25

Which of the following statement is INCORRECT with regard to the Bihu festival of Assam?

Options :

1. ✓ This festival is organised to celebrate the new year.

2. ✗ There are three types of Bihus are celebrated in Assam.

3. ✗ These are Bahag Bihu, Kati Bihu and Magh Bihu.

4. ✗ The Bihus take place on a Sankranti day.

Question Number : 29 Question Id : 1626531044 Question Type : MCQ Option Shuffling : Yes Display Question Number : Yes
Single Line Question Option : No Option Orientation : Vertical

Correct Marks : 1 Wrong Marks : 0.25

असम के बिहू त्यौहार के संबंध में निम्नलिखित में से कौन सा कथन गलत है?

Options :

1. ✓ यह त्यौहार नववर्ष मनाने के लिए आयोजित किया जाता है।

2. ✗ असम में तीन प्रकार के बिहू मनाए जाते हैं।

3. ✗ ये बहग बिहू, काती बिहू और माघ बिहू हैं।

4. ✗ सारे बिहू त्यौहार एक संक्रांति दिवस पर होता है।

Question Number : 30 Question Id : 1626531045 Question Type : MCQ Option Shuffling : Yes Display Question Number : Yes
Single Line Question Option : No Option Orientation : Vertical

Correct Marks : 1 Wrong Marks : 0.25

Which of the following Indian site was declared as a UNESCO World Heritage Cultural Site in 2018?

Options :

1. ✖ The Jantar Mantar, Jaipur
2. ✖ Rani-ki-Vav (the Queen's Stepwell) at Patan, Gujarat
3. ✔ Victorian Gothic and Art Deco Ensembles of Mumbai
4. ✖ Mountain Railways of India

Question Number : 30 Question Id : 1626531045 Question Type : MCQ Option Shuffling : Yes Display Question Number : Yes
Single Line Question Option : No Option Orientation : Vertical

Correct Marks : 1 Wrong Marks : 0.25

2018 में यूनेस्को की विश्व विरासत सांस्कृति में निम्नलिखित में से कौन सा भारतीय स्थल जोड़ा गया है?

Options :

1. ✖ जंतर मंतर, जयपुर
2. ✖ पाटण, गुजरात का रानी-की-वाव (रानी का स्टेपवेल)
3. ✔ मुंबई के विक्टोरियन गोथिक और आर्ट डेको एनसेम्बल
4. ✖ भारत की पर्वतीय रेलवे

Question Number : 31 Question Id : 1626531046 Question Type : MCQ Option Shuffling : Yes Display Question Number : Yes
Single Line Question Option : No Option Orientation : Vertical

Correct Marks : 1 Wrong Marks : 0.25

_____ is expressed as the number of children born to a woman during her entire reproductive age.

Options :

1. ✖ Life expectancy at birth
2. ✖ Crude birth rate
3. ✔ Total fertility rate
4. ✖ Infant mortality rate

Question Number : 31 Question Id : 1626531046 Question Type : MCQ Option Shuffling : Yes Display Question Number : Yes
Single Line Question Option : No Option Orientation : Vertical

Correct Marks : 1 Wrong Marks : 0.25

_____ को महिला की पूरी प्रजनन आयु के दौरान उसको पैदा हुए बच्चों की संख्या के रूप में व्यक्त किया जाता है।

Options :

1. ✖ जन्म के समय जीवन प्रत्याशा
2. ✖ अशोधित जन्म दर
3. ✔ कुल उर्वरकता दर
4. ✖ शिशु मृत्यु दर

Question Number : 32 Question Id : 1626531047 Question Type : MCQ Option Shuffling : Yes Display Question Number : Yes
Single Line Question Option : No Option Orientation : Vertical

Correct Marks : 1 Wrong Marks : 0.25

Which of the following is INCORRECT about 'Monsoon'?

Options :

1. ✖ The term 'Monsoon' has been derived from the Arabic *mawsim* or from the Malayan *monsi*.
2. ✖
3. ✔ The monsoons are seasonal winds which reverse their direction of flow with the change of season.
4. ✖ Monsoons flow sea-to-land during winter.
5. ✖ Monsoons play a crucial role in the rainfall in India.

Question Number : 32 Question Id : 1626531047 Question Type : MCQ Option Shuffling : Yes Display Question Number : Yes
Single Line Question Option : No Option Orientation : Vertical

Correct Marks : 1 Wrong Marks : 0.25

'मानसून' के बारे में निम्नलिखित में से कौन सा गलत है?

Options :

1. ✖ 'मानसून' शब्द अरबी मौसिम या मलय मोन्सी से लिया गया है।
2. ✖ मानसून मौसमी हवाएं हैं जो मौसम के परिवर्तन के साथ अपने प्रवाह की दिशा को उलट देती हैं।
3. ✔ मानसून सर्दियों के दौरान समुद्र से भूमि की ओर बहते हैं।
4. ✖ मानसून भारत में वर्षा में महत्वपूर्ण भूमिका निभाते हैं।

Question Number : 33 Question Id : 1626531048 Question Type : MCQ Option Shuffling : Yes Display Question Number : Yes
Single Line Question Option : No Option Orientation : Vertical

Correct Marks : 1 Wrong Marks : 0.25

The ratio that relates the change in the money supply to a given change in the monetary base is called the _____.

Options :

1. ✖ monetary base
2. ✔ money multiplier
3. ✖ money increaser
4. ✖ reserved money repo rate

Question Number : 33 Question Id : 1626531048 Question Type : MCQ Option Shuffling : Yes Display Question Number : Yes
Single Line Question Option : No Option Orientation : Vertical

Correct Marks : 1 Wrong Marks : 0.25

मौद्रिक आधार में दिए गए परिवर्तन के लिए धन आपूर्ति में परिवर्तन से संबंधित अनुपात (रेशियो) को _____ कहा जाता है।

Options :

1. ✖ मौद्रिक आधार
2. ✔ पैसा गुणक
3. ✖ पैसा वृद्धिकर्ता
4. ✖ रिजर्व्ड मनी रेपो रेट

Question Number : 34 Question Id : 1626531049 Question Type : MCQ Option Shuffling : Yes Display Question Number : Yes
Single Line Question Option : No Option Orientation : Vertical

Correct Marks : 1 Wrong Marks : 0.25

The base year of the All-India Wholesale Price Index (WPI) is revised in 2017. The new base year is _____.

Options :

1. ✖ 2010-12
2. ✔ 2011-12
3. ✖ 2012-13
4. ✖ 2013-14

Question Number : 34 Question Id : 1626531049 Question Type : MCQ Option Shuffling : Yes Display Question Number : Yes
Single Line Question Option : No Option Orientation : Vertical

Correct Marks : 1 Wrong Marks : 0.25

अखिल भारतीय थोक मूल्य सूचकांक (WPI) का आधार वर्ष 2017 में संशोधन किया जाता है। नया आधार वर्ष _____ है।

Options :

1. ✖ 2010-12
2. ✔ 2011-12
3. ✖ 2012-13
4. ✖ 2013-14

Question Number : 35 Question Id : 1626531050 Question Type : MCQ Option Shuffling : Yes Display Question Number : Yes
Single Line Question Option : No Option Orientation : Vertical

Correct Marks : 1 Wrong Marks : 0.25

Trachoma is a disease of which human organ?

Options :

1. ✖ Ear
2. ✔ Eye
3. ✖ Heart
4. ✖ Kidney

Question Number : 35 Question Id : 1626531050 Question Type : MCQ Option Shuffling : Yes Display Question Number : Yes
Single Line Question Option : No Option Orientation : Vertical

Correct Marks : 1 Wrong Marks : 0.25

ट्रेकोमा मानव के कौन से अंग का एक रोग है?

Options :

1. ✖ कान
2. ✔ आंख
3. ✖ हृदय
4. ✖ गुर्दा

Question Number : 36 Question Id : 1626531051 Question Type : MCQ Option Shuffling : Yes Display Question Number : Yes
Single Line Question Option : No Option Orientation : Vertical

Correct Marks : 1 Wrong Marks : 0.25

Dynamo converts:

Options :

1. ✖ sound energy into electrical energy
2. ✖ electrical energy into sound energy
3. ✔ mechanical energy into electrical energy
4. ✖ electrical energy into mechanical energy

Question Number : 36 Question Id : 1626531051 Question Type : MCQ Option Shuffling : Yes Display Question Number : Yes
Single Line Question Option : No Option Orientation : Vertical

Correct Marks : 1 Wrong Marks : 0.25

डायनेमो _____ रूपांतरित करता है।

Options :

1. ✖ ध्वनि ऊर्जा को विद्युत ऊर्जा में
2. ✖ विद्युत ऊर्जा को ध्वनि ऊर्जा में
3. ✔ यांत्रिक ऊर्जा को विद्युत ऊर्जा में
4. ✖ विद्युत ऊर्जा को यांत्रिक ऊर्जा में

Question Number : 37 Question Id : 1626531052 Question Type : MCQ Option Shuffling : Yes Display Question Number : Yes
Single Line Question Option : No Option Orientation : Vertical

Correct Marks : 1 Wrong Marks : 0.25

The Indian Space Research Organisation (ISRO) on 16 Sept 2018 successfully launched two satellites in the orbit.
Which statement is INCORRECT about the launch mission?

Options :

1. ✔ A PSLV-C40 was successfully used in the mission.
2. ✖ NovaSAR and S1-4 were two foreign satellites that were launched into orbit.
3. ✖ PSLV was launched from the Satish Dhawan Space Centre (SDSC) SHAR, Sriharikota.
4. ✖ The satellites belonged to UK-based Surrey Satellite Technology Limited (SSTL).

Question Number : 37 Question Id : 1626531052 Question Type : MCQ Option Shuffling : Yes Display Question Number : Yes
Single Line Question Option : No Option Orientation : Vertical

Correct Marks : 1 Wrong Marks : 0.25

16 सितंबर 2018 को भारतीय अंतरिक्ष अनुसंधान संगठन (इसरो) ने दो उपग्रहों को सफलतापूर्वक कक्षा में छोड़ा। लॉन्च मिशन के बारे में कौन सा कथन गलत है?

Options :

1. ☒ PSLV-C40 का मिशन में सफलतापूर्वक उपयोग किया गया।
2. ☐ NovaSAR और S1-4 दो विदेशी उपग्रह थे जिन्हें कक्षा में छोड़ा गया।
3. ☐ PSLV को सतीश धवन अंतरिक्ष केंद्र (SDSC) SHAR, श्रीहरिकोटा से छोड़ा गया।
4. ☐ उपग्रह UK स्थित सरे सैटेलाइट टेक्नोलॉजी लिमिटेड (SSTL) का हैं।

Question Number : 38 Question Id : 1626531053 Question Type : MCQ Option Shuffling : Yes Display Question Number : Yes
Single Line Question Option : No Option Orientation : Vertical

Correct Marks : 1 Wrong Marks : 0.25

Who is considered the father of the Indian space programme?

Options :

1. ☐ Jawaharlal Nehru
2. ☐ Rakesh Sharma
3. ☒ Dr Vikram A Sarabhai
4. ☐ Dr Homi Bhabha

Question Number : 38 Question Id : 1626531053 Question Type : MCQ Option Shuffling : Yes Display Question Number : Yes
Single Line Question Option : No Option Orientation : Vertical

Correct Marks : 1 Wrong Marks : 0.25

किन्हें 'भारतीय अंतरिक्ष कार्यक्रम का जनक' कहा जाता है?

Options :

1. ☐ जवाहरलाल नेहरू
2. ☐ राकेश शर्मा
3. ☒ डॉ विक्रम ए. साराभाई
4. ☐ डॉ होमी भाभा

Question Number : 39 Question Id : 1626531054 Question Type : MCQ Option Shuffling : Yes Display Question Number : Yes
Single Line Question Option : No Option Orientation : Vertical

Correct Marks : 1 Wrong Marks : 0.25

Which information about the Organization of the Petroleum Exporting Countries (OPEC) is INCORRECT?

Options :

1. ✖ It is a permanent, intergovernmental organisation.
2. ✖ It was founded at the Baghdad Conference on September 10–14, 1960.
3. ✖ Its five founder countries are Iran, Iraq, Kuwait, Saudi Arabia and Venezuela.
4. ✔ Its headquarters are situated in Baghdad.

Question Number : 39 Question Id : 1626531054 Question Type : MCQ Option Shuffling : Yes Display Question Number : Yes
Single Line Question Option : No Option Orientation : Vertical

Correct Marks : 1 Wrong Marks : 0.25

पेट्रोलियम निर्यात करने वाले देशों (OPEC) के संगठन के बारे में कौन सी जानकारी गलत है?

Options :

1. ✖ यह एक स्थायी, अंतर-सरकारी संगठन है।
2. ✖ इसकी स्थापना 10-14 सितंबर, 1960 को बगदाद सम्मेलन में की गई।
3. ✖ इसके पांच संस्थापक देश ईरान, इराक, कुवैत, सऊदी अरब और वेनेजुएला हैं।
4. ✔ इसका मुख्यालय बगदाद में स्थित है।

Question Number : 40 Question Id : 1626531055 Question Type : MCQ Option Shuffling : Yes Display Question Number : Yes
Single Line Question Option : No Option Orientation : Vertical

Correct Marks : 1 Wrong Marks : 0.25

Which organization awards the Nobel Laureates in Chemistry?

Options :

1. ✖ The Royal Swedish Academy of Chemical Sciences
2. ✖ The Nobel Foundation of Sweden
3. ✔ The Royal Swedish Academy of Sciences
4. ✖ Norwegian Nobel Committee

Question Number : 40 Question Id : 1626531055 Question Type : MCQ Option Shuffling : Yes Display Question Number : Yes
Single Line Question Option : No Option Orientation : Vertical

Correct Marks : 1 Wrong Marks : 0.25

कौन सा संगठन रसायन शास्त्र में नोबेल पुरस्कार प्रदान करता है?

Options :

1. ✖ रॉयल स्वीडिश एकेडमी ऑफ केमिकल साइंसेज
2. ✖ स्वीडन का नोबेल फाउंडेशन
3. ✔ रॉयल स्वीडिश एकेडमी ऑफ साइंसेज
4. ✖ नॉर्वेजियाई नोबेल समिति

	Arithmetic Ability
Group Number :	3
Group Id :	16265353
Group Maximum Duration :	0
Group Minimum Duration :	0
Revisit allowed for view? :	No
Revisit allowed for edit? :	No
Break time:	0
Group Marks:	20
Revisit allowed for group Instructions? :	Yes
Maximum Instruction Time:	0
Minimum Instruction Time:	0

	Arithmetic Ability
Section Id :	16265353
Section Number :	1
Section type :	Online
Mandatory or Optional:	Mandatory
Number of Questions:	19
Number of Questions to be attempted:	19
Section Marks:	20
Display Number Panel:	Yes
Group All Questions:	No

Sub-Section Number:	1
Sub-Section Id:	16265369
Question Shuffling Allowed :	Yes

Question Number : 41 Question Id : 1626531056 Question Type : MCQ Option Shuffling : Yes Display Question Number : Yes
Single Line Question Option : No Option Orientation : Vertical

Correct Marks : 1 Wrong Marks : 0.25

The value of $(46.7)^3 - (41.7)^3 - 140.1 \times 208.5$ is:

Options :

- 1. ✖ 27
- 2. ✖ 64
- 3. ✔ 125
- 4. ✖ 175

Question Number : 41 Question Id : 1626531056 Question Type : MCQ Option Shuffling : Yes Display Question Number : Yes
Single Line Question Option : No Option Orientation : Vertical

Correct Marks : 1 Wrong Marks : 0.25

$(46.7)^3 - (41.7)^3 - 140.1 \times 208.5$ का मान क्या होगा?

Options :

- 1. ✖ 27
- 2. ✖ 64
- 3. ✔ 125
- 4. ✖ 175

Question Number : 42 Question Id : 1626531057 Question Type : MCQ Option Shuffling : Yes Display Question Number : Yes
Single Line Question Option : No Option Orientation : Vertical

Correct Marks : 1 Wrong Marks : 0.25

The digit in the unit place of $(24)^{63} + (33)^{61} - (27)^{58}$ is:

Options :

- 1. ✖ 3
- 2. ✖ 4
- 3. ✖ 6
- 4. ✔ 8

Question Number : 42 Question Id : 1626531057 Question Type : MCQ Option Shuffling : Yes Display Question Number : Yes
Single Line Question Option : No Option Orientation : Vertical

Correct Marks : 1 Wrong Marks : 0.25

$(24)^{63} + (33)^{61} - (27)^{58}$ में इकाई स्थान में कौन सा अंक है?

Options :

1. ✖ 3

2. ✖ 4

3. ✖ 6

4. ✔ 8

Question Number : 43 Question Id : 1626531058 Question Type : MCQ Option Shuffling : Yes Display Question Number : Yes
Single Line Question Option : No Option Orientation : Vertical

Correct Marks : 1 Wrong Marks : 0.25

What is the sum of digits of the least number which should be subtracted from 94832 to make it a perfect square?

Options :

1. ✖ 15

2. ✔ 16

3. ✖ 17

4. ✖ 18

Question Number : 43 Question Id : 1626531058 Question Type : MCQ Option Shuffling : Yes Display Question Number : Yes
Single Line Question Option : No Option Orientation : Vertical

Correct Marks : 1 Wrong Marks : 0.25

लघुत्तम संख्या के अंकों का वह योग क्या है जिसे 94832 में से घटाया जाना चाहिए जिससे वह एक पूर्ण वर्ग बन जाये?

Options :

1. ✖ 15

2. ✔ 16

3. ✖ 17

4. ✖ 18

Question Number : 44 Question Id : 1626531059 Question Type : MCQ Option Shuffling : Yes Display Question Number : Yes
Single Line Question Option : No Option Orientation : Vertical

Correct Marks : 1 Wrong Marks : 0.25

What is the value of $2.\overline{6} - 1.\overline{84} + 0.4\overline{27}$?

Options :

1. ✔ $1.2\overline{45}$

2. ✖ $1.\overline{335}$

3. ✖ $1.\overline{356}$

4. ✖ $1.\overline{385}$

Question Number : 44 Question Id : 1626531059 Question Type : MCQ Option Shuffling : Yes Display Question Number : Yes
Single Line Question Option : No Option Orientation : Vertical

Correct Marks : 1 Wrong Marks : 0.25

$2.\overline{6} - 1.\overline{84} + 0.4\overline{27}$ का मान क्या होगा?

Options :

1. ✔ $1.24\overline{5}$

2. ✖ $1.\overline{335}$

3. ✖ $1.\overline{356}$

4. ✖ $1.\overline{385}$

Question Number : 45 Question Id : 1626531060 Question Type : MCQ Option Shuffling : Yes Display Question Number : Yes
Single Line Question Option : No Option Orientation : Vertical

Correct Marks : 1 Wrong Marks : 0.25

The HCF of two numbers is 24 and their product is 17280. How many such pair of numbers are possible?

Options :

1. ✖ 3

2. ✔ 4

3. ✖ 5

4. ✖ 8

Question Number : 45 Question Id : 1626531060 Question Type : MCQ Option Shuffling : Yes Display Question Number : Yes
Single Line Question Option : No Option Orientation : Vertical

Correct Marks : 1 Wrong Marks : 0.25

दो संख्याओं का महत्तम समापवर्तक 24 है और उनका गुणनफल 17280 है। संख्याओं के ऐसे कितने युग्म/जोड़े संभव हैं?

Options :

1. ✖ 3

2. ✓ 4

3. ✗ 5

4. ✗ 8

Question Number : 46 Question Id : 1626531061 Question Type : MCQ Option Shuffling : Yes Display Question Number : Yes
Single Line Question Option : No Option Orientation : Vertical

Correct Marks : 1 Wrong Marks : 0.25

The average weight of 180 students in a college is 56 kg. The average weight of boys and girls is 60 kg and 50 kg respectively. What is the ratio of the boys to the girls?

Options :

1. ✗ 2 : 3

2. ✓ 3 : 2

3. ✗ 3 : 4

4. ✗ 4 : 3

Question Number : 46 Question Id : 1626531061 Question Type : MCQ Option Shuffling : Yes Display Question Number : Yes
Single Line Question Option : No Option Orientation : Vertical

Correct Marks : 1 Wrong Marks : 0.25

एक कालेज में 180 छात्रों का औसत वजन 56 kg है. लड़कों और लड़कियों का औसत वजन क्रमशः 60 kg और 50 kg है। लड़कों और लड़कियों का अनुपात कितना है?

Options :

1. ✗ 2 : 3

2. ✓ 3 : 2

3. ✗ 3 : 4

4. ✗ 4 : 3

Question Number : 47 Question Id : 1626531062 Question Type : MCQ Option Shuffling : Yes Display Question Number : Yes
Single Line Question Option : No Option Orientation : Vertical

Correct Marks : 1 Wrong Marks : 0.25

A sum of ₹ 17,520 is divided among A, B and C such that 6 times A's share, 7 times B's share and 8 times C's share are equal. What is the share of B?

Options :

1. ✗ ₹ 5,040

2. ✓ ₹ 5,760

3. ✗ ₹ 6,240

4. ✗ ₹ 6,720

Question Number : 47 Question Id : 1626531062 Question Type : MCQ Option Shuffling : Yes Display Question Number : Yes
Single Line Question Option : No Option Orientation : Vertical

Correct Marks : 1 Wrong Marks : 0.25

₹ 17,520 की धनराशि A, B और C में इस तरह से बांटी जाती है कि A के हिस्से का 6 गुना, B के हिस्से का 7 गुना और C के हिस्से का 8 गुना बराबर हैं। B का हिस्सा कितना है?

Options :

1. ✗ ₹ 5,040

2. ✓ ₹ 5,760

3. ✗ ₹ 6,240

4. ✗ ₹ 6,720

Question Number : 48 Question Id : 1626531063 Question Type : MCQ Option Shuffling : Yes Display Question Number : Yes
Single Line Question Option : No Option Orientation : Vertical

Correct Marks : 1 Wrong Marks : 0.25

Two vessels A and B contain spirit and water in the ratio 5 : 6 and 9 : 13 respectively. Their contents are mixed in the ratio 2 : 3. What is the ratio of spirit and water in the new mixture?

Options :

1. ✗ 55 : 63

2. ✗ 63 : 55

3. ✓ 47 : 63

4. ✗ 63 : 47

Question Number : 48 Question Id : 1626531063 Question Type : MCQ Option Shuffling : Yes Display Question Number : Yes
Single Line Question Option : No Option Orientation : Vertical

Correct Marks : 1 Wrong Marks : 0.25

दो पात्रों A और B में क्रमशः 5 : 6 और 9 : 13 के अनुपात में स्पिरिट और पानी है। उनकी सामग्रियों को 2 : 3 के अनुपात में मिश्रित किया जाता है। नये मिश्रण में स्पिरिट और पानी का अनुपात क्या होगा?

Options :

1. ✗ 55 : 63

2. ✖ 63 : 55

3. ✔ 47 : 63

4. ✖ 63 : 47

Question Number : 49 Question Id : 1626531064 Question Type : MCQ Option Shuffling : Yes Display Question Number : Yes
Single Line Question Option : No Option Orientation : Vertical

Correct Marks : 1 Wrong Marks : 0.25

400 students appeared in an examination. If 68% passed in mathematics, 62% passed in science and 22% failed in both subjects, how many students passed in both subjects?

Options :

1. ✖ 152

2. ✔ 208

3. ✖ 220

4. ✖ 248

Question Number : 49 Question Id : 1626531064 Question Type : MCQ Option Shuffling : Yes Display Question Number : Yes
Single Line Question Option : No Option Orientation : Vertical

Correct Marks : 1 Wrong Marks : 0.25

एक परीक्षा में 400 छात्र बैठे। यदि 68% छात्र गणित में, 62% छात्र विज्ञान में और 22% छात्र दोनों विषयों में अनुत्तीर्ण हुए, तो दोनों विषयों में कितने छात्र उत्तीर्ण हुए?

Options :

1. ✖ 152

2. ✔ 208

3. ✖ 220

4. ✖ 248

Question Number : 50 Question Id : 1626531065 Question Type : MCQ Option Shuffling : Yes Display Question Number : Yes
Single Line Question Option : No Option Orientation : Vertical

Correct Marks : 1 Wrong Marks : 0.25

By selling 12 articles, a person loses the cost price of 3 articles. What is his percentage loss?

Options :

1. ✖ $\frac{50}{3}\%$

2. ✖ 16%

3. ✖ 20%

4. ✔ 25%

Question Number : 50 Question Id : 1626531065 Question Type : MCQ Option Shuffling : Yes Display Question Number : Yes
Single Line Question Option : No Option Orientation : Vertical

Correct Marks : 1 Wrong Marks : 0.25

12 वस्तुएं बेचने पर एक व्यक्ति को 3 वस्तुओं के लागत मूल्य की हानि होती है। उसका हानि प्रतिशत कितना है?

Options :

1. ✖ $\frac{50}{3}\%$

2. ✖ 16%

3. ✖ 20%

4. ✔ 25%

Question Number : 51 Question Id : 1626531066 Question Type : MCQ Option Shuffling : Yes Display Question Number : Yes
Single Line Question Option : No Option Orientation : Vertical

Correct Marks : 1 Wrong Marks : 0.25

An article is sold at a certain price. By selling it at $\frac{5}{6}$ of that price, one loses 5%. What is his percentage gain or loss at the original price?

Options :

1. ✖ 6% loss

2. ✖ 14% loss

3. ✖ 6% gain

4. ✔ 14% gain

Question Number : 51 Question Id : 1626531066 Question Type : MCQ Option Shuffling : Yes Display Question Number : Yes
Single Line Question Option : No Option Orientation : Vertical

Correct Marks : 1 Wrong Marks : 0.25

कोई वस्तु एक निश्चित मूल्य पर बेची जाती है। उस मूल्य के $\frac{5}{6}$ पर उसे बेचने पर विक्रेता को 5% की हानि होती है। मूल मूल्य पर उसका लाभ या हानि प्रतिशत कितना है?

Options :

1. ✖ 6% हानि

2. ✖ 14% हानि

3. ✖ 6% लाभ

4. ✔ 14% लाभ

Question Number : 52 Question Id : 1626531067 Question Type : MCQ Option Shuffling : Yes Display Question Number : Yes
Single Line Question Option : No Option Orientation : Vertical

Correct Marks : 1 Wrong Marks : 0.25

The value of a machine depreciates at the rate of 9% per annum. If the present value of the machine is ₹ 1,800, what is the percentage decrease in its value at the end of 2 years?

Options :

1. ✔ 17.19%

2. ✖ 16.81%

3. ✖ 16.26%

4. ✖ 16.16%

Question Number : 52 Question Id : 1626531067 Question Type : MCQ Option Shuffling : Yes Display Question Number : Yes
Single Line Question Option : No Option Orientation : Vertical

Correct Marks : 1 Wrong Marks : 0.25

एक मशीन का मूल्य 9% प्रति वर्ष की दर से हासित होता है। अगर मशीन का वर्तमान मूल्य ₹ 1,800 हो, तो 2 वर्षों की समाप्ति पर उसके मूल्य में प्रतिशत कमी कितनी होगी?

Options :

1. ✔ 17.19%

2. ✖ 16.81%

3. ✖ 16.26%

4. ✖ 16.16%

Question Number : 53 Question Id : 1626531068 Question Type : MCQ Option Shuffling : Yes Display Question Number : Yes
Single Line Question Option : No Option Orientation : Vertical

Correct Marks : 1 Wrong Marks : 0.25

The diagonal of a rectangle is $16\sqrt{5}$ cm. If its perimeter is 96 cm, what is the area of the rectangle in cm^2 ?

Options :

1. ✖ 256

2. ✔ 512

3. ✖ 640

4. ✖ 1280

Question Number : 53 Question Id : 1626531068 Question Type : MCQ Option Shuffling : Yes Display Question Number : Yes
Single Line Question Option : No Option Orientation : Vertical

Correct Marks : 1 Wrong Marks : 0.25

एक आयत का विकर्ण $16\sqrt{5}$ cm है। अगर उसका परिमाण 96 cm है तो आयत का क्षेत्रफल कितने cm^2 है?

Options :

1. ✖ 256

2. ✔ 512

3. ✖ 640

4. ✖ 1280

Question Number : 54 Question Id : 1626531069 Question Type : MCQ Option Shuffling : Yes Display Question Number : Yes
Single Line Question Option : No Option Orientation : Vertical

Correct Marks : 1 Wrong Marks : 0.25

8 cubes each of edge 2 cm are joined end to end to form a cuboid. What will be the percentage decrease in the surface area correct to one decimal place?

Options :

1. ✖ 24.5%

2. ✖ 28.8%

3. ✔ 29.2%

4. ✖ 30.8%

Question Number : 54 Question Id : 1626531069 Question Type : MCQ Option Shuffling : Yes Display Question Number : Yes
Single Line Question Option : No Option Orientation : Vertical

Correct Marks : 1 Wrong Marks : 0.25

प्रत्येक 2 cm कोर वाले 8 घनों को एक घनाभ बनाने के लिए आद्योपांत जोड़ा जाता है। सतह क्षेत्रफल में कितने प्रतिशत कमी होगी? (एक दशमलव स्थान तक सही)

Options :

1. ✖ 24.5%

2. ✖ 28.8%

3. ✔ 29.2%

4. ✖ 30.8%

Question Number : 55 Question Id : 1626531070 Question Type : MCQ Option Shuffling : Yes Display Question Number : Yes
Single Line Question Option : No Option Orientation : Vertical

Correct Marks : 1 Wrong Marks : 0.25

A, B and C can complete a job individually in 20, 30 and 60 days respectively. They started the work together but A left 5 days before the scheduled completion of the job. In how many days will the remaining job be completed by B and C?

Options :

1. ✖ 8

2. ✔ 10

3. ✖ 12

4. ✖ 15

Question Number : 55 Question Id : 1626531070 Question Type : MCQ Option Shuffling : Yes Display Question Number : Yes
Single Line Question Option : No Option Orientation : Vertical

Correct Marks : 1 Wrong Marks : 0.25

A, B और C किसी काम को क्रमशः 20, 30 और 60 दिनों में पूरा कर सकते हैं। उन्होंने एक साथ काम शुरू किया लेकिन A ने काम पूरा होने के निर्धारित समय से 5 दिन पहले काम छोड़ दिया। B और C द्वारा बाकी काम को कितने दिन में पूरा कर लिया जायेगा?

Options :

1. ✖ 8

2. ✔ 10

3. ✖ 12

4. ✖ 15

Question Number : 56 Question Id : 1626531071 Question Type : MCQ Option Shuffling : Yes Display Question Number : Yes
Single Line Question Option : No Option Orientation : Vertical

Correct Marks : 1 Wrong Marks : 0.25

If 18 men working 7 hours a day earn ₹ 1,38,600 in 20 days, then 15 men working 8 hours a day will earn how much money in 25 days?

Options :

1. ✔ ₹ 1,65,000

2. ✖ ₹ 1,59,000

3. ✖ ₹ 1,53,000

4. ✖ ₹ 1,47,000

Question Number : 56 Question Id : 1626531071 Question Type : MCQ Option Shuffling : Yes Display Question Number : Yes
Single Line Question Option : No Option Orientation : Vertical

Correct Marks : 1 Wrong Marks : 0.25

अगर दिन में 7 घंटे काम करके 18 आदमी 20 दिन में ₹ 1,38,600 कमाते हैं, तो दिन में 8 घंटे काम करके 15 आदमी 25 दिन में कितना पैसा कमा सकेंगे?

Options :

1. ✔ ₹ 1,65,000

2. ✖ ₹ 1,59,000

3. ✖ ₹ 1,53,000

4. ✖ ₹ 1,47,000

Question Number : 57 Question Id : 1626531072 Question Type : MCQ Option Shuffling : Yes Display Question Number : Yes
Single Line Question Option : No Option Orientation : Vertical

Correct Marks : 1 Wrong Marks : 0.25

A boat can go 18 km upstream and 24 km downstream in 2 hours 42 minutes. If the speed of stream is 4 km/h, what is the speed of boat in still water in km/h?

Options :

1. ✖ 12

2. ✖ 14

3. ✖ 15

4. ✔ 16

Question Number : 57 Question Id : 1626531072 Question Type : MCQ Option Shuffling : Yes Display Question Number : Yes
Single Line Question Option : No Option Orientation : Vertical

Correct Marks : 1 Wrong Marks : 0.25

एक नौका 2 h 42 min में 18 km ऊर्ध्वप्रवाह और 24 km अनुप्रवाह जा सकती है। यदि धारा का वेग 4 km/h है, तो स्थिर पानी में नौका की गति km/h में कितनी है?

Options :

1. ✖ 12

2. ✖ 14

3. ✖ 15

4. ✓ 16

Question Number : 58 Question Id : 1626531073 Question Type : MCQ Option Shuffling : Yes Display Question Number : Yes
Single Line Question Option : No Option Orientation : Vertical

Correct Marks : 1 Wrong Marks : 0.25

A train WITHOUT stoppage travels at a speed of 70 km/h and with stoppage it travels at an average of 63 km/h. How many minutes does the train stop on an average per hour?

Options :

1. ✗ 12

2. ✗ 10

3. ✗ 8

4. ✓ 6

Question Number : 58 Question Id : 1626531073 Question Type : MCQ Option Shuffling : Yes Display Question Number : Yes
Single Line Question Option : No Option Orientation : Vertical

Correct Marks : 1 Wrong Marks : 0.25

एक रेलगाड़ी पड़ाव के बिना 70 km/h की रफ़्तार से चलती है और पड़ाव के साथ 63 km/h की रफ़्तार से चलती है। रेलगाड़ी प्रति घंटे औसतन कितने मिनट रुकती है?

Options :

1. ✗ 12

2. ✗ 10

3. ✗ 8

4. ✓ 6

Sub-Section Number:	2
Sub-Section Id:	16265370
Question Shuffling Allowed :	Yes

Question Id : 1626531074 Question Type : COMPREHENSION Sub Question Shuffling Allowed : Yes Group Comprehension Questions : No

Question Numbers : (59 to 60)

Question Label : Comprehension

The following table gives the marks obtained by students in the given class interval. Read the table and answer the following questions.

Class Interval	0 – 10	10 – 20	20 – 30	30 – 40	40 – 50	50 – 60
Number of Students	15	26	35	40	20	14

Sub questions

Question Number : 59 Question Id : 1626531075 Question Type : MCQ Option Shuffling : Yes Display Question Number : Yes
Single Line Question Option : No Option Orientation : Vertical
Correct Marks : 1 Wrong Marks : 0.25

What are the mean marks obtained by the students?

Options :

- 1. ✓ 29.4
- 2. ✗ 30.8
- 3. ✗ 32.6
- 4. ✗ 34.8

Question Number : 60 Question Id : 1626531076 Question Type : MCQ Option Shuffling : Yes Display Question Number : Yes
Single Line Question Option : No Option Orientation : Vertical
Correct Marks : 1 Wrong Marks : 0.25

If the data is represented as a pie-chart, what is the central angle of the sector representing the median class to the nearest whole degree?

Options :

- 1. ✗ 96°
- 2. ✓ 84°
- 3. ✗ 62°
- 4. ✗ 48°

Question Id : 1626531074 Question Type : COMPREHENSION Sub Question Shuffling Allowed : Yes Group Comprehension Questions : No
Question Numbers : (59 to 60)
Question Label : Comprehension

निम्नलिखित तालिका निर्दिष्ट वर्ग अंतरालों में छात्रों द्वारा प्राप्त अंक दर्शाती है। तालिका पढ़कर निम्न प्रश्नों के उत्तर दें।

वर्ग अंतराल	0-10	10-20	20-30	30-40	40-50	50-60
छात्रों की संख्या	15	26	35	40	20	14

Sub questions

Question Number : 59 Question Id : 1626531075 Question Type : MCQ Option Shuffling : Yes Display Question Number : Yes
Single Line Question Option : No Option Orientation : Vertical
Correct Marks : 1 Wrong Marks : 0.25

छात्रों द्वारा प्राप्त माध्य अंक क्या हैं?

Options :

- ✓ 29.4
- ✗ 30.8
- ✗ 32.6
- ✗ 34.8

Question Number : 60 Question Id : 1626531076 Question Type : MCQ Option Shuffling : Yes Display Question Number : Yes
Single Line Question Option : No Option Orientation : Vertical
Correct Marks : 1 Wrong Marks : 0.25

यदि डेटा को पाई चार्ट के रूप में प्रस्तुत किया जाता है तो माध्यिका वर्ग का प्रतिनिधित्व करने वाले क्षेत्र का केन्द्रीय कोण निकटतम पूर्ण अंश में कितना होगा?

Options :

- ✗ 96°
- ✓ 84°
- ✗ 62°
- ✗ 48°

General English

Group Number :	4
Group Id :	16265354
Group Maximum Duration :	0
Group Minimum Duration :	0
Revisit allowed for view? :	No
Revisit allowed for edit? :	No
Break time:	0
Group Marks:	20
Revisit allowed for group Instructions? :	Yes
Maximum Instruction Time:	0
Minimum Instruction Time:	0

General English

Section Id :	16265354
Section Number :	1
Section type :	Online
Mandatory or Optional:	Mandatory
Number of Questions:	16
Number of Questions to be attempted:	16
Section Marks:	20
Display Number Panel:	Yes
Group All Questions:	No

Sub-Section Number:	1
Sub-Section Id:	16265371
Question Shuffling Allowed :	Yes

Question Number : 61 Question Id : 1626531077 Question Type : MCQ Option Shuffling : Yes Display Question Number : Yes
Single Line Question Option : No Option Orientation : Vertical

Correct Marks : 1 Wrong Marks : 0.25

Identify the punctuation mark that should end the given sentence.

Did the man find his dog

Options :

1. ✓ ?

2. ✗ .

3. ✗ "

4. ✗ !

Question Number : 61 Question Id : 1626531077 Question Type : MCQ Option Shuffling : Yes Display Question Number : Yes
Single Line Question Option : No Option Orientation : Vertical

Correct Marks : 1 Wrong Marks : 0.25

Identify the punctuation mark that should end the given sentence.

Did the man find his dog

Options :

1. ✓ ?

2. ✗ .

3. ✗ "

4. ✗ !

Question Number : 62 Question Id : 1626531078 Question Type : MCQ Option Shuffling : Yes Display Question Number : Yes
Single Line Question Option : No Option Orientation : Vertical

Correct Marks : 1 Wrong Marks : 0.25

Identify the correct contracted form of I am.

Options :

1. ✗ 'am

2. ✓ I'm

3. ✗ 'm

4. ✗ I'

Question Number : 62 Question Id : 1626531078 Question Type : MCQ Option Shuffling : Yes Display Question Number : Yes
Single Line Question Option : No Option Orientation : Vertical

Correct Marks : 1 Wrong Marks : 0.25

Identify the correct contracted form of I am.

Options :

1. ✗ 'am

2. ✓ I'm

3. ✗ 'm

4. ✗ I'

Question Number : 63 Question Id : 1626531079 Question Type : MCQ Option Shuffling : Yes Display Question Number : Yes
Single Line Question Option : No Option Orientation : Vertical

Correct Marks : 1 Wrong Marks : 0.25

Choose the sentence that does NOT have a mistake in it.

Options :

1. ✖ Sukhi love her mom.
2. ✖ I need to get new job.
3. ✔ I am from El Salvador.
4. ✖ Krishna am nice.

Question Number : 63 Question Id : 1626531079 Question Type : MCQ Option Shuffling : Yes Display Question Number : Yes
Single Line Question Option : No Option Orientation : Vertical

Correct Marks : 1 Wrong Marks : 0.25

Choose the sentence that does NOT have a mistake in it.

Options :

1. ✖ Sukhi love her mom.
2. ✖ I need to get new job.
3. ✔ I am from El Salvador.
4. ✖ Krishna am nice.

Question Number : 64 Question Id : 1626531080 Question Type : MCQ Option Shuffling : Yes Display Question Number : Yes
Single Line Question Option : No Option Orientation : Vertical

Correct Marks : 1 Wrong Marks : 0.25

Choose the sentence that does NOT have a mistake in it.

Options :

1. ✖ You see the game last night?
2. ✖ When we leaving?
3. ✖ Ravi need to go to the store.
4. ✔ Vaishnavi is my friend.

Question Number : 64 Question Id : 1626531080 Question Type : MCQ Option Shuffling : Yes Display Question Number : Yes
Single Line Question Option : No Option Orientation : Vertical

Correct Marks : 1 Wrong Marks : 0.25

Choose the sentence that does NOT have a mistake in it.

Options :

1. ✖ You see the game last night?

2. ✖ When we leaving?

3. ✖ Ravi need to go to the store.

4. ✔ Vaishnavi is my friend.

Question Number : 65 Question Id : 1626531081 Question Type : MCQ Option Shuffling : Yes Display Question Number : Yes
Single Line Question Option : No Option Orientation : Vertical

Correct Marks : 1 Wrong Marks : 0.25

Choose the correct option to fill in the blank and complete the given sentence.

The _____ house was built in the eighteenth century.

Options :

1. ✖ hoary

2. ✖ mild

3. ✖ bent

4. ✔ grim

Question Number : 65 Question Id : 1626531081 Question Type : MCQ Option Shuffling : Yes Display Question Number : Yes
Single Line Question Option : No Option Orientation : Vertical

Correct Marks : 1 Wrong Marks : 0.25

Choose the correct option to fill in the blank and complete the given sentence.

The _____ house was built in the eighteenth century.

Options :

1. ✖ hoary

2. ✖ mild

3. ✖ bent

4. ✔ grim

Question Number : 66 Question Id : 1626531082 Question Type : MCQ Option Shuffling : Yes Display Question Number : Yes
Single Line Question Option : No Option Orientation : Vertical

Correct Marks : 1 Wrong Marks : 0.25

Choose the correct option to fill in the blank and complete the given sentence.

You probably enjoy the _____ hike you take up the side of a mountain.

Options :

1. ✖ enervating
2. ✔ bracing
3. ✖ incapacitating
4. ✖ tiresome

Question Number : 66 Question Id : 1626531082 Question Type : MCQ Option Shuffling : Yes Display Question Number : Yes
Single Line Question Option : No Option Orientation : Vertical

Correct Marks : 1 Wrong Marks : 0.25

Choose the correct option to fill in the blank and complete the given sentence.

You probably enjoy the _____ hike you take up the side of a mountain.

Options :

1. ✖ enervating
2. ✔ bracing
3. ✖ incapacitating
4. ✖ tiresome

Question Number : 67 Question Id : 1626531083 Question Type : MCQ Option Shuffling : Yes Display Question Number : Yes
Single Line Question Option : No Option Orientation : Vertical

Correct Marks : 1 Wrong Marks : 0.25

You'll know it when you meet voluble talkers: they just keep going on and on about their favourite subjects.

What does the word voluble mean in the above sentence?

Options :

1. ✖ Taciturn
2. ✖ Inexpressive
3. ✔ Garrulous
4. ✖ Concise

Question Number : 67 Question Id : 1626531083 Question Type : MCQ Option Shuffling : Yes Display Question Number : Yes
Single Line Question Option : No Option Orientation : Vertical

Correct Marks : 1 Wrong Marks : 0.25

You'll know it when you meet voluble talkers: they just keep going on and on about their favourite subjects.

What does the word voluble mean in the above sentence?

Options :

1. ✖ Taciturn
2. ✖ Inexpressive
3. ✔ Garrulous
4. ✖ Concise

Question Number : 68 Question Id : 1626531084 Question Type : MCQ Option Shuffling : Yes Display Question Number : Yes
Single Line Question Option : No Option Orientation : Vertical

Correct Marks : 1 Wrong Marks : 0.25

Choose the correct option to fill in the blank and complete the given sentence.

He is asking for a just _____ for the work he has done.

Options :

1. ✖ exchequer
2. ✖ correspondence
3. ✖ equivalence
4. ✔ recompense

Question Number : 68 Question Id : 1626531084 Question Type : MCQ Option Shuffling : Yes Display Question Number : Yes
Single Line Question Option : No Option Orientation : Vertical

Correct Marks : 1 Wrong Marks : 0.25

Choose the correct option to fill in the blank and complete the given sentence.

He is asking for a just _____ for the work he has done.

Options :

1. ✖ exchequer
2. ✖ correspondence
3. ✖ equivalence
4. ✔ recompense


Question Number : 69 Question Id : 1626531085 Question Type : MCQ Option Shuffling : Yes Display Question Number : Yes
Single Line Question Option : No Option Orientation : Vertical


Correct Marks : 1 Wrong Marks : 0.25


Choose the correct option to fill in the blank and complete the given sentence.


Political parties often _____ particular neighbourhoods, looking for votes and trying to measure the pulse of the people.

Options :

1.  canvass

2.  transit

3.  precede

4.  predate


Question Number : 69 Question Id : 1626531085 Question Type : MCQ Option Shuffling : Yes Display Question Number : Yes
Single Line Question Option : No Option Orientation : Vertical


Correct Marks : 1 Wrong Marks : 0.25


Choose the correct option to fill in the blank and complete the given sentence.


Political parties often _____ particular neighbourhoods, looking for votes and trying to measure the pulse of the people.

Options :

1.  canvass

2.  transit

3.  precede

4.  predate


Question Number : 70 Question Id : 1626531086 Question Type : MCQ Option Shuffling : Yes Display Question Number : Yes
Single Line Question Option : No Option Orientation : Vertical

Correct Marks : 1 Wrong Marks : 0.25

Select the correct ANTONYM of the following word.

CORPOREAL

Options :

1.  Incarnate

2.  Mental

3. ✖ Somatic

4. ✖ Embodied

Question Number : 70 Question Id : 1626531086 Question Type : MCQ Option Shuffling : Yes Display Question Number : Yes
Single Line Question Option : No Option Orientation : Vertical

Correct Marks : 1 Wrong Marks : 0.25

Select the correct ANTONYM of the following word.

CORPOREAL

Options :

1. ✖ Incarnate

2. ✔ Mental

3. ✖ Somatic

4. ✖ Embodied

Question Number : 71 Question Id : 1626531087 Question Type : MCQ Option Shuffling : Yes Display Question Number : Yes
Single Line Question Option : No Option Orientation : Vertical

Correct Marks : 1 Wrong Marks : 0.25

Select the correct synonym of the following word.

EXIGENT

Options :

1. ✖ Suppliant

2. ✖ Lenient

3. ✔ Imperative

4. ✖ Adjuratory

Question Number : 71 Question Id : 1626531087 Question Type : MCQ Option Shuffling : Yes Display Question Number : Yes
Single Line Question Option : No Option Orientation : Vertical

Correct Marks : 1 Wrong Marks : 0.25

Select the correct synonym of the following word.

EXIGENT

Options :

1. ✖ Suppliant

- 2. ✖ Lenient
- 3. ✔ Imperative
- 4. ✖ Adjuratory

Question Number : 72 Question Id : 1626531088 Question Type : MCQ Option Shuffling : Yes Display Question Number : Yes
Single Line Question Option : No Option Orientation : Vertical

Correct Marks : 1 Wrong Marks : 0.25

Select the correct ANTONYM of the following word.

HAZY

Options :

- 1. ✖ Cloudy
- 2. ✖ Foggy
- 3. ✖ Sunny
- 4. ✔ Lucid

Question Number : 72 Question Id : 1626531088 Question Type : MCQ Option Shuffling : Yes Display Question Number : Yes
Single Line Question Option : No Option Orientation : Vertical

Correct Marks : 1 Wrong Marks : 0.25

Select the correct ANTONYM of the following word.

HAZY

Options :

- 1. ✖ Cloudy
- 2. ✖ Foggy
- 3. ✖ Sunny
- 4. ✔ Lucid

Question Number : 73 Question Id : 1626531089 Question Type : MCQ Option Shuffling : Yes Display Question Number : Yes
Single Line Question Option : No Option Orientation : Vertical

Correct Marks : 1 Wrong Marks : 0.25

Select the correct synonym of the following word.

DECOROUS

Options :

1. ☒ Seemly
2. ☐ Unbecoming
3. ☐ Uncomely
4. ☐ Improper

Question Number : 73 Question Id : 1626531089 Question Type : MCQ Option Shuffling : Yes Display Question Number : Yes
Single Line Question Option : No Option Orientation : Vertical

Correct Marks : 1 Wrong Marks : 0.25

Select the correct synonym of the following word.

DECOROUS

Options :

1. ☒ Seemly
2. ☐ Unbecoming
3. ☐ Uncomely
4. ☐ Improper

Question Number : 74 Question Id : 1626531090 Question Type : MCQ Option Shuffling : Yes Display Question Number : Yes
Single Line Question Option : No Option Orientation : Vertical

Correct Marks : 1 Wrong Marks : 0.25

Select the correct ANTONYM of the following word.

PROSCRIBE

Options :

1. ☐ Debar
2. ☒ Legalise
3. ☐ Enjoin
4. ☐ Interdict

Question Number : 74 Question Id : 1626531090 Question Type : MCQ Option Shuffling : Yes Display Question Number : Yes
Single Line Question Option : No Option Orientation : Vertical

Correct Marks : 1 Wrong Marks : 0.25

Select the correct ANTONYM of the following word.

PROSCRIBE

Options :

1. ✖ Debar
2. ✔ Legalise
3. ✖ Enjoin
4. ✖ Interdict

Question Number : 75 Question Id : 1626531091 Question Type : MCQ Option Shuffling : Yes Display Question Number : Yes
Single Line Question Option : No Option Orientation : Vertical

Correct Marks : 1 Wrong Marks : 0.25

Select the correct synonym of the following word.

PANDEMONIUM

Options :

1. ✖ Opacity
2. ✖ Concord
3. ✔ Chaos
4. ✖ Organised

Question Number : 75 Question Id : 1626531091 Question Type : MCQ Option Shuffling : Yes Display Question Number : Yes
Single Line Question Option : No Option Orientation : Vertical

Correct Marks : 1 Wrong Marks : 0.25

Select the correct synonym of the following word.

PANDEMONIUM

Options :

1. ✖ Opacity
2. ✖ Concord
3. ✔ Chaos
4. ✖ Organised

Sub-Section Number:	2
Sub-Section Id:	16265372
Question Shuffling Allowed :	Yes

Question Id : 1626531092 Question Type : COMPREHENSION Sub Question Shuffling Allowed : Yes Group Comprehension Questions : No

Question Numbers : (76 to 80)

Question Label : Comprehension

Read the following passage and answer the questions based on it.

Rescue workers are hunting for survivors after a powerful earthquake hit the Indonesian island of Sulawesi and triggered a tsunami, killing at least 384 people. After the 7.5-magnitude earthquake hit on Friday, 28 September 2018, water smashed into buildings and swept away homes in the coastal city of Palu city, home to 350,000 people. More than 540 people are being treated in several local hospitals amid the massive destruction in Palu and 29 people are missing.

The death toll could climb in the coming days, Disaster Management Agency, BNPB, spokesman Sutopo Purwo Nugroho warned at a briefing in Jakarta.

Electricity and communications have been cut off, making it difficult to assess the damage in Palu and nearby fishing community of Donggala, Sutopo said.

“It is not just the people in the large urban areas. There are a lot of people also living in remote communities who are hard to reach” Jan Gelfand, head of the International Red Cross in Indonesia, said.

With Palu airport closed, relief workers have to make their way to Palu by road. Sulawesi is one of the biggest islands in the world and the drive from the nearest airport is around 10-12 hours, but what damage there is to the road infrastructure is not yet known.

In Palu, authorities are still urging residents to not go inside their homes and sleep away from buildings — in fields, on roads or in yards because of the danger from aftershocks.

The horrific scene began Friday when the first in a series of tremors was felt at 3 p.m. (3 a.m. ET) 35 miles (56 km) north of Palu, according to the United States Geological Survey.

Three quakes of 4.9 and larger magnitudes were recorded up to three hours before the tremor near Palu, the USGS said.

Hundreds of people had gathered for a festival on the beach in the city of Palu on Friday when waves as high as six metres (18 feet) smashed onshore at dusk. “When the (tsunami) threat arose yesterday, people were still doing their activities on the beach and did not immediately run and they became victims, The tsunami was “about three meters high,” Sutopo Nugroho said.

A series of aftershock quakes were reported in the aftermath of the quake, including a 5.8 magnitude tremor just 12 minutes later.

An early tsunami warning had been issued by the Indonesian meteorological agency, but was later lifted after the agency ascertained that the water had receded.

Indonesia sits on the Pacific Ring of Fire and is regularly hit by earthquakes. In August, a series of major quakes killed more than 500 people in the tourist island of Lombok and destroyed dozens of villages along its northern coast. Palu was hit by a tsunami in 1927 and 1968, according to the BNPB.

Question Number : 76 Question Id : 1626531093 Question Type : MCQ Option Shuffling : Yes Display Question Number : Yes
Single Line Question Option : No Option Orientation : Vertical

Correct Marks : 1 Wrong Marks : 0.25

In Palu, authorities are urging residents to NOT to sleep:

Options :

1. ✖ in yards
2. ✖ on the roads
3. ✔ inside buildings
4. ✖ in the fields

Question Number : 77 Question Id : 1626531094 Question Type : MCQ Option Shuffling : Yes Display Question Number : Yes
Single Line Question Option : No Option Orientation : Vertical

Correct Marks : 1 Wrong Marks : 0.25

Why did the people NOT evacuate the beach in spite of the warning issued by the Indonesian Meteorological Agency?

Options :

1. ✖ People had no faith in the warning issued by the agency.
2. ✔ The warning was issued earlier but was withdrawn later.
3. ✖ People are not in the habit of listening to warnings by different agencies.
4. ✖ People were busy in their festivities.

Question Number : 78 Question Id : 1626531095 Question Type : MCQ Option Shuffling : Yes Display Question Number : Yes
Single Line Question Option : No Option Orientation : Vertical

Correct Marks : 1 Wrong Marks : 0.25

At which place was the maximum damage done by the tsunami?

Options :

1. ✔ The city of Palu
2. ✖ The fishing village of Donggala

3. ✖ The tourist island of Lombok

4. ✖ The city of Jakarta

Question Number : 79 Question Id : 1626531096 Question Type : MCQ Option Shuffling : Yes Display Question Number : Yes
Single Line Question Option : No Option Orientation : Vertical

Correct Marks : 1 Wrong Marks : 0.25

Which statement is NOT true according to the passage?

Options :

1. ✖ Indonesia is regularly hit by earthquakes.

2. ✖ People were warned about the tsunami but the warning was withdrawn.

3. ✖ A number of earthquakes of different magnitudes hit Palu before the tsunami.

4. ✔ The whole island of Sulawesi has been badly damaged by the earthquakes and the tsunami.

Question Number : 80 Question Id : 1626531097 Question Type : MCQ Option Shuffling : Yes Display Question Number : Yes
Single Line Question Option : No Option Orientation : Vertical

Correct Marks : 1 Wrong Marks : 0.25

Sutopo Nugroho is the spokesperson of which agency?

Options :

1. ✖ Indonesian Meteorological Agency

2. ✖ International Red Cross in Indonesia

3. ✔ Disaster Management Agency of Indonesia (BNPB)

4. ✖ The United States Geological Survey

Question Id : 1626531092 Question Type : COMPREHENSION Sub Question Shuffling Allowed : Yes Group Comprehension Questions : No

Question Numbers : (76 to 80)

Question Label : Comprehension

Read the following passage and answer the questions based on it.

Rescue workers are hunting for survivors after a powerful earthquake hit the Indonesian island of Sulawesi and triggered a tsunami, killing at least 384 people. After the 7.5-magnitude earthquake hit on Friday, 28 September 2018, water smashed into buildings and swept away homes in the coastal city of Palu city, home to 350,000 people. More than 540 people are being treated in several local hospitals amid the massive destruction in Palu and 29 people are missing.

The death toll could climb in the coming days, Disaster Management Agency, BNPB, spokesman Sutopo Purwo Nugroho warned at a briefing in Jakarta.

Electricity and communications have been cut off, making it difficult to assess the damage in Palu and nearby fishing community of Donggala, Sutopo said.

“It is not just the people in the large urban areas. There are a lot of people also living in remote communities who are hard to reach” Jan Gelfand, head of the International Red Cross in Indonesia, said.

With Palu airport closed, relief workers have to make their way to Palu by road. Sulawesi is one of the biggest islands in the world and the drive from the nearest airport is around 10-12 hours, but what damage there is to the road infrastructure is not yet known.

In Palu, authorities are still urging residents to not go inside their homes and sleep away from buildings — in fields, on roads or in yards because of the danger from aftershocks.

The horrific scene began Friday when the first in a series of tremors was felt at 3 p.m. (3 a.m. ET) 35 miles (56 km) north of Palu, according to the United States Geological Survey.

Three quakes of 4.9 and larger magnitudes were recorded up to three hours before the tremor near Palu, the USGS said.

Hundreds of people had gathered for a festival on the beach in the city of Palu on Friday when waves as high as six metres (18 feet) smashed onshore at dusk. “When the (tsunami) threat arose yesterday, people were still doing their activities on the beach and did not immediately run and they became victims, The tsunami was “about three meters high,” Sutopo Nugroho said.

A series of aftershock quakes were reported in the aftermath of the quake, including a 5.8 magnitude tremor just 12 minutes later.

An early tsunami warning had been issued by the Indonesian meteorological agency, but was later lifted after the agency ascertained that the water had receded.

Indonesia sits on the Pacific Ring of Fire and is regularly hit by earthquakes. In August, a series of major quakes killed more than 500 people in the tourist island of Lombok and destroyed dozens of villages along its northern coast. Palu was hit by a tsunami in 1927 and 1968, according to the BNPB.

Question Number : 76 Question Id : 1626531093 Question Type : MCQ Option Shuffling : Yes Display Question Number : Yes
Single Line Question Option : No Option Orientation : Vertical

Correct Marks : 1 Wrong Marks : 0.25

In Palu, authorities are urging residents to NOT to sleep:

Options :

1. ✖ in yards
2. ✖ on the roads
3. ✔ inside buildings
4. ✖ in the fields

Question Number : 77 Question Id : 1626531094 Question Type : MCQ Option Shuffling : Yes Display Question Number : Yes
Single Line Question Option : No Option Orientation : Vertical

Correct Marks : 1 Wrong Marks : 0.25

Why did the people NOT evacuate the beach in spite of the warning issued by the Indonesian Meteorological Agency?

Options :

1. ✖ People had no faith in the warning issued by the agency.
2. ✔ The warning was issued earlier but was withdrawn later.
3. ✖ People are not in the habit of listening to warnings by different agencies.
4. ✖ People were busy in their festivities.

Question Number : 78 Question Id : 1626531095 Question Type : MCQ Option Shuffling : Yes Display Question Number : Yes
Single Line Question Option : No Option Orientation : Vertical

Correct Marks : 1 Wrong Marks : 0.25

At which place was the maximum damage done by the tsunami?

Options :

1. ✔ The city of Palu
2. ✖ The fishing village of Donggala

3. ✖ The tourist island of Lombok

4. ✖ The city of Jakarta

Question Number : 79 Question Id : 1626531096 Question Type : MCQ Option Shuffling : Yes Display Question Number : Yes
Single Line Question Option : No Option Orientation : Vertical

Correct Marks : 1 Wrong Marks : 0.25

Which statement is NOT true according to the passage?

Options :

1. ✖ Indonesia is regularly hit by earthquakes.

2. ✖ People were warned about the tsunami but the warning was withdrawn.

3. ✖ A number of earthquakes of different magnitudes hit Palu before the tsunami.

4. ✔ The whole island of Sulawesi has been badly damaged by the earthquakes and the tsunami.

Question Number : 80 Question Id : 1626531097 Question Type : MCQ Option Shuffling : Yes Display Question Number : Yes
Single Line Question Option : No Option Orientation : Vertical

Correct Marks : 1 Wrong Marks : 0.25

Sutopo Nugroho is the spokesperson of which agency?

Options :

1. ✖ Indonesian Meteorological Agency

2. ✖ International Red Cross in Indonesia

3. ✔ Disaster Management Agency of Indonesia (BNPB)

4. ✖ The United States Geological Survey

General Hindi

Group Number :	5
Group Id :	16265355
Group Maximum Duration :	0
Group Minimum Duration :	0
Revisit allowed for view? :	No

Revisit allowed for edit? :	No
Break time:	0
Group Marks:	20
Revisit allowed for group Instructions? :	Yes
Maximum Instruction Time:	0
Minimum Instruction Time:	0

General Hindi

Section Id :	16265355
Section Number :	1
Section type :	Online
Mandatory or Optional:	Mandatory
Number of Questions:	16
Number of Questions to be attempted:	16
Section Marks:	20
Display Number Panel:	Yes
Group All Questions:	No

Sub-Section Number:	1
Sub-Section Id:	16265373
Question Shuffling Allowed :	Yes

Question Id : 1626531098 Question Type : COMPREHENSION Sub Question Shuffling Allowed : Yes Group Comprehension Questions : No

Question Numbers : (81 to 85)

Question Label : Comprehension

नीचे दिये गए गद्यांश को पढ़कर पूछे गये प्रश्नों के उत्तर दीजिए।

प्रसाद के ऐतिहासिक नाटकों पर अपने समय अर्थात् 20वीं सदी की समस्याओं का पूरा प्रभाव है। नाटक राष्ट्रीयता, अतीत गौरव की भावना से पूर्ण हैं। सांप्रदायिक एकता, विश्वबंधुत्व की भावना भी दिखाई पड़ती है जिसे अंतर्राष्ट्रीय भावना भी कह सकते हैं। चंद्रगुप्त नाटक (1931) में एक ओर तो राजनीतिक चालें और चाणक्य का सूत्र-संचालन है, और दूसरी ओर उसका इन सबसे विरक्त ब्राह्मण-व्यक्तित्व है। इससे उस पात्र में अंतर्द्वंद्व तो आ ही गया है, शील वैचित्य भी आ गया है। स्कंदगुप्त (1928) की देवसेना ठेठ छायावादी पात्र है।

Sub questions

Question Number : 81 Question Id : 1626531099 Question Type : MCQ Option Shuffling : Yes Display Question Number : Yes Single Line Question Option : No Option Orientation : Vertical

Correct Marks : 1 Wrong Marks : 0.25

प्रसाद का समय है:

Options :

1. ✖ 18वीं सदी

2. ✖ 19वीं सदी

3. ✔ 20वीं सदी

4. ✖ 21वीं सदी

Question Number : 82 Question Id : 1626531100 Question Type : MCQ Option Shuffling : Yes Display Question Number : Yes
Single Line Question Option : No Option Orientation : Vertical

Correct Marks : 1 Wrong Marks : 0.25

प्रसाद के नाटकों का विशेषता नहीं है:

Options :

1. ✖ राष्ट्रीयता

2. ✖ अतीत गौरव की भावना

3. ✖ सांप्रदायिकता एकता

4. ✔ वैमनस्य की भावना

Question Number : 83 Question Id : 1626531101 Question Type : MCQ Option Shuffling : Yes Display Question Number : Yes
Single Line Question Option : No Option Orientation : Vertical

Correct Marks : 1 Wrong Marks : 0.25

चन्द्रगुप्त का प्रकाशन वर्ष है:

Options :

1. ✖ 1928

2. ✔ 1931

3. ✖ 1934

4. ✖ 1937

Question Number : 84 Question Id : 1626531102 Question Type : MCQ Option Shuffling : Yes Display Question Number : Yes
Single Line Question Option : No Option Orientation : Vertical

Correct Marks : 1 Wrong Marks : 0.25

चाणक्य का संबंध किस नाटक से है?

Options :

1. ✓ चन्द्रगुप्त
2. ✗ ध्रुवस्वामिनी
3. ✗ अजातशत्रु
4. ✗ स्कन्दगुप्त

Question Number : 85 Question Id : 1626531103 Question Type : MCQ Option Shuffling : Yes Display Question Number : Yes
Single Line Question Option : No Option Orientation : Vertical

Correct Marks : 1 Wrong Marks : 0.25

देवसेना का संबंध किस नाटक से है?

Options :

1. ✗ चन्द्रगुप्त
2. ✓ स्कन्दगुप्त
3. ✗ राज्यश्री
4. ✗ ध्रुवस्वामिनी

Question Id : 1626531098 Question Type : COMPREHENSION Sub Question Shuffling Allowed : Yes Group Comprehension
Questions : No

Question Numbers : (81 to 85)

Question Label : Comprehension

नीचे दिये गए गद्यांश को पढ़कर पूछे गये प्रश्नों के उत्तर दीजिए।

प्रसाद के ऐतिहासिक नाटकों पर अपने समय अर्थात् 20वीं सदी की समस्याओं का पूरा प्रभाव है। नाटक राष्ट्रीयता, अतीत गौरव की भावना से पूर्ण हैं। सांप्रदायिक एकता, विश्वबंधुत्व की भावना भी दिखाई पड़ती है जिसे अंतर्राष्ट्रीय भावना भी कह सकते हैं।

चंद्रगुप्त नाटक (1931) में एक ओर तो राजनीतिक चालें और चाणक्य का सूत्र-संचालन है, और दूसरी ओर उसका इन सबसे विरक्त ब्राह्मण-व्यक्तित्व है। इससे उस पात्र में अंतर्द्वंद्व तो आ ही गया है, शील वैचित्य भी आ गया है। स्कंदगुप्त (1928) की देवसेना ठेठ छायावादी पात्र है।

Sub questions

Question Number : 81 Question Id : 1626531099 Question Type : MCQ Option Shuffling : Yes Display Question Number : Yes
Single Line Question Option : No Option Orientation : Vertical

Correct Marks : 1 Wrong Marks : 0.25

प्रसाद का समय है:

Options :

1. ✖ 18वीं सदी
2. ✖ 19वीं सदी
3. ✔ 20वीं सदी
4. ✖ 21वीं सदी

Question Number : 82 Question Id : 1626531100 Question Type : MCQ Option Shuffling : Yes Display Question Number : Yes
Single Line Question Option : No Option Orientation : Vertical

Correct Marks : 1 Wrong Marks : 0.25

प्रसाद के नाटकों का विशेषता नहीं है:

Options :

1. ✖ राष्ट्रीयता
2. ✖ अतीत गौरव की भावना
3. ✖ सांप्रदायिकता एकता
4. ✔ वैमनस्य की भावना

Question Number : 83 Question Id : 1626531101 Question Type : MCQ Option Shuffling : Yes Display Question Number : Yes
Single Line Question Option : No Option Orientation : Vertical

Correct Marks : 1 Wrong Marks : 0.25

चन्द्रगुप्त का प्रकाशन वर्ष है:

Options :

1. ✖ 1928
2. ✔ 1931
3. ✖ 1934
4. ✖ 1937

Question Number : 84 Question Id : 1626531102 Question Type : MCQ Option Shuffling : Yes Display Question Number : Yes
Single Line Question Option : No Option Orientation : Vertical

Correct Marks : 1 Wrong Marks : 0.25

चाणक्य का संबंध किस नाटक से है?

Options :

1. ☒ चन्द्रगुप्त
2. ☐ ध्रुवस्वामिनी
3. ☐ अजातशत्रु
4. ☐ स्कन्दगुप्त

Question Number : 85 Question Id : 1626531103 Question Type : MCQ Option Shuffling : Yes Display Question Number : Yes
Single Line Question Option : No Option Orientation : Vertical

Correct Marks : 1 Wrong Marks : 0.25

देवसेना का संबंध किस नाटक से है?

Options :

1. ☐ चन्द्रगुप्त
2. ☒ स्कन्दगुप्त
3. ☐ राज्यश्री
4. ☐ ध्रुवस्वामिनी

Sub-Section Number: 2
Sub-Section Id: 16265374
Question Shuffling Allowed : Yes

Question Number : 86 Question Id : 1626531104 Question Type : MCQ Option Shuffling : Yes Display Question Number : Yes
Single Line Question Option : No Option Orientation : Vertical

Correct Marks : 1 Wrong Marks : 0.25

निम्नलिखित में तत्सम शब्द कौन सा है?

Options :

1. ☒ दन्त
2. ☐ दाढ़ी

3. ✖ दाई

4. ✖ दही

Question Number : 86 Question Id : 1626531104 Question Type : MCQ Option Shuffling : Yes Display Question Number : Yes
Single Line Question Option : No Option Orientation : Vertical

Correct Marks : 1 Wrong Marks : 0.25

निम्नलिखित में तत्सम शब्द कौन सा है?

Options :

1. ✔ दन्त

2. ✖ दाढ़ी

3. ✖ दाई

4. ✖ दही

Question Number : 87 Question Id : 1626531105 Question Type : MCQ Option Shuffling : Yes Display Question Number : Yes
Single Line Question Option : No Option Orientation : Vertical

Correct Marks : 1 Wrong Marks : 0.25

निम्नलिखित में कौन सा शब्द तद्भव है?

Options :

1. ✖ चैत्र

2. ✖ चतुर्थ

3. ✔ चौदह

4. ✖ चूर्ण

Question Number : 87 Question Id : 1626531105 Question Type : MCQ Option Shuffling : Yes Display Question Number : Yes
Single Line Question Option : No Option Orientation : Vertical

Correct Marks : 1 Wrong Marks : 0.25

निम्नलिखित में कौन सा शब्द तद्भव है?

Options :

1. ✖ चैत्र

2. ✖ चतुर्थ

3. ✔ चौदह

4. ✖ चूर्ण

Question Number : 88 Question Id : 1626531106 Question Type : MCQ Option Shuffling : Yes Display Question Number : Yes
Single Line Question Option : No Option Orientation : Vertical

Correct Marks : 1 Wrong Marks : 0.25

निम्नलिखित में कौन सा शब्द देशज है?

Options :

1. ✖ उम्मीद

2. ✖ आदत

3. ✖ क्लास

4. ✔ कलाई

Question Number : 88 Question Id : 1626531106 Question Type : MCQ Option Shuffling : Yes Display Question Number : Yes
Single Line Question Option : No Option Orientation : Vertical

Correct Marks : 1 Wrong Marks : 0.25

निम्नलिखित में कौन सा शब्द देशज है?

Options :

1. ✖ उम्मीद

2. ✖ आदत

3. ✖ क्लास

4. ✔ कलाई

Question Number : 89 Question Id : 1626531107 Question Type : MCQ Option Shuffling : Yes Display Question Number : Yes
Single Line Question Option : No Option Orientation : Vertical

Correct Marks : 1 Wrong Marks : 0.25

‘लड़का’ किस प्रकार की संज्ञा है?

Options :

1. ✖ पदार्थवाचक

2. ✖ भाववाचक

3. ✔ जातिवाचक

4. ✖ व्यक्तिवाचक

Question Number : 89 Question Id : 1626531107 Question Type : MCQ Option Shuffling : Yes Display Question Number : Yes
Single Line Question Option : No Option Orientation : Vertical

Correct Marks : 1 Wrong Marks : 0.25

‘लड़का’ किस प्रकार की संज्ञा है?

Options :

1. ✖ पदार्थवाचक

2. ✖ भाववाचक

3. ✔ जातिवाचक

4. ✖ व्यक्तिवाचक

Question Number : 90 Question Id : 1626531108 Question Type : MCQ Option Shuffling : Yes Display Question Number : Yes
Single Line Question Option : No Option Orientation : Vertical

Correct Marks : 1 Wrong Marks : 0.25

‘तिरछा’ किस प्रकार का विशेषण है?

Options :

1. ✖ सार्वनामिक

2. ✖ परिमाण बोधक

3. ✔ गुणवाचक

4. ✖ संख्यावाचक

Question Number : 90 Question Id : 1626531108 Question Type : MCQ Option Shuffling : Yes Display Question Number : Yes
Single Line Question Option : No Option Orientation : Vertical

Correct Marks : 1 Wrong Marks : 0.25

‘तिरछा’ किस प्रकार का विशेषण है?

Options :

1. ✖ सार्वनामिक

2. ✖ परिमाण बोधक

3. ✔ गुणवाचक

4. ✖ संख्यावाचक

Question Number : 91 Question Id : 1626531109 Question Type : MCQ Option Shuffling : Yes Display Question Number : Yes
Single Line Question Option : No Option Orientation : Vertical

Correct Marks : 1 Wrong Marks : 0.25

‘उच्छिष्ट’ का संधि विच्छेद होगा:

Options :

1. ✔ उत् + शिष्ट

2. ✖ उत् + छिष्ट

3. ✖ उच् + शिष्ट

4. ✖ उच् + छिष्ट

Question Number : 91 Question Id : 1626531109 Question Type : MCQ Option Shuffling : Yes Display Question Number : Yes
Single Line Question Option : No Option Orientation : Vertical

Correct Marks : 1 Wrong Marks : 0.25

‘उच्छिष्ट’ का संधि विच्छेद होगा:

Options :

1. ✔ उत् + शिष्ट

2. ✖ उत् + छिष्ट

3. ✖ उच् + शिष्ट

4. ✖ उच् + छिष्ट

Question Number : 92 Question Id : 1626531110 Question Type : MCQ Option Shuffling : Yes Display Question Number : Yes
Single Line Question Option : No Option Orientation : Vertical

Correct Marks : 1 Wrong Marks : 0.25

‘प्रत्यंग’ में कौन सा समास है?

Options :

1. ✖ तत्पुरुष
2. ✖ द्विगु
3. ✖ द्वंद्व
4. ✔ अव्ययीभाव

Question Number : 92 Question Id : 1626531110 Question Type : MCQ Option Shuffling : Yes Display Question Number : Yes
Single Line Question Option : No Option Orientation : Vertical

Correct Marks : 1 Wrong Marks : 0.25

‘प्रत्यंग’ में कौन सा समास है?

Options :

1. ✖ तत्पुरुष
2. ✖ द्विगु
3. ✖ द्वंद्व
4. ✔ अव्ययीभाव

Question Number : 93 Question Id : 1626531111 Question Type : MCQ Option Shuffling : Yes Display Question Number : Yes
Single Line Question Option : No Option Orientation : Vertical

Correct Marks : 1 Wrong Marks : 0.25

निम्नलिखित में से कौन सा शब्द स्त्रीलिंग है?

Options :

1. ✖ संन्यास
2. ✖ संपर्क
3. ✔ सजा
4. ✖ सम्बन्ध

Question Number : 93 Question Id : 1626531111 Question Type : MCQ Option Shuffling : Yes Display Question Number : Yes
Single Line Question Option : No Option Orientation : Vertical

Correct Marks : 1 Wrong Marks : 0.25

निम्नलिखित में से कौन सा शब्द स्त्रीलिंग है?

Options :

1. ✖ संन्यास

2. ✖ संपर्क

3. ✔ सजा

4. ✖ सम्बन्ध

Question Number : 94 Question Id : 1626531112 Question Type : MCQ Option Shuffling : Yes Display Question Number : Yes
Single Line Question Option : No Option Orientation : Vertical

Correct Marks : 1 Wrong Marks : 0.25

‘संग्राम’ में उपसर्ग है?

Options :

1. ✖ सन्

2. ✔ सम्

3. ✖ स

4. ✖ ग्राम

Question Number : 94 Question Id : 1626531112 Question Type : MCQ Option Shuffling : Yes Display Question Number : Yes
Single Line Question Option : No Option Orientation : Vertical

Correct Marks : 1 Wrong Marks : 0.25

‘संग्राम’ में उपसर्ग है?

Options :

1. ✖ सन्

2. ✔ सम्

3. ✖ स

4. ✖ ग्राम

Question Number : 95 Question Id : 1626531113 Question Type : MCQ Option Shuffling : Yes Display Question Number : Yes
Single Line Question Option : No Option Orientation : Vertical

Correct Marks : 1 Wrong Marks : 0.25

‘भावुक’ में प्रत्यय है:

Options :

1. ✖ भा

2. ✖ क

3. ✖ वुक

4. ✔ उक

Question Number : 95 Question Id : 1626531113 Question Type : MCQ Option Shuffling : Yes Display Question Number : Yes
Single Line Question Option : No Option Orientation : Vertical

Correct Marks : 1 Wrong Marks : 0.25

‘भावुक’ में प्रत्यय है:

Options :

1. ✖ भा

2. ✖ क

3. ✖ वुक

4. ✔ उक

Question Number : 96 Question Id : 1626531114 Question Type : MCQ Option Shuffling : Yes Display Question Number : Yes
Single Line Question Option : No Option Orientation : Vertical

Correct Marks : 1 Wrong Marks : 0.25

‘पतंग’ किसका पर्यायवाची नहीं है:

Options :

1. ✔ चन्द्र

2. ✖ सूर्य

3. ✖ नौका

4. ✖ पक्षी

Question Number : 96 Question Id : 1626531114 Question Type : MCQ Option Shuffling : Yes Display Question Number : Yes
Single Line Question Option : No Option Orientation : Vertical

Correct Marks : 1 Wrong Marks : 0.25

‘पतंग’ किसका पर्यायवाची नहीं है:

Options :

1. ✔ चन्द्र

2. ✖ सूर्य

3. ✖ नौका

4. ✖ पक्षी

Question Number : 97 Question Id : 1626531115 Question Type : MCQ Option Shuffling : Yes Display Question Number : Yes
Single Line Question Option : No Option Orientation : Vertical
Correct Marks : 1 Wrong Marks : 0.25

‘आलोक’ का विलोम होगा:

Options :

1. ✖ लोक

2. ✖ त्रिलोक

3. ✖ प्रकाश

4. ✔ अंधकार

Question Number : 97 Question Id : 1626531115 Question Type : MCQ Option Shuffling : Yes Display Question Number : Yes
Single Line Question Option : No Option Orientation : Vertical
Correct Marks : 1 Wrong Marks : 0.25

‘आलोक’ का विलोम होगा:

Options :

1. ✖ लोक

2. ✖ त्रिलोक

3. ✖ प्रकाश

4. ✔ अंधकार

Question Number : 98 Question Id : 1626531116 Question Type : MCQ Option Shuffling : Yes Display Question Number : Yes
Single Line Question Option : No Option Orientation : Vertical
Correct Marks : 1 Wrong Marks : 0.25

‘जो न जाना गया हो’ के लिए एक शब्द होगा:

Options :

1. ✖ ज्ञात

2. ✓ अज्ञात
3. ✗ आशातीत
4. ✗ परलोक

Question Number : 98 Question Id : 1626531116 Question Type : MCQ Option Shuffling : Yes Display Question Number : Yes
Single Line Question Option : No Option Orientation : Vertical
Correct Marks : 1 Wrong Marks : 0.25

‘जो न जाना गया हो’ के लिए एक शब्द होगा:

Options :

1. ✗ ज्ञात
2. ✓ अज्ञात
3. ✗ आशातीत
4. ✗ परलोक

Question Number : 99 Question Id : 1626531117 Question Type : MCQ Option Shuffling : Yes Display Question Number : Yes
Single Line Question Option : No Option Orientation : Vertical
Correct Marks : 1 Wrong Marks : 0.25

‘युद्ध के द्वारा लोगों ने बड़ा कष्ट भोगा।’ वाक्य में अशुद्ध अंश है:

Options :

1. ✓ युद्ध के द्वारा
2. ✗ लोगों ने
3. ✗ बड़ा कष्ट
4. ✗ भोगा।

Question Number : 99 Question Id : 1626531117 Question Type : MCQ Option Shuffling : Yes Display Question Number : Yes
Single Line Question Option : No Option Orientation : Vertical
Correct Marks : 1 Wrong Marks : 0.25

‘युद्ध के द्वारा लोगों ने बड़ा कष्ट भोगा।’ वाक्य में अशुद्ध अंश है:

Options :

1. ✓ युद्ध के द्वारा

2. ✖ लोगो ने
3. ✖ बड़ा कष्ट
4. ✖ भोगा।

Question Number : 100 Question Id : 1626531118 Question Type : MCQ Option Shuffling : Yes Display Question Number : Yes
Single Line Question Option : No Option Orientation : Vertical
Correct Marks : 1 Wrong Marks : 0.25

निम्नलिखित में वर्तनी की दृष्टि से शुद्ध शब्द कौन सा है?

Options :

1. ✖ सिसु
2. ✖ सिसू
3. ✔ शिशु
4. ✖ शिशू

Question Number : 100 Question Id : 1626531118 Question Type : MCQ Option Shuffling : Yes Display Question Number : Yes
Single Line Question Option : No Option Orientation : Vertical
Correct Marks : 1 Wrong Marks : 0.25

निम्नलिखित में वर्तनी की दृष्टि से शुद्ध शब्द कौन सा है?

Options :

1. ✖ सिसु
2. ✖ सिसू
3. ✔ शिशु
4. ✖ शिशू

Subject Related

Group Number : 6
Group Id : 16265356
Group Maximum Duration : 0

Group Minimum Duration :	0
Revisit allowed for view? :	No
Revisit allowed for edit? :	No
Break time:	0
Group Marks:	20
Revisit allowed for group Instructions? :	Yes
Maximum Instruction Time:	0
Minimum Instruction Time:	0

Subject Related

Section Id :	16265356
Section Number :	1
Section type :	Online
Mandatory or Optional:	Mandatory
Number of Questions:	20
Number of Questions to be attempted:	20
Section Marks:	20
Display Number Panel:	Yes
Group All Questions:	No

Sub-Section Number:	1
Sub-Section Id:	16265375
Question Shuffling Allowed :	Yes

Question Number : 101 Question Id : 1626531119 Question Type : MCQ Option Shuffling : Yes Display Question Number : Yes
Single Line Question Option : No Option Orientation : Vertical

Correct Marks : 1 Wrong Marks : 0.25

Children in the pre-primary learn best:

Options :

1. ✖ through oral drill
2. ✔ through play
3. ✖ through reading and writing
4. ✖ in a closed room

Question Number : 101 Question Id : 1626531119 Question Type : MCQ Option Shuffling : Yes Display Question Number : Yes
Single Line Question Option : No Option Orientation : Vertical

Correct Marks : 1 Wrong Marks : 0.25

पूर्व -प्राथमिक में बच्चे सर्वश्रेष्ठ निम्न में से किस माध्यम से सीखते हैं?

Options :

1. ✖ मौखिक ड्रिल

2. ☒ खेल के माध्यम से
3. ☐ पढ़ने और लिखने
4. ☐ एक बंद कमरे में

Question Number : 102 Question Id : 1626531120 Question Type : MCQ Option Shuffling : Yes Display Question Number : Yes
Single Line Question Option : No Option Orientation : Vertical

Correct Marks : 1 Wrong Marks : 0.25

The Indian system defines education as:

Options :

1. ☐ a means to earn a living.
2. ☒ training of human soul in pursuit of truth.
3. ☐ acquiring knowledge.
4. ☐ a school for citizenship.

Question Number : 102 Question Id : 1626531120 Question Type : MCQ Option Shuffling : Yes Display Question Number : Yes
Single Line Question Option : No Option Orientation : Vertical

Correct Marks : 1 Wrong Marks : 0.25

भारतीय प्रणाली शिक्षा को निम्न में से किस प्रकार परिभाषित करती है?

Options :

1. ☐ एक जीविका अर्जित करने का साधन
2. ☒ सत्य की खोज में मानव आत्मा का प्रशिक्षण
3. ☐ ज्ञान प्राप्त करना
4. ☐ नागरिकता के लिए एक स्कूल

Question Number : 103 Question Id : 1626531121 Question Type : MCQ Option Shuffling : Yes Display Question Number : Yes
Single Line Question Option : No Option Orientation : Vertical

Correct Marks : 1 Wrong Marks : 0.25

The primacy of NCF in curriculum development and reform is:

Options :

1. ☒ making curriculum inclusive and meaningful to children.

2. ✖ making children thorough with textbooks.
3. ✖ teacher-centered learning.
4. ✖ focussing on socialisation of children.

Question Number : 103 Question Id : 1626531121 Question Type : MCQ Option Shuffling : Yes Display Question Number : Yes
Single Line Question Option : No Option Orientation : Vertical
Correct Marks : 1 Wrong Marks : 0.25

पाठ्यचर्या विकास और सुधार में एनसीएफ (NCF) की प्राथमिकता है:

Options :

1. ✔ बच्चों के लिए पाठ्यचर्या समावेशी और सार्थक बनाना
2. ✖ बच्चों को पाठ्यपुस्तक के साथ पूरी तरह से पढ़ाना
3. ✖ शिक्ष- केंद्रित शिक्षा
4. ✖ बच्चों के सामाजिकरण पर ध्यान केंद्रित करना

Question Number : 104 Question Id : 1626531122 Question Type : MCQ Option Shuffling : Yes Display Question Number : Yes
Single Line Question Option : No Option Orientation : Vertical
Correct Marks : 1 Wrong Marks : 0.25

In a learner-centered classroom, students become:

Options :

1. ✔ creators of knowledge
2. ✖ passive learners
3. ✖ dependent on teachers
4. ✖ non-responsive to learning

Question Number : 104 Question Id : 1626531122 Question Type : MCQ Option Shuffling : Yes Display Question Number : Yes
Single Line Question Option : No Option Orientation : Vertical
Correct Marks : 1 Wrong Marks : 0.25

एक छात्र-केन्द्रित कक्षा में छात्र बन जाते हैं:

Options :

1. ✔ ज्ञान के निर्माता

2. ✖ निष्क्रिय शिक्षार्थी

3. ✖ शिक्षकों पर आश्रित

4. ✖ सीखने के लिए गैर प्रतिक्रियाशील

Question Number : 105 Question Id : 1626531123 Question Type : MCQ Option Shuffling : Yes Display Question Number : Yes
Single Line Question Option : No Option Orientation : Vertical

Correct Marks : 1 Wrong Marks : 0.25

Tabula rasa or the 'blank slate' concept of children's mind was developed by:

Options :

1. ✔ Avicenna

2. ✖ Jean Piaget

3. ✖ Vygotsky

4. ✖ John Dewey

Question Number : 105 Question Id : 1626531123 Question Type : MCQ Option Shuffling : Yes Display Question Number : Yes
Single Line Question Option : No Option Orientation : Vertical

Correct Marks : 1 Wrong Marks : 0.25

तबुला रस या बच्चों के दिमाग की एक खाली स्लेट अवधारणा विकसित की गई

Options :

1. ✔ अविसेना

2. ✖ जीन पियाजे

3. ✖ वाईगोत्स्की

4. ✖ जॉन ड्यूई

Question Number : 106 Question Id : 1626531124 Question Type : MCQ Option Shuffling : Yes Display Question Number : Yes
Single Line Question Option : No Option Orientation : Vertical

Correct Marks : 1 Wrong Marks : 0.25

According to Piaget, one of the methods of motivating a child is 'cognitive conflict' This method is a:

Options :

1. ✖ Schema

2. ✖ Accommodation

3. ✖ Assimilation

4. ✔ Equilibration

Question Number : 106 Question Id : 1626531124 Question Type : MCQ Option Shuffling : Yes Display Question Number : Yes
Single Line Question Option : No Option Orientation : Vertical

Correct Marks : 1 Wrong Marks : 0.25

पियाजे के अनुसार, एक बच्चे को प्रेरित करने के तरीकों में से एक 'संज्ञानात्मक संघर्ष' है। इस विधि को कहा जाता है:

Options :

1. ✖ योजना

2. ✖ निवास

3. ✖ परिपाक

4. ✔ संतुलन

Question Number : 107 Question Id : 1626531125 Question Type : MCQ Option Shuffling : Yes Display Question Number : Yes
Single Line Question Option : No Option Orientation : Vertical

Correct Marks : 1 Wrong Marks : 0.25

According to Piaget, the concrete operational period ranges between:

Options :

1. ✖ 18-24 months

2. ✖ 2 years - 7 years

3. ✔ 7 years - 11 years

4. ✖ Above 11 years

Question Number : 107 Question Id : 1626531125 Question Type : MCQ Option Shuffling : Yes Display Question Number : Yes
Single Line Question Option : No Option Orientation : Vertical

Correct Marks : 1 Wrong Marks : 0.25

पियाजे के अनुसार ठोस परिचालन अवधि निम्न में से किस उम्र के बीच होती है?

Options :

1. ✖ 18-24 महीने

2. ✖ 2 साल - 7 साल
3. ✔ 7 साल - 11 साल
4. ✖ 11 साल से ऊपर

Question Number : 108 Question Id : 1626531126 Question Type : MCQ Option Shuffling : Yes Display Question Number : Yes
Single Line Question Option : No Option Orientation : Vertical

Correct Marks : 1 Wrong Marks : 0.25

‘Children develop egocentrism,’ says Piaget. In which stage does this happen?

Options :

1. ✔ Pre-operational stage
2. ✖ Sensory motor stage
3. ✖ Concrete operational stage
4. ✖ Formal operational stage

Question Number : 108 Question Id : 1626531126 Question Type : MCQ Option Shuffling : Yes Display Question Number : Yes
Single Line Question Option : No Option Orientation : Vertical

Correct Marks : 1 Wrong Marks : 0.25

पियाजे कहते हैं, बच्चे उदासीनता विकसित करते हैं। 'यह किस चरण में होता है?

Options :

1. ✔ पूर्व परिचालन चरण
2. ✖ संवेदी मोटर मंच
3. ✖ ठोस परिचालन चरण
4. ✖ औपचारिक परिचालन चरण

Question Number : 109 Question Id : 1626531127 Question Type : MCQ Option Shuffling : Yes Display Question Number : Yes
Single Line Question Option : No Option Orientation : Vertical

Correct Marks : 1 Wrong Marks : 0.25

The three major domains of human development are:

Options :

1. ✔ physical, cognitive and psychosocial

- 2. ✖ physical, emotional and spiritual
- 3. ✖ cognitive, emotional and social
- 4. ✖ cognitive, spiritual and emotional

Question Number : 109 Question Id : 1626531127 Question Type : MCQ Option Shuffling : Yes Display Question Number : Yes
Single Line Question Option : No Option Orientation : Vertical
Correct Marks : 1 Wrong Marks : 0.25

मानव विकास के तीन प्रमुख क्षेत्र हैं:

Options :

- 1. ✔ शारीरिक ,संज्ञानात्मक और मनोवैज्ञानिक
- 2. ✖ शारीरिक ,भावनात्मक और आध्यात्मिक
- 3. ✖ संज्ञानात्मक ,भावनात्मक और सामाजिक
- 4. ✖ संज्ञानात्मक ,आध्यात्मिक और भावनात्मक

Question Number : 110 Question Id : 1626531128 Question Type : MCQ Option Shuffling : Yes Display Question Number : Yes
Single Line Question Option : No Option Orientation : Vertical
Correct Marks : 1 Wrong Marks : 0.25

A child playing with Lego blocks tries various combinations and successfully constructs an engine. What method is the child using?

Options :

- 1. ✖ Conditioning
- 2. ✔ Trial and error
- 3. ✖ Operant
- 4. ✖ Classical

Question Number : 110 Question Id : 1626531128 Question Type : MCQ Option Shuffling : Yes Display Question Number : Yes
Single Line Question Option : No Option Orientation : Vertical
Correct Marks : 1 Wrong Marks : 0.25

लेगो ब्लॉक के साथ खेल रहा एक बच्चा विभिन्न संयोजनों की कोशिश करता है और सफलतापूर्वक एक इंजन बनाता है। बच्चा यहाँ किस विधि का उपयोग कर रहा है?

Options :

1. ✖ कंडीशनिंग
2. ✔ परीक्षण और त्रुटि
3. ✖ कारगर
4. ✖ क्लासिकल

Question Number : 111 Question Id : 1626531129 Question Type : MCQ Option Shuffling : Yes Display Question Number : Yes
Single Line Question Option : No Option Orientation : Vertical

Correct Marks : 1 Wrong Marks : 0.25

Robin, a Class II student, is attentively watching animals on National Geography Channel. He observes new species of animals and adds them to the existing group of animals in his memory. This is called:

Options :

1. ✖ Accommodation
2. ✔ Assimilation
3. ✖ Schema
4. ✖ Equilibration

Question Number : 111 Question Id : 1626531129 Question Type : MCQ Option Shuffling : Yes Display Question Number : Yes
Single Line Question Option : No Option Orientation : Vertical

Correct Marks : 1 Wrong Marks : 0.25

कक्षा द्वितीय का एक छात्र, रॉबिन, नेशनल जियोग्राफीक चैनल में जानवरों को ध्यान से देख रहा है। वह जानवरों की नई प्रजातियों का अवलोकन करता है और उन्हें अपनी स्मृति में जानवरों के मौजूदा समूह में जोड़ता है। इसे क्या कहा जाता है?

Options :

1. ✖ समायोजन
2. ✔ स्वांगीकरण
3. ✖ स्कीमा
4. ✖ संतुलन

Question Number : 112 Question Id : 1626531130 Question Type : MCQ Option Shuffling : Yes Display Question Number : Yes
Single Line Question Option : No Option Orientation : Vertical

Correct Marks : 1 Wrong Marks : 0.25

A new-born baby first gains control of its head in around two months, followed by other organs. This type of development in humans is called:

Options :

1. ✖ Proximodistal
2. ✔ Cephalocaudal
3. ✖ General to specific
4. ✖ Gradual

Question Number : 112 Question Id : 1626531130 Question Type : MCQ Option Shuffling : Yes Display Question Number : Yes
Single Line Question Option : No Option Orientation : Vertical

Correct Marks : 1 Wrong Marks : 0.25

नवजात शिशु पहले दो महीनों तक उसके सिर पर और उसके बाद अन्य अंगों पर नियंत्रण प्राप्त करता है। मनुष्यों में इस प्रकार के विकास को कहा जाता है:

Options :

1. ✖ सामीप्यता
2. ✔ कपालमापीयता
3. ✖ विशिष्ट से सामान्य
4. ✖ क्रमिक

Question Number : 113 Question Id : 1626531131 Question Type : MCQ Option Shuffling : Yes Display Question Number : Yes
Single Line Question Option : No Option Orientation : Vertical

Correct Marks : 1 Wrong Marks : 0.25

An example of external factor of attention is:

Options :

1. ✖ Forgetting
2. ✖ Memory
3. ✖ Interest
4. ✔ Competitive spirit

Question Number : 113 Question Id : 1626531131 Question Type : MCQ Option Shuffling : Yes Display Question Number : Yes
Single Line Question Option : No Option Orientation : Vertical

Correct Marks : 1 Wrong Marks : 0.25

ध्यान के बाहरी कारक का एक उदाहरण है:

Options :

1. ✖ भूलना
2. ✖ स्मृति
3. ✖ रुचि
4. ✔ प्रतिस्पर्धा की भावना

Question Number : 114 Question Id : 1626531132 Question Type : MCQ Option Shuffling : Yes Display Question Number : Yes
Single Line Question Option : No Option Orientation : Vertical

Correct Marks : 1 Wrong Marks : 0.25

When does effective learning happen?

Options :

1. ✔ when a student is ready to learn
2. ✖ Learning is independent of students' readiness
3. ✖ Classroom environment has no impact on student learning
4. ✖ In a traditional classroom

Question Number : 114 Question Id : 1626531132 Question Type : MCQ Option Shuffling : Yes Display Question Number : Yes
Single Line Question Option : No Option Orientation : Vertical

Correct Marks : 1 Wrong Marks : 0.25

प्रभावी अधिगम कब होता है?

Options :

1. ✔ जब छात्र सीखने के लिए तैयार हो जाता है
2. ✖ अधिगम छात्र के तैयारी से स्वतंत्र होता है
3. ✖ कक्षा के पर्यावरण का छात्र शिक्षा पर कोई प्रभाव नहीं पड़ता है
4. ✖ एक पारंपरिक कक्षा में

Question Number : 115 Question Id : 1626531133 Question Type : MCQ Option Shuffling : Yes Display Question Number : Yes
Single Line Question Option : No Option Orientation : Vertical

Correct Marks : 1 Wrong Marks : 0.25

Creativity and inquisitiveness in students can be developed by:

Options :

1. ✖ Lecture method
2. ✖ Demonstration
3. ✔ Role play
4. ✖ Observation

Question Number : 115 Question Id : 1626531133 Question Type : MCQ Option Shuffling : Yes Display Question Number : Yes
Single Line Question Option : No Option Orientation : Vertical

Correct Marks : 1 Wrong Marks : 0.25

छात्रों में रचनात्मकता और पूछताछ को निम्न में से किसके द्वारा विकसित किया जा सकता है?

Options :

1. ✖ व्याख्यान विधि
2. ✖ प्रदर्शन
3. ✔ रोल प्ले
4. ✖ अवलोकन

Question Number : 116 Question Id : 1626531134 Question Type : MCQ Option Shuffling : Yes Display Question Number : Yes
Single Line Question Option : No Option Orientation : Vertical

Correct Marks : 1 Wrong Marks : 0.25

Project-based and play-based approaches in learning:

Options :

1. ✔ improves children's engagement and motivation.
2. ✖ hampers children's ability to be self-directed.
3. ✖ hampers children's creativity.
4. ✖ increases behavioral issues.

Question Number : 116 Question Id : 1626531134 Question Type : MCQ Option Shuffling : Yes Display Question Number : Yes
Single Line Question Option : No Option Orientation : Vertical

Correct Marks : 1 Wrong Marks : 0.25

सीखने में परियोजना-आधारित और खेल -आधारित दृष्टिकोण:

Options :

1. ✓ बच्चों के व्यस्त रहने और प्रेरणा में सुधार करता है
2. ✗ आत्म-निर्देशित होने की बच्चों की क्षमता को प्रभावित करता है
3. ✗ रचनात्मक होने की स्वतंत्रता पर बाधा डालता है
4. ✗ व्यावहारिक मुद्दों को बढ़ाता है

Question Number : 117 Question Id : 1626531135 Question Type : MCQ Option Shuffling : Yes Display Question Number : Yes
Single Line Question Option : No Option Orientation : Vertical

Correct Marks : 1 Wrong Marks : 0.25

In a diverse classroom, teachers can inhibit learning by:

Options :

1. ✗ practising equality
2. ✓ discriminating between children
3. ✗ engaging students in dialogue with the teacher and peers
4. ✗ sharing their experiences

Question Number : 117 Question Id : 1626531135 Question Type : MCQ Option Shuffling : Yes Display Question Number : Yes
Single Line Question Option : No Option Orientation : Vertical

Correct Marks : 1 Wrong Marks : 0.25

एक विविध कक्षा में, शिक्षको निम्न में से किसके द्वारा अधिगम की प्रक्रिया में बाधा डाल सकते हैं?

Options :

1. ✗ समानता का अभ्यास करके
2. ✓ बच्चों में भेदभाव करके
3. ✗ शिक्षक और साथियों के साथ छात्रों को बातचीत में व्यस्त करके
4. ✗ उनके अनुभव साझा करके

Question Number : 118 Question Id : 1626531136 Question Type : MCQ Option Shuffling : Yes Display Question Number : Yes
Single Line Question Option : No Option Orientation : Vertical

Correct Marks : 1 Wrong Marks : 0.25

Which of the following is NOT a characteristic of a teacher-centered class?

Options :

1. ☒ Children are working in groups and discussing
2. ☐ Teacher is dictating notes
3. ☐ Teacher is giving a lecture
4. ☐ Teacher is explaining only from the textbook

Question Number : 118 Question Id : 1626531136 Question Type : MCQ Option Shuffling : Yes Display Question Number : Yes
Single Line Question Option : No Option Orientation : Vertical

Correct Marks : 1 Wrong Marks : 0.25

इनमें से कौन शिक्षक-केंद्रित वर्ग की एक विशेषता नहीं है?

Options :

1. ☒ बच्चे समूह में काम कर रहे हैं और चर्चा कर रहे हैं
2. ☐ शिक्षक नोट्स लिखवा रहा है
3. ☐ शिक्षक एक व्याख्यान दे रहा है
4. ☐ शिक्षक केवल पाठ्यपुस्तक से समझा रहा है

Question Number : 119 Question Id : 1626531137 Question Type : MCQ Option Shuffling : Yes Display Question Number : Yes
Single Line Question Option : No Option Orientation : Vertical

Correct Marks : 1 Wrong Marks : 0.25

A teacher prepares her lesson plan and plans appropriate activities for effective teaching, but due to student distractions, he fails to effectively deliver the lesson. The teacher fails because of:

Options :

1. ☐ lack of content knowledge
2. ☐ low self-esteem
3. ☒ Lack of classroom managerial skills
4. ☐ lack of interest in teaching

Question Number : 119 Question Id : 1626531137 Question Type : MCQ Option Shuffling : Yes Display Question Number : Yes
Single Line Question Option : No Option Orientation : Vertical

Correct Marks : 1 Wrong Marks : 0.25

एक शिक्षक अपनी पाठ योजना तैयार करती है और प्रभावी शिक्षण के लिए उचित गतिविधियों की योजना बनाती है, लेकिन छात्र के ध्यान न देने के कारण वह पाठ को प्रभावी ढंग से समझाने में विफल रहती है। शिक्षक किस वजह से विफल रहती है?

Options :

1. ✖ सामग्री ज्ञान की कमी
2. ✖ कम आत्मविश्वास
3. ✔ कक्षा प्रबंधकीय कौशल की कमी
4. ✖ शिक्षण में रुचि नहीं

Question Number : 120 Question Id : 1626531138 Question Type : MCQ Option Shuffling : Yes Display Question Number : Yes
Single Line Question Option : No Option Orientation : Vertical

Correct Marks : 1 Wrong Marks : 0.25

To design teaching-learning activities for a classroom to suit the requirements of the students, teachers should have a knowledge of:

Options :

1. ✖ Industrial psychology
2. ✖ Behaviour psychology
3. ✔ Developmental psychology
4. ✖ Abnormal psychology

Question Number : 120 Question Id : 1626531138 Question Type : MCQ Option Shuffling : Yes Display Question Number : Yes
Single Line Question Option : No Option Orientation : Vertical

Correct Marks : 1 Wrong Marks : 0.25

छात्रों की आवश्यकताओं के अनुरूप कक्षा में अध्यापन-शिक्षण गतिविधियों को डिजाइन करने के लिए ,शिक्षकों को किसका ज्ञान होना चाहिए?

Options :

1. ✖ औद्योगिक मनोविज्ञान
2. ✖ व्यवहार मनोविज्ञान
3. ✔ विकासात्मक मनोविज्ञान
4. ✖ असामान्य मनोविज्ञान

Subject Related

Group Number :	7
Group Id :	16265357
Group Maximum Duration :	0
Group Minimum Duration :	0
Revisit allowed for view? :	No
Revisit allowed for edit? :	No
Break time:	0
Group Marks:	20
Revisit allowed for group Instructions? :	Yes
Maximum Instruction Time:	0
Minimum Instruction Time:	0

Subject Related

Section Id :	16265357
Section Number :	1
Section type :	Online
Mandatory or Optional:	Mandatory
Number of Questions:	20
Number of Questions to be attempted:	20
Section Marks:	20
Display Number Panel:	Yes
Group All Questions:	No

Sub-Section Number:	1
Sub-Section Id:	16265376
Question Shuffling Allowed :	Yes

Question Number : 121 Question Id : 1626531139 Question Type : MCQ Option Shuffling : Yes Display Question Number : Yes
Single Line Question Option : No Option Orientation : Vertical

Correct Marks : 1 Wrong Marks : 0.25

A child shows fear and anxiety in front of an unknown person and moves close to the mother. This is called:

Options :

1. ✖ Attachment
2. ✔ Stranger anxiety
3. ✖ Separation anxiety
4. ✖ Self-concept

Question Number : 121 Question Id : 1626531139 Question Type : MCQ Option Shuffling : Yes Display Question Number : Yes
Single Line Question Option : No Option Orientation : Vertical

Correct Marks : 1 Wrong Marks : 0.25

एक बच्चा किसी अज्ञात व्यक्ति के सामने डर और चिंता दिखाता है और मां के करीब जाने लगता है। इसे क्या कहा जाता है?

Options :

1. ✖ आसक्ति
2. ✔ अजनबी चिंता
3. ✖ अलग होने की चिंता
4. ✖ आत्म अवधारणा

Question Number : 122 Question Id : 1626531140 Question Type : MCQ Option Shuffling : Yes Display Question Number : Yes
Single Line Question Option : No Option Orientation : Vertical

Correct Marks : 1 Wrong Marks : 0.25

When a modifiable connection is NOT made between a situation and response, the connection strength decreases. This is called:

Options :

1. ✖ Law of readiness
2. ✔ Law of exercise
3. ✖ Law of effect
4. ✖ Trial and error

Question Number : 122 Question Id : 1626531140 Question Type : MCQ Option Shuffling : Yes Display Question Number : Yes
Single Line Question Option : No Option Orientation : Vertical

Correct Marks : 1 Wrong Marks : 0.25

जब एक स्थिति और प्रतिसाद के बीच एक संशोधनयोग्य कनेक्शन नहीं बनता है, तो कनेक्शन की ताकत कम हो जाती है। यह कहा जाता है:

Options :

1. ✖ तैयारी का कानून
2. ✔ अभ्यास का कानून
3. ✖ प्रभाव का कानून
4. ✖ परीक्षण और त्रुटि

Question Number : 123 Question Id : 1626531141 Question Type : MCQ Option Shuffling : Yes Display Question Number : Yes
Single Line Question Option : No Option Orientation : Vertical

Correct Marks : 1 Wrong Marks : 0.25

One can opt for _____ if there is a need for learning of any type of education including literacy, basic education, skill development (vocational education) and equivalency.

Options :

1. ✖ Virtual education
2. ✖ Informal education
3. ✔ Adult and continuing education
4. ✖ Online education

Question Number : 123 Question Id : 1626531141 Question Type : MCQ Option Shuffling : Yes Display Question Number : Yes
Single Line Question Option : No Option Orientation : Vertical

Correct Marks : 1 Wrong Marks : 0.25

कोई व्यक्ति _____ चुन सकता है अगर उसे साक्षरता, बुनियादी शिक्षा, कौशल विकास (व्यावसायिक शिक्षा) और समकक्ष समेत किसी भी प्रकार की शिक्षा सीखने की आवश्यकता हो।

Options :

1. ✖ आभासी शिक्षा
2. ✖ अनौपचारिक शिक्षा
3. ✔ वयस्क और निरंतर शिक्षा
4. ✖ ऑनलाइन शिक्षा

Question Number : 124 Question Id : 1626531142 Question Type : MCQ Option Shuffling : Yes Display Question Number : Yes
Single Line Question Option : No Option Orientation : Vertical

Correct Marks : 1 Wrong Marks : 0.25

Which of the following statements is true considering distance mode of education in India?

Options :

1. ✖ Distance education holds teacher-centric education at its core.
2. ✔
It encompasses students who are geographically isolated and find it difficult to avail education through regular classes.
3. ✖ Education with less flexibility is only possible in the case of distance learning.
4. ✖ Distance education can be availed by people of all age groups, from 0 to 60 years.

Question Number : 124 Question Id : 1626531142 Question Type : MCQ Option Shuffling : Yes Display Question Number : Yes
Single Line Question Option : No Option Orientation : Vertical

Correct Marks : 1 Wrong Marks : 0.25

भारत में शिक्षा के दूरस्थ प्रकार पर विचार करते हुए निम्नलिखित में से कौन सा कथन सत्य है?

Options :

1. ✖ दूरस्थ शिक्षा में शिक्षक-केंद्रित शिक्षा केंद्र में होती है

2. ✔

इसमें भौगोलिक दृष्टि से अलग-अलग छात्रों को शामिल किया गया है जिन्हें नियमित कक्षाओं के माध्यम से शिक्षा लेना मुश्किल लगता है।

3. ✖ दूरस्थ शिक्षा के मामले में कम लचीलापन वाली शिक्षा केवल संभव है।

4. ✖ दूरस्थ शिक्षा का उपयोग सभी आयु वर्ग, 0 से 60 वर्ष, के लोगों द्वारा किया जा सकता है।

Question Number : 125 Question Id : 1626531143 Question Type : MCQ Option Shuffling : Yes Display Question Number : Yes
Single Line Question Option : No Option Orientation : Vertical

Correct Marks : 1 Wrong Marks : 0.25

The 'National Scheme of Incentives to Girls for Secondary Education' is a government-sponsored scheme with the purpose of:

Options :

1. ✖ encouraging the girl child's education in rural areas

2. ✖ encouraging the girl child's education in the age group of 10-15 years, in remote places

3. ✖ strengthening educational opportunities for girls in villages and remote places

4. ✔ promoting enrolment of girl child in the age group of 14-18 years at secondary stage

Question Number : 125 Question Id : 1626531143 Question Type : MCQ Option Shuffling : Yes Display Question Number : Yes
Single Line Question Option : No Option Orientation : Vertical

Correct Marks : 1 Wrong Marks : 0.25

माध्यमिक शिक्षा के लिए लड़कियों को प्रोत्साहन की राष्ट्रीय योजना _____ के उद्देश्य के साथ एक सरकारी प्रायोजित योजना है

Options :

1. ✖ ग्रामीण स्थानों में बालिका शिक्षा को प्रोत्साहित करना

2. ✖ दूरस्थ स्थानों में 10-15 साल के आयु वर्ग की बालिका शिक्षा को प्रोत्साहित करना

3. ✖ गांवों और दूरस्थ स्थानों में लड़कियों के लिए शैक्षणिक अवसरों को सुदृढ़ करना

4. ✓

माध्यमिक चरण में 14 से 18 वर्ष के आयु वर्ग के बीच बालिका के नामांकन को बढ़ावा देना

Question Number : 126 Question Id : 1626531144 Question Type : MCQ Option Shuffling : Yes Display Question Number : Yes
Single Line Question Option : No Option Orientation : Vertical

Correct Marks : 1 Wrong Marks : 0.25

National Curriculum Framework (NCF 2005) is one of the four frameworks published in 1975, 1988, 2000 and 2005 by _____ in India.

Options :

1. ✗ University Grants Commission (UGC)
2. ✗ National Policy on Education (NPE)
3. ✓ National Council of Educational Research and Training (NCERT)
4. ✗ Ministry of Human and Resource Development (MHRD)

Question Number : 126 Question Id : 1626531144 Question Type : MCQ Option Shuffling : Yes Display Question Number : Yes
Single Line Question Option : No Option Orientation : Vertical

Correct Marks : 1 Wrong Marks : 0.25

राष्ट्रीय पाठ्यचर्या फ्रेमवर्क (NCF 2005) 1975, 1988, 2000 और 2005 में _____ द्वारा प्रकाशित चार फ्रेमवर्कों में से एक है।

Options :

1. ✗ विश्वविद्यालय अनुदान आयोग (UGC)
2. ✗ शिक्षा पर राष्ट्रीय नीति (NPE)
3. ✓ राष्ट्रीय शैक्षणिक अनुसंधान और प्रशिक्षण परिषद (NCERT)
4. ✗ मानव और संसाधन विकास मंत्रालय (MHRD)

Question Number : 127 Question Id : 1626531145 Question Type : MCQ Option Shuffling : Yes Display Question Number : Yes
Single Line Question Option : No Option Orientation : Vertical

Correct Marks : 1 Wrong Marks : 0.25

JP Naik has described _____ as the elusive triangle in Indian education.

Options :

1. ✗ equity, equality and quantity
2. ✗ equivalence, unity and quantity

3. ✓ equality, quality and quantity

4. ✗ equality, quality and integrity

Question Number : 127 Question Id : 1626531145 Question Type : MCQ Option Shuffling : Yes Display Question Number : Yes
Single Line Question Option : No Option Orientation : Vertical

Correct Marks : 1 Wrong Marks : 0.25

जे.पी. नायक ने _____ का वर्णन भारतीय शिक्षा के लिए विशेष त्रिकोण के रूप में किया है।

Options :

1. ✗ समता ,समानता और मात्रा

2. ✗ समतुल्यता ,एकता और मात्रा

3. ✓ समानता ,गुणवत्ता और मात्रा

4. ✗ समानता ,गुणवत्ता और अखंडता

Question Number : 128 Question Id : 1626531146 Question Type : MCQ Option Shuffling : Yes Display Question Number : Yes
Single Line Question Option : No Option Orientation : Vertical

Correct Marks : 1 Wrong Marks : 0.25

Maintaining and continually upgrading competencies and acknowledging prior learning and competencies through official recognition are the major objectives of:

Options :

1. ✗ Basic education

2. ✓ Adult education

3. ✗ Formal education

4. ✗ Distance education

Question Number : 128 Question Id : 1626531146 Question Type : MCQ Option Shuffling : Yes Display Question Number : Yes
Single Line Question Option : No Option Orientation : Vertical

Correct Marks : 1 Wrong Marks : 0.25

दक्षताओं को बनाए रखना और लगातार उन्नत करना और आधिकारिक मान्यता के माध्यम से पूर्व शिक्षण और दक्षताओं को स्वीकार करना _____ के प्रमुख उद्देश्य हैं।

Options :

1. ✗ प्राथमिक शिक्षा

2. ✓ प्रौढ़ शिक्षा

3. ✗ औपचारिक शिक्षा

4. ✗ दूरस्थ शिक्षा

Question Number : 129 Question Id : 1626531147 Question Type : MCQ Option Shuffling : Yes Display Question Number : Yes
Single Line Question Option : No Option Orientation : Vertical

Correct Marks : 1 Wrong Marks : 0.25

Recognising, fostering and developing sensitivity to the needs of people in various identity categories are the primary aims of _____.

Options :

1. ✗ differentiated learning

2. ✗ cultural diversity

3. ✓ educational diversity

4. ✗ diversified education

Question Number : 129 Question Id : 1626531147 Question Type : MCQ Option Shuffling : Yes Display Question Number : Yes
Single Line Question Option : No Option Orientation : Vertical

Correct Marks : 1 Wrong Marks : 0.25

विभिन्न पहचान श्रेणियों में लोगों की आवश्यकताओं को पहचानना ,बढ़ावा देना और उनके प्रति संवेदनशील होना _____ का प्राथमिक उद्देश्य है।

Options :

1. ✗ विभेदित शिक्षा

2. ✗ सांस्कृतिक विविधता

3. ✓ शैक्षिक विविधता

4. ✗ विविध शिक्षा

Question Number : 130 Question Id : 1626531148 Question Type : MCQ Option Shuffling : Yes Display Question Number : Yes
Single Line Question Option : No Option Orientation : Vertical

Correct Marks : 1 Wrong Marks : 0.25

The _____ represents one of the most economically impoverished and marginalised groups in India.

Options :

1. ✖ Scheduled Caste population
2. ✖ Bhils and Gonds
3. ✔ Scheduled Tribe population
4. ✖ Nagas and Khasis

Question Number : 130 Question Id : 1626531148 Question Type : MCQ Option Shuffling : Yes Display Question Number : Yes
Single Line Question Option : No Option Orientation : Vertical

Correct Marks : 1 Wrong Marks : 0.25

_____ भारत में आर्थिक रूप से सबसे गरीब और हाशिए वाले समूहों में से एक का प्रतिनिधित्व करता है।

Options :

1. ✖ अनुसूचित जाति आबादी
2. ✖ भील और गोंड
3. ✔ अनुसूचित जनजाति आबादी
4. ✖ नागा और खासी

Question Number : 131 Question Id : 1626531149 Question Type : MCQ Option Shuffling : Yes Display Question Number : Yes
Single Line Question Option : No Option Orientation : Vertical

Correct Marks : 1 Wrong Marks : 0.25

CWSN stands for:

Options :

1. ✖ Children With Social Needs
2. ✔ Children With Special Needs
3. ✖ Children With Sensitive Nature
4. ✖ Children With Scholastic Needs

Question Number : 131 Question Id : 1626531149 Question Type : MCQ Option Shuffling : Yes Display Question Number : Yes
Single Line Question Option : No Option Orientation : Vertical

Correct Marks : 1 Wrong Marks : 0.25

सीडब्ल्यूएसएन (CWSN) का अर्थ है:

Options :

1. ✖ चिल्ड्रन विथ सोशल नीड्स (Children with Social Needs)
2. ✔ चिल्ड्रन विथ स्पेशल नीड्स (Children with Special Needs)
3. ✖ चिल्ड्रन विथ सेंसिटिव नेचर (Children with Sensitive Nature)
4. ✖ चिल्ड्रन विथ स्कॉलैस्टिक नीड्स (Children with Scholastic Needs)

Question Number : 132 Question Id : 1626531150 Question Type : MCQ Option Shuffling : Yes Display Question Number : Yes
Single Line Question Option : No Option Orientation : Vertical

Correct Marks : 1 Wrong Marks : 0.25

_____ brings students together in one classroom and community, regardless of their strengths or weaknesses in any area, and seeks to maximise the potential of these students.

Options :

1. ✖ Specialised instruction
2. ✖ Individualised instruction
3. ✔ Inclusive education
4. ✖ Integrated education

Question Number : 132 Question Id : 1626531150 Question Type : MCQ Option Shuffling : Yes Display Question Number : Yes
Single Line Question Option : No Option Orientation : Vertical

Correct Marks : 1 Wrong Marks : 0.25

_____ किसी भी क्षेत्र में सभी छात्रों को, उनकी ताकत या कमजोरियों के बावजूद, एक कक्षा और समुदाय में एक साथ लाता है, और सभी छात्रों की क्षमता को अधिकतम करने की कोशिश करता है।

Options :

1. ✖ विशेष निर्देश
2. ✖ व्यक्तिगत निर्देश
3. ✔ समावेशी शिक्षा
4. ✖ एकीकृत शिक्षा

Question Number : 133 Question Id : 1626531151 Question Type : MCQ Option Shuffling : Yes Display Question Number : Yes
Single Line Question Option : No Option Orientation : Vertical

Correct Marks : 1 Wrong Marks : 0.25

Full-time placement in a special education classroom may be referred to as _____ in which students with special needs spend no time with typically developing students.

Options :

1. ✖ isolation
2. ✔ segregation
3. ✖ integration
4. ✖ mainstreaming

Question Number : 133 Question Id : 1626531151 Question Type : MCQ Option Shuffling : Yes Display Question Number : Yes
Single Line Question Option : No Option Orientation : Vertical

Correct Marks : 1 Wrong Marks : 0.25

एक विशेष शिक्षा कक्षा में पूर्णकालिक नियुक्ति को _____ के रूप में संदर्भित किया जा सकता है जिसमें विशेष जरूरत वाले छात्र आमतौर पर विकासशील छात्रों के साथ बिल्कुल समय नहीं बिताते हैं।

Options :

1. ✖ पृथक्करण
2. ✔ अलगाव
3. ✖ एकीकरण
4. ✖ मुख्य धारा

Question Number : 134 Question Id : 1626531152 Question Type : MCQ Option Shuffling : Yes Display Question Number : Yes
Single Line Question Option : No Option Orientation : Vertical

Correct Marks : 1 Wrong Marks : 0.25

In 2018, _____ has decided to set up an Inclusion Panel for children with special needs.

Options :

1. ✖ University Grants Commission (UGC)
2. ✖ National Council for Educational Research and Training (NCERT)
3. ✔ Central Board of Secondary Education (CBSE)
4. ✖ Special Education Program (SEP)

Question Number : 134 Question Id : 1626531152 Question Type : MCQ Option Shuffling : Yes Display Question Number : Yes
Single Line Question Option : No Option Orientation : Vertical

Correct Marks : 1 Wrong Marks : 0.25

2018 में _____, ने विशेष आवश्यकताओं वाले बच्चों के लिए एक समावेश पैनल स्थापित करने का निर्णय लिया है।

Options :

1. ✖ विश्वविद्यालय अनुदान आयोग (UGC)
2. ✖ राष्ट्रीय शैक्षिक अनुसंधान और प्रशिक्षण परिषद (NCERT)
3. ✔ केंद्रीय माध्यमिक शिक्षा मंडल (CBSE)
4. ✖ विशेष शिक्षा कार्यक्रम (SEP)

Question Number : 135 Question Id : 1626531153 Question Type : MCQ Option Shuffling : Yes Display Question Number : Yes
Single Line Question Option : No Option Orientation : Vertical

Correct Marks : 1 Wrong Marks : 0.25

What is a curriculum constraint?

Options :

1. ✔ Lack of sufficient time for instruction
2. ✖ Achievement of goals and aims
3. ✖ Language barriers
4. ✖ Interest of students

Question Number : 135 Question Id : 1626531153 Question Type : MCQ Option Shuffling : Yes Display Question Number : Yes
Single Line Question Option : No Option Orientation : Vertical

Correct Marks : 1 Wrong Marks : 0.25

पाठ्यक्रम बाधा क्या है?

Options :

1. ✔ निर्देश के लिए पर्याप्त समय की कमी
2. ✖ लक्ष्य और उद्देश्यों की उपलब्धि
3. ✖ भाषा व्यवधान
4. ✖ छात्रों के हित

Question Number : 136 Question Id : 1626531154 Question Type : MCQ Option Shuffling : Yes Display Question Number : Yes
Single Line Question Option : No Option Orientation : Vertical

Correct Marks : 1 Wrong Marks : 0.25

Which of the following is a high tech curriculum?

Options :

1. ✖ Study of the great writings, master paintings, musical compositions and grand structures
2. ✖ Exploration of traditional subjects related to community needs and problems
3. ✔ Exploitation of state-of-the-art information and communications technologies
4. ✖ Study of agriculture, materials and manufacturing, energy sources and use, information processing and communication

Question Number : 136 Question Id : 1626531154 Question Type : MCQ Option Shuffling : Yes Display Question Number : Yes
Single Line Question Option : No Option Orientation : Vertical

Correct Marks : 1 Wrong Marks : 0.25

निम्नलिखित में से कौन सा उच्च तकनीक पाठ्यक्रम है?

Options :

1. ✖ महान लेखन ,मास्टर पेंटिंग्स ,संगीत रचनाओं ,भव्य संरचनाओं का अध्ययन करना
2. ✖ सामुदायिक जरूरतों और समस्याओं के संबंध में पारंपरिक विषयों का पता लगाना
3. ✔ अत्याधुनिक सूचना और संचार प्रौद्योगिकियों की शक्ति का फायदा उठाना
4. ✖ कृषि ,सामग्री और विनिर्माण ,ऊर्जा स्रोतों और उपयोग ,सूचना प्रसंस्करण और संचार के संदर्भ में सभी विषयों का अध्ययन करना

Question Number : 137 Question Id : 1626531155 Question Type : MCQ Option Shuffling : Yes Display Question Number : Yes
Single Line Question Option : No Option Orientation : Vertical

Correct Marks : 1 Wrong Marks : 0.25

What are the parts of an academic plan?

Options :

1. ✔ Purpose, content, sequence, learners, instructional processes, resources, evaluation, adjustment
2. ✖ Teacher, content, students, classroom, activities
3. ✖ Content, objectives, goals, methods, material, evaluation
4. ✖ Lesson plans, methods, evaluation strategies

Question Number : 137 Question Id : 1626531155 Question Type : MCQ Option Shuffling : Yes Display Question Number : Yes
Single Line Question Option : No Option Orientation : Vertical

Correct Marks : 1 Wrong Marks : 0.25

अकादमिक योजना के भाग कौन से हैं?

Options :

1. ☒ उद्देश्य ,सामग्री ,अनुक्रम ,शिक्षाविद ,निर्देशात्मक प्रक्रियाएं ,संसाधन ,मूल्यांकन , समायोजन
2. ☐ शिक्षक ,सामग्री ,छात्र ,कक्षा ,गतिविधियाँ
3. ☐ सामग्री ,उद्देश्य ,लक्ष्य ,विधियाँ ,सामग्री ,मूल्यांकन
4. ☐ पाठ योजनाएं ,विधियाँ ,मूल्यांकन रणनीतियाँ

Question Number : 138 Question Id : 1626531156 Question Type : MCQ Option Shuffling : Yes Display Question Number : Yes
Single Line Question Option : No Option Orientation : Vertical

Correct Marks : 1 Wrong Marks : 0.25

Which of the following is the best example of behaviorism while constructing curriculum?

Options :

1. ☐ Learning should occur in a realistic setting
2. ☐ Learning is a series of transformations of information
3. ☒ Learning should occur when learners show appropriate response
4. ☐ Learning should occur when independent learning is assisted

Question Number : 138 Question Id : 1626531156 Question Type : MCQ Option Shuffling : Yes Display Question Number : Yes
Single Line Question Option : No Option Orientation : Vertical

Correct Marks : 1 Wrong Marks : 0.25

पाठ्यचर्या का निर्माण करते समय व्यवहारवाद के लिए निम्नलिखित में से कौन सा सबसे अच्छा उदाहरण है?

Options :

1. ☐ सीखना यथार्थवादी स्थिति में होना चाहिए
2. ☐ सीखना जानकारी के परिवर्तन की एक श्रृंखला है
3. ☒ सीखना तब होता है जब शिक्षार्थि उचित प्रतिक्रिया का प्रमाण देते हैं
4. ☐ सीखना तब होता है जब स्वतंत्र शिक्षा की सहायता की जाती है

Question Number : 139 Question Id : 1626531157 Question Type : MCQ Option Shuffling : Yes Display Question Number : Yes
Single Line Question Option : No Option Orientation : Vertical

Correct Marks : 1 Wrong Marks : 0.25

Which of the following is NOT relevant in communication through technology?

Options :

1. ✖ Sender
2. ✖ Receiver
3. ✔ Remarks
4. ✖ Feedback

Question Number : 139 Question Id : 1626531157 Question Type : MCQ Option Shuffling : Yes Display Question Number : Yes
Single Line Question Option : No Option Orientation : Vertical

Correct Marks : 1 Wrong Marks : 0.25

प्रौद्योगिकी के माध्यम से संचार में निम्नलिखित में से कौन सा लागू नहीं है?

Options :

1. ✖ प्रेषक
2. ✖ प्राप्तकर्ता
3. ✔ टिप्पणियाँ
4. ✖ प्रतिक्रिया

Question Number : 140 Question Id : 1626531158 Question Type : MCQ Option Shuffling : Yes Display Question Number : Yes
Single Line Question Option : No Option Orientation : Vertical

Correct Marks : 1 Wrong Marks : 0.25

What is the main use of an MOOC?

Options :

1. ✖ Free mass open optimal communication
2. ✔ Free massive online open courses for any age group
3. ✖ Free massive online open communication
4. ✖ Free massive open online content

Question Number : 140 Question Id : 1626531158 Question Type : MCQ Option Shuffling : Yes Display Question Number : Yes
Single Line Question Option : No Option Orientation : Vertical

Correct Marks : 1 Wrong Marks : 0.25

एमओओसी (MOOC) का मुख्य उपयोग क्या है?

Options :

1. ✖ मुफ्त सामूहिक मुक्त इष्टतम संचार
2. ✔ किसी भी आयु वर्ग के लिए मुफ्त विशाल ऑनलाइन मुक्त पाठ्यक्रम
3. ✖ मुफ्त विशाल ऑनलाइन मुक्त संचार
4. ✖ मुफ्त विशाल मुक्त ऑनलाइन सामग्री

Subject Related

Group Number :	8
Group Id :	16265358
Group Maximum Duration :	0
Group Minimum Duration :	0
Revisit allowed for view? :	No
Revisit allowed for edit? :	No
Break time:	0
Group Marks:	20
Revisit allowed for group Instructions? :	Yes
Maximum Instruction Time:	0
Minimum Instruction Time:	0

Subject Related

Section Id :	16265358
Section Number :	1
Section type :	Online
Mandatory or Optional:	Mandatory
Number of Questions:	20
Number of Questions to be attempted:	20
Section Marks:	20
Display Number Panel:	Yes
Group All Questions:	No

Sub-Section Number:	1
Sub-Section Id:	16265377
Question Shuffling Allowed :	Yes

Question Number : 141 Question Id : 1626531159 Question Type : MCQ Option Shuffling : Yes Display Question Number : Yes
Single Line Question Option : No Option Orientation : Vertical

Correct Marks : 1 Wrong Marks : 0.25

Which of the following is an appropriate option for sending a Microsoft PowerPoint file of more than 25 GB to parents of students?

Options :

1. ✖ E-mail
2. ✖ Chat messenger
3. ✔ E-mail through Google drive
4. ✖ Forum

Question Number : 141 Question Id : 1626531159 Question Type : MCQ Option Shuffling : Yes Display Question Number : Yes
Single Line Question Option : No Option Orientation : Vertical

Correct Marks : 1 Wrong Marks : 0.25

छात्र के माता-पिता को 25 जीबी से अधिक की पीपीटी (PPT) भेजने के लिए निम्नलिखित में से कौन सा उचित विकल्प है?

Options :

1. ✖ ईमेल
2. ✖ चैट मैसेंजर
3. ✔ Google ड्राइव के माध्यम से ई-मेल करना
4. ✖ मंच

Question Number : 142 Question Id : 1626531160 Question Type : MCQ Option Shuffling : Yes Display Question Number : Yes
Single Line Question Option : No Option Orientation : Vertical

Correct Marks : 1 Wrong Marks : 0.25

Which of the following is NOT an example of netiquette?

Options :

1. ✔ Use of all capital letters
2. ✖ Respecting people on the internet
3. ✖ Adhering to time schedules
4. ✖ Appropriate feedback

Question Number : 142 Question Id : 1626531160 Question Type : MCQ Option Shuffling : Yes Display Question Number : Yes
Single Line Question Option : No Option Orientation : Vertical

Correct Marks : 1 Wrong Marks : 0.25

निम्न मेंसे कौन सा नेट शिष्टाचार (netiquette) का एक उदाहरण नहीं है?

Options :

1. ☒ सभी बड़े अक्षरों का प्रयोग करना
2. ☐ इंटरनेट पर लोगों का सम्मान करना
3. ☐ समय सारणी का पालन करना
4. ☐ उचित प्रतिक्रिया

Question Number : 143 Question Id : 1626531161 Question Type : MCQ Option Shuffling : Yes Display Question Number : Yes
Single Line Question Option : No Option Orientation : Vertical

Correct Marks : 1 Wrong Marks : 0.25

Teachers should use programmed instructions in teaching:

Options :

1. ☐ to reduce the limitation of boundaries
2. ☒ to satisfy different needs of the students
3. ☐ for absent students
4. ☐ to provide ubiquitous resources

Question Number : 143 Question Id : 1626531161 Question Type : MCQ Option Shuffling : Yes Display Question Number : Yes
Single Line Question Option : No Option Orientation : Vertical

Correct Marks : 1 Wrong Marks : 0.25

शिक्षकों को अध्यापन में प्रोग्राम किए गए निर्देशों का उपयोग क्यों करना चाहिए?

Options :

1. ☐ सीमाओं की सीमा को कम करने के लिए
2. ☒ छात्रों की विभिन्न जरूरतों को पूरा करने के लिए
3. ☐ अनुपस्थित छात्रों के लिए
4. ☐ सर्वव्यापी संसाधन प्रदान करने के लिए

Question Number : 144 Question Id : 1626531162 Question Type : MCQ Option Shuffling : Yes Display Question Number : Yes
Single Line Question Option : No Option Orientation : Vertical

Correct Marks : 1 Wrong Marks : 0.25

When can BYOD (bring your own device) approach be employed in ICT?

Options :

1. ☒ For teacher training
2. ☐ For students learning at primary stage
3. ☐ For evaluation
4. ☐ For assessment of students

Question Number : 144 Question Id : 1626531162 Question Type : MCQ Option Shuffling : Yes Display Question Number : Yes
Single Line Question Option : No Option Orientation : Vertical

Correct Marks : 1 Wrong Marks : 0.25

हम आईसीटी (ICT) में BYOD (bring your own device) दृष्टिकोण का उपयोग कब कर सकते हैं?

Options :

1. ☒ शिक्षक प्रशिक्षण के लिए
2. ☐ प्राथमिक चरण में सीखने वाले छात्रों के लिए
3. ☐ मूल्यांकन के लिए
4. ☐ छात्रों के आकलन के लिए

Question Number : 145 Question Id : 1626531163 Question Type : MCQ Option Shuffling : Yes Display Question Number : Yes
Single Line Question Option : No Option Orientation : Vertical

Correct Marks : 1 Wrong Marks : 0.25

Technology can replace the teacher in coming decades and we will see no teacher in classroom.

Options :

1. ☐ This statement is true.
2. ☒ This statement is false.
3. ☐ The first part of this statement is true.
4. ☐ The second part of this statement is true.

Question Number : 145 Question Id : 1626531163 Question Type : MCQ Option Shuffling : Yes Display Question Number : Yes
Single Line Question Option : No Option Orientation : Vertical

Correct Marks : 1 Wrong Marks : 0.25

प्रौद्योगिकी आने वाले दशकों में शिक्षक को प्रतिस्थापित कर सकती है और हम कक्षा में कोई शिक्षक नहीं देखेंगे।

Options :

1. ✖ यह कथन सत्य है
2. ✔ यह कथन गलत है
3. ✖ इस कथन का पहला भाग सत्य है
4. ✖ इस कथन का दूसरा भाग सत्य है

Question Number : 146 Question Id : 1626531164 Question Type : MCQ Option Shuffling : Yes Display Question Number : Yes
Single Line Question Option : No Option Orientation : Vertical

Correct Marks : 1 Wrong Marks : 0.25

What is a limitation of using a social networking site?

Options :

1. ✖ It requires internet
2. ✖ It is expensive
3. ✔ It can pose a threat to a user in some manner
4. ✖ It is not reliable

Question Number : 146 Question Id : 1626531164 Question Type : MCQ Option Shuffling : Yes Display Question Number : Yes
Single Line Question Option : No Option Orientation : Vertical

Correct Marks : 1 Wrong Marks : 0.25

सोशल नेटवर्किंग साइट का उपयोग करने की सीमा क्या है?

Options :

1. ✖ इसमें इंटरनेट की आवश्यकता होती है
2. ✖ यह महंगा है
3. ✔ यह किसी भी तरह से किसी उपयोगकर्ता के लिए खतरा पैदा कर सकता है
4. ✖ यह विश्वसनीय नहीं है

Question Number : 147 Question Id : 1626531165 Question Type : MCQ Option Shuffling : Yes Display Question Number : Yes
Single Line Question Option : No Option Orientation : Vertical

Correct Marks : 1 Wrong Marks : 0.25

In a heterogeneous and mixed ability class, a teacher should:

Options :

1. ✖ employ one type of teaching for all
2. ✔ use a variety of teaching-learning methods
3. ✖ conduct many tests
4. ✖ employ teacher-directed teaching

Question Number : 147 Question Id : 1626531165 Question Type : MCQ Option Shuffling : Yes Display Question Number : Yes
Single Line Question Option : No Option Orientation : Vertical

Correct Marks : 1 Wrong Marks : 0.25

एक विषम और मिश्रित क्षमता वर्ग में एक शिक्षक को _____ करना चाहिए।

Options :

1. ✖ सभी के लिए एक प्रकार का शिक्षण नियोजित
2. ✔ विभिन्न प्रकार के शिक्षण-सीखने के तरीकों का प्रयोग
3. ✖ कई परीक्षण आयोजित
4. ✖ शिक्षक निर्देशित अध्यापन प्रयोग

Question Number : 148 Question Id : 1626531166 Question Type : MCQ Option Shuffling : Yes Display Question Number : Yes
Single Line Question Option : No Option Orientation : Vertical

Correct Marks : 1 Wrong Marks : 0.25

The primacy of assessment is:

Options :

1. ✔ diagnosis and feedback
2. ✖ ranking students
3. ✖ discriminating against students
4. ✖ improving scores

Question Number : 148 Question Id : 1626531166 Question Type : MCQ Option Shuffling : Yes Display Question Number : Yes
Single Line Question Option : No Option Orientation : Vertical

Correct Marks : 1 Wrong Marks : 0.25

मूल्यांकन में _____ की प्राथमिकता है।

Options :

1. ✓ नैदानिक और प्रतिक्रिया
2. ✗ छात्रों को दर्जा देने
3. ✗ छात्रों के साथ भेदभाव करने
4. ✗ स्कोर में सुधार करने

Question Number : 149 Question Id : 1626531167 Question Type : MCQ Option Shuffling : Yes Display Question Number : Yes
Single Line Question Option : No Option Orientation : Vertical

Correct Marks : 1 Wrong Marks : 0.25

What purpose does a language lab serve?

Options :

1. ✗ It provides an enriching experience of a language
2. ✓ It enables users to experience a language with the help of advanced technology
3. ✗ It enables users to play language games
4. ✗ It helps enhance language skills in the classroom

Question Number : 149 Question Id : 1626531167 Question Type : MCQ Option Shuffling : Yes Display Question Number : Yes
Single Line Question Option : No Option Orientation : Vertical

Correct Marks : 1 Wrong Marks : 0.25

भाषा प्रयोगशाला का उपयोग क्या है?

Options :

1. ✗ एक भाषा के समृद्ध अनुभव प्रदान करना
2. ✓ उन्नत तकनीक का उपयोग करके एक भाषा के अनुभव प्रदान करना
3. ✗ भाषा खेल खेलना
4. ✗ कक्षा में भाषा कौशल को बढ़ाना

Question Number : 150 Question Id : 1626531168 Question Type : MCQ Option Shuffling : Yes Display Question Number : Yes
Single Line Question Option : No Option Orientation : Vertical

Correct Marks : 1 Wrong Marks : 0.25

Which language should be used in primary education for better understanding of students as per education commissions?

Options :

1. ✖ Regional language
2. ✖ English language
3. ✖ 'Official Language
4. ✔ Mother tongue

Question Number : 150 Question Id : 1626531168 Question Type : MCQ Option Shuffling : Yes Display Question Number : Yes
Single Line Question Option : No Option Orientation : Vertical

Correct Marks : 1 Wrong Marks : 0.25

शिक्षा आयोगों के अनुसार छात्रों की बेहतर समझ के लिए प्राथमिक शिक्षा में कौन सी भाषा का उपयोग किया जाना चाहिए?

Options :

1. ✖ क्षेत्रीय भाषा
2. ✖ अंग्रेजी भाषा
3. ✖ राजभाषा
4. ✔ मातृ भाषा

Question Number : 151 Question Id : 1626531169 Question Type : MCQ Option Shuffling : Yes Display Question Number : Yes
Single Line Question Option : No Option Orientation : Vertical

Correct Marks : 1 Wrong Marks : 0.25

Which of the following helps develop language skills?

Options :

1. ✖ Use of the vocabulary
2. ✔ Preparation of various literature forms
3. ✖ Explanation of statements
4. ✖ Reading the language

Question Number : 151 Question Id : 1626531169 Question Type : MCQ Option Shuffling : Yes Display Question Number : Yes
Single Line Question Option : No Option Orientation : Vertical

Correct Marks : 1 Wrong Marks : 0.25

भाषा अध्ययन में दृष्टिकोण विकसित करने के लिए निम्नलिखित में से किस पर विचार किया जाता है?

Options :

1. ✖ शब्दावली का उपयोग करने के लिए
2. ✔ विभिन्न साहित्य रूप तैयार करने के लिए
3. ✖ कथन की व्याख्या करने के लिए
4. ✖ प्रभावी ढंग से पढ़ने के लिए

Question Number : 152 Question Id : 1626531170 Question Type : MCQ Option Shuffling : Yes Display Question Number : Yes
Single Line Question Option : No Option Orientation : Vertical

Correct Marks : 1 Wrong Marks : 0.25

The word 'language' is derived from 'Lingua' which is a _____ word.

Options :

1. ✖ French
2. ✔ Latin
3. ✖ Greek
4. ✖ English

Question Number : 152 Question Id : 1626531170 Question Type : MCQ Option Shuffling : Yes Display Question Number : Yes
Single Line Question Option : No Option Orientation : Vertical

Correct Marks : 1 Wrong Marks : 0.25

'भाषा' शब्द 'लिंगुआ' शब्द से ली गई है जो एक _____ शब्द है।

Options :

1. ✖ फ्रेंच
2. ✔ लैटिन
3. ✖ यूनानी
4. ✖ अंग्रेजी

Question Number : 153 Question Id : 1626531171 Question Type : MCQ Option Shuffling : Yes Display Question Number : Yes
Single Line Question Option : No Option Orientation : Vertical

Correct Marks : 1 Wrong Marks : 0.25

Reading and writing are called:

Options :

1. ✖ receptive skills
2. ✖ productive skills
3. ✖ country skills
4. ✔ language skills

Question Number : 153 Question Id : 1626531171 Question Type : MCQ Option Shuffling : Yes Display Question Number : Yes
Single Line Question Option : No Option Orientation : Vertical

Correct Marks : 1 Wrong Marks : 0.25

पढ़ने और लेखन के कौशल को _____ कहा जाता है।

Options :

1. ✖ ग्रहणशील कौशल
2. ✖ उत्पादक कौशल
3. ✖ देश कौशल
4. ✔ भाषा कौशल

Question Number : 154 Question Id : 1626531172 Question Type : MCQ Option Shuffling : Yes Display Question Number : Yes
Single Line Question Option : No Option Orientation : Vertical

Correct Marks : 1 Wrong Marks : 0.25

The acquisition of a second language begins with:

Options :

1. ✔ comprehension
2. ✖ expression
3. ✖ self-analysis
4. ✖ speaking

Question Number : 154 Question Id : 1626531172 Question Type : MCQ Option Shuffling : Yes Display Question Number : Yes
Single Line Question Option : No Option Orientation : Vertical

Correct Marks : 1 Wrong Marks : 0.25

दूसरी भाषा का अधिग्रहण निम्न में से किसके साथ शुरू होता है?

Options :

1. ✓ समझ
2. ✗ अभिव्यक्ति
3. ✗ आत्म-विश्लेषण
4. ✗ बोलना

Question Number : 155 Question Id : 1626531173 Question Type : MCQ Option Shuffling : Yes Display Question Number : Yes
Single Line Question Option : No Option Orientation : Vertical

Correct Marks : 1 Wrong Marks : 0.25

According to NCF, it is important for teachers to focus on errors because errors:

Options :

1. ✗ provide an opportunity to scold students
2. ✓ provide an opportunity to identify the child's manner of thinking
3. ✗ provide an opportunity to remove students from school
4. ✗ help in branding students as slow learners

Question Number : 155 Question Id : 1626531173 Question Type : MCQ Option Shuffling : Yes Display Question Number : Yes
Single Line Question Option : No Option Orientation : Vertical

Correct Marks : 1 Wrong Marks : 0.25

एनसीएफ के मुताबिक त्रुटियों पर ध्यान देना महत्वपूर्ण है क्योंकि वे:

Options :

1. ✗ छात्रों को डांटने का अवसर प्रदान करते हैं
2. ✓ बच्चे की सोच की पहचान करने का अवसर प्रदान करते हैं
3. ✗ स्कूल से छात्रों को हटाने का अवसर प्रदान करते हैं
4. ✗ छात्रों को धीमे शिक्षार्थियों के रूप में ब्रांड करने में सहायता करते हैं

Question Number : 156 Question Id : 1626531174 Question Type : MCQ Option Shuffling : Yes Display Question Number : Yes
Single Line Question Option : No Option Orientation : Vertical

Correct Marks : 1 Wrong Marks : 0.25

_____ learning is a matter of growth and maturation of relatively fixed capacities under appropriate external conditions.

Options :

1. ✖ Listening
2. ✖ Language
3. ✔ Writing
4. ✖ Communication

Question Number : 156 Question Id : 1626531174 Question Type : MCQ Option Shuffling : Yes Display Question Number : Yes
Single Line Question Option : No Option Orientation : Vertical

Correct Marks : 1 Wrong Marks : 0.25

_____ सीखना उचित बाह्य स्थितियों के तहत अपेक्षाकृत निश्चित क्षमताओं की वृद्धि और परिपक्वता का मामला है।

Options :

1. ✖ सुनना
2. ✖ भाषा
3. ✔ लिखना
4. ✖ संचार

Question Number : 157 Question Id : 1626531175 Question Type : MCQ Option Shuffling : Yes Display Question Number : Yes
Single Line Question Option : No Option Orientation : Vertical

Correct Marks : 1 Wrong Marks : 0.25

In language learning _____ is/are called passive skill/s.

Options :

1. ✖ listening and speaking
2. ✖ reading and writing
3. ✔ reading
4. ✖ speaking

Question Number : 157 Question Id : 1626531175 Question Type : MCQ Option Shuffling : Yes Display Question Number : Yes
Single Line Question Option : No Option Orientation : Vertical

Correct Marks : 1 Wrong Marks : 0.25

भाषा शिक्षण में _____ को निष्क्रिय कौशल कहा जाता है।

Options :

1. ✖ सुनने और बोलने
2. ✖ पढ़ने और लिखने
3. ✔ पढ़ने
4. ✖ बोलने

Question Number : 158 Question Id : 1626531176 Question Type : MCQ Option Shuffling : Yes Display Question Number : Yes
Single Line Question Option : No Option Orientation : Vertical

Correct Marks : 1 Wrong Marks : 0.25

What qualities are required for a good mathematics teacher?

Options :

1. ✖ Problem solving, decision making, creative thinking and critical thinking
2. ✖ Presentation skills and critical thinking
3. ✔ 21st century skills
4. ✖ Knowledge, understanding and application

Question Number : 158 Question Id : 1626531176 Question Type : MCQ Option Shuffling : Yes Display Question Number : Yes
Single Line Question Option : No Option Orientation : Vertical

Correct Marks : 1 Wrong Marks : 0.25

एक अच्छे गणित शिक्षक के लिए किन गुणों की आवश्यकता है?

Options :

1. ✖ समस्या निवारण ,निर्णय लेना ,रचनात्मक सोच और गहन सोच
2. ✖ प्रस्तुति कौशल ,गहन सोच
3. ✔ 21वीं सदी के कौशल
4. ✖ ज्ञान ,समझ ,अनुप्रयोग

Question Number : 159 Question Id : 1626531177 Question Type : MCQ Option Shuffling : Yes Display Question Number : Yes
Single Line Question Option : No Option Orientation : Vertical

Correct Marks : 1 Wrong Marks : 0.25

From which level should students be taught mathematics?

Options :

1. ✖ Primary level
2. ✔ Pre-primary level
3. ✖ Upper primary level
4. ✖ Lower primary level

Question Number : 159 Question Id : 1626531177 Question Type : MCQ Option Shuffling : Yes Display Question Number : Yes
Single Line Question Option : No Option Orientation : Vertical

Correct Marks : 1 Wrong Marks : 0.25

गणित का शिक्षण कब से शुरू करना चाहिए?

Options :

1. ✖ प्राथमिक स्तर से
2. ✔ पूर्व-प्राथमिक स्तर से
3. ✖ उच्च प्राथमिक स्तर से
4. ✖ निम्न प्राथमिक स्तर से

Question Number : 160 Question Id : 1626531178 Question Type : MCQ Option Shuffling : Yes Display Question Number : Yes
Single Line Question Option : No Option Orientation : Vertical

Correct Marks : 1 Wrong Marks : 0.25

Students will get examples of angles, after that they will learn the definition and find the examples of angles. Which method is followed by this example?

Options :

1. ✔ Inductive method
2. ✖ Deductive method
3. ✖ Constructivist method
4. ✖ Discovery method

Question Number : 160 Question Id : 1626531178 Question Type : MCQ Option Shuffling : Yes Display Question Number : Yes
Single Line Question Option : No Option Orientation : Vertical

Correct Marks : 1 Wrong Marks : 0.25

छात्र कोणों के उदाहरण प्राप्त करेंगे ,उसके बाद वे परिभाषा सीखेंगे और कोणों के उदाहरण खोजेंगे। इस उदाहरण के द्वारा किस विधि का पालन किया जाता है?

Options :

1. ✓ आगनात्मक विधि
2. ✗ निगमनिक विधि
3. ✗ रचनात्मक विधि
4. ✗ खोज विधि

Subject Related

Group Number :	9
Group Id :	16265359
Group Maximum Duration :	0
Group Minimum Duration :	0
Revisit allowed for view? :	No
Revisit allowed for edit? :	No
Break time:	0
Group Marks:	20
Revisit allowed for group Instructions? :	Yes
Maximum Instruction Time:	0
Minimum Instruction Time:	0

Subject Related

Section Id :	16265359
Section Number :	1
Section type :	Online
Mandatory or Optional:	Mandatory
Number of Questions:	20
Number of Questions to be attempted:	20
Section Marks:	20
Display Number Panel:	Yes
Group All Questions:	No

Sub-Section Number:	1
Sub-Section Id:	16265378
Question Shuffling Allowed :	Yes

Question Number : 161 Question Id : 1626531179 Question Type : MCQ Option Shuffling : Yes Display Question Number : Yes
Single Line Question Option : No Option Orientation : Vertical

Correct Marks : 1 Wrong Marks : 0.25

Which of the following helps develop knowledge of Mathematics?

Options :

1. ✗ Development of habits such as regularity, practice, patience, self-reliance and hard work

2. ✖ Development of a taste for and confidence in mathematics
3. ✖ Providing clarity about fundamental concepts and processes of mathematics
4. ✔ Acquainting the students with concepts and processes in mathematics

Question Number : 161 Question Id : 1626531179 Question Type : MCQ Option Shuffling : Yes Display Question Number : Yes
Single Line Question Option : No Option Orientation : Vertical
Correct Marks : 1 Wrong Marks : 0.25

गणित में निम्नलिखित में से कौन सा ज्ञान कौशल है?

Options :

1. ✖ नियमितता ,अभ्यास ,धैर्य ,आत्मनिर्भरता और कड़ी मेहनत जैसी आदतों को विकसित करना
2. ✖ विद्यार्थियों का गणित में रुचि और आत्मविश्वास विकसित करना
3. ✖ गणित की मौलिक अवधारणाओं और प्रक्रियाओं के बारे में स्पष्टता प्रदान करना
4. ✔ गणित में अवधारणाओं और प्रक्रियाओं के साथ छात्रों को परिचित कराना

Question Number : 162 Question Id : 1626531180 Question Type : MCQ Option Shuffling : Yes Display Question Number : Yes
Single Line Question Option : No Option Orientation : Vertical
Correct Marks : 1 Wrong Marks : 0.25

How can we inculcate scientific temperment in students while teaching them mathematics?

Options :

1. ✔ Telling them about the cause-effect relationship while solving problems
2. ✖ Giving the students scientific examples to solve
3. ✖ Making students solve science formulas
4. ✖ Encouraging students to take a scientific approach for solving problems

Question Number : 162 Question Id : 1626531180 Question Type : MCQ Option Shuffling : Yes Display Question Number : Yes
Single Line Question Option : No Option Orientation : Vertical
Correct Marks : 1 Wrong Marks : 0.25

हम गणित को पढ़ाने के दौरान छात्रों में वैज्ञानिक धारणा कैसे उत्पन्न कर सकते हैं?

Options :

1. ✔ समस्याओं को हल करते समय कारण प्रभाव संबंध बताकर

2. ✖ हल करने के लिए वैज्ञानिक उदाहरण देकर

3. ✖ विज्ञान सूत्रों को हल करके

4. ✖ समस्याओं को हल करने के लिए वैज्ञानिक दृष्टिकोण ढूँढने में उन्हें प्रोत्साहित करके

Question Number : 163 Question Id : 1626531181 Question Type : MCQ Option Shuffling : Yes Display Question Number : Yes
Single Line Question Option : No Option Orientation : Vertical

Correct Marks : 1 Wrong Marks : 0.25

People who know the environmental acts, rights, rules and legislations, and use their knowledge to make appropriate judgments and decisions for the protection and improvement of the earth are known to be _____.

Options :

1. ✖ environmentally active

2. ✖ environmentally aware

3. ✔ environmentally literate

4. ✖ environmental masters

Question Number : 163 Question Id : 1626531181 Question Type : MCQ Option Shuffling : Yes Display Question Number : Yes
Single Line Question Option : No Option Orientation : Vertical

Correct Marks : 1 Wrong Marks : 0.25

जो लोग पर्यावरणीय कृत्यों ,अधिकारों ,नियमों ,कानूनों आदि को जानते हैं और पृथ्वी के संरक्षण और सुधार के लिए उचित फैसले और निर्णय लेने के लिए अपने ज्ञान का उपयोग करते हैं तो उन्हें _____ माना जाता है।

Options :

1. ✖ पर्यावरणीय रूप से सक्रिय

2. ✖ पर्यावरणीय रूप से जागरूक

3. ✔ पर्यावरणीय रूप से साक्षर

4. ✖ पर्यावरणात्मक स्वामी

Question Number : 164 Question Id : 1626531182 Question Type : MCQ Option Shuffling : Yes Display Question Number : Yes
Single Line Question Option : No Option Orientation : Vertical

Correct Marks : 1 Wrong Marks : 0.25

_____ provides information about biodiversity richness and the potential dangers to the species of plants, animals and microorganisms in the environment.

Options :

1. ✖ Environmental science
2. ✖ Environmental studies
3. ✔ Environmental education
4. ✖ Environmental training

Question Number : 164 Question Id : 1626531182 Question Type : MCQ Option Shuffling : Yes Display Question Number : Yes
Single Line Question Option : No Option Orientation : Vertical

Correct Marks : 1 Wrong Marks : 0.25

_____जैव विविधता समृद्धि और पर्यावरण में पौधों, जानवरों और सूक्ष्मजीवों की प्रजातियों के संभावित खतरों के बारे में जानकारी देता है।

Options :

1. ✖ पर्यावरणात्मक विज्ञान
2. ✖ पर्यावरणात्मक अध्ययन
3. ✔ पर्यावरणात्मक शिक्षा
4. ✖ पर्यावरणात्मक प्रशिक्षण

Question Number : 165 Question Id : 1626531183 Question Type : MCQ Option Shuffling : Yes Display Question Number : Yes
Single Line Question Option : No Option Orientation : Vertical

Correct Marks : 1 Wrong Marks : 0.25

All of the organic and inorganic components surrounding us as well as the events, conditions and processes of their interactions are known as _____.

Options :

1. ✖ biochemistry
2. ✔ environment
3. ✖ biodiversity
4. ✖ ecology

Question Number : 165 Question Id : 1626531183 Question Type : MCQ Option Shuffling : Yes Display Question Number : Yes
Single Line Question Option : No Option Orientation : Vertical

Correct Marks : 1 Wrong Marks : 0.25

हमारे आस-पास के सभी कार्बनिक और अकार्बनिक घटकों के साथ-साथ घटनाओं, परिस्थितियों और उनकी बातचीत की प्रक्रियाओं को _____ के रूप में जाना जाता है।

Options :

1. ✖ जीव रसायन
2. ✔ वातावरण
3. ✖ जैव विविधता
4. ✖ पारिस्थैतिकी

Question Number : 166 Question Id : 1626531184 Question Type : MCQ Option Shuffling : Yes Display Question Number : Yes
Single Line Question Option : No Option Orientation : Vertical

Correct Marks : 1 Wrong Marks : 0.25

At school level, the important objective of environmental education is to build and develop skills of _____ that concern humans and the world around them.

- a. adjustment
- b. reasoning
- c. evaluating
- d. making decisions

Options :

1. ✔ b, c and d
2. ✖ a, d and b
3. ✖ a, c and d
4. ✖ c and d

Question Number : 166 Question Id : 1626531184 Question Type : MCQ Option Shuffling : Yes Display Question Number : Yes
Single Line Question Option : No Option Orientation : Vertical

Correct Marks : 1 Wrong Marks : 0.25

स्कूल स्तर पर पर्यावरण शिक्षा का महत्वपूर्ण उद्देश्य मानव और उनके आसपास की दुनिया में _____ के कौशल का निर्माण और विकास करना है।

- a. समायोजन
- b. विचार
- c. का मूल्यांकन
- d. फैसले लेना

Options :

1. ✔ b, c और d
2. ✖ a, d और b

3. ✖ a, c और d

4. ✖ c और d

Question Number : 167 Question Id : 1626531185 Question Type : MCQ Option Shuffling : Yes Display Question Number : Yes
Single Line Question Option : No Option Orientation : Vertical

Correct Marks : 1 Wrong Marks : 0.25

As a result of over-population, rapid industrialisation and other human activities such as agriculture and deforestation, earth has become loaded with diverse substances that were released as by-products. This process is known as:

Options :

1. ✖ ecological depletion

2. ✖ ecological pollution

3. ✔ environmental pollution

4. ✖ manmade pollution

Question Number : 167 Question Id : 1626531185 Question Type : MCQ Option Shuffling : Yes Display Question Number : Yes
Single Line Question Option : No Option Orientation : Vertical

Correct Marks : 1 Wrong Marks : 0.25

अधिक आबादी ,तेजी से औद्योगिकीकरण ,और अन्य मानव गतिविधियों जैसे कि कृषि और वनों की कटाई आदि के परिणामस्वरूप ,पृथ्वी उपोत्पादों द्वारा मुक्त किए गए विभिन्न पदार्थों से भर गयी है। इस प्रक्रिया को _____ के रूप में जाना जाता है।

Options :

1. ✖ पारिस्थितिक शून्यता

2. ✖ पारिस्थितिक प्रदूषण

3. ✔ पर्यावरण प्रदूषण

4. ✖ मानव निर्मित प्रदूषण

Question Number : 168 Question Id : 1626531186 Question Type : MCQ Option Shuffling : Yes Display Question Number : Yes
Single Line Question Option : No Option Orientation : Vertical

Correct Marks : 1 Wrong Marks : 0.25

Social science study adapts to a _____ approach.

Options :

1. ✖ social

2. ✓ interdisciplinary

3. ✗ systematic

4. ✗ holistic

Question Number : 168 Question Id : 1626531186 Question Type : MCQ Option Shuffling : Yes Display Question Number : Yes
Single Line Question Option : No Option Orientation : Vertical

Correct Marks : 1 Wrong Marks : 0.25

सामाजिक विज्ञान अध्ययन _____ दृष्टिकोण का अनुकूलन करता है।

Options :

1. ✗ सामाजिक

2. ✓ अंतःविषय

3. ✗ व्यवस्थित

4. ✗ समग्र

Question Number : 169 Question Id : 1626531187 Question Type : MCQ Option Shuffling : Yes Display Question Number : Yes
Single Line Question Option : No Option Orientation : Vertical

Correct Marks : 1 Wrong Marks : 0.25

Any branch of study that deals with the social life of man and employs scientific method for its study may be conceived as:

Options :

1. ✓ Social science

2. ✗ Sociology

3. ✗ Social system

4. ✗ Social education

Question Number : 169 Question Id : 1626531187 Question Type : MCQ Option Shuffling : Yes Display Question Number : Yes
Single Line Question Option : No Option Orientation : Vertical

Correct Marks : 1 Wrong Marks : 0.25

अध्ययन की कोई भी शाखा जो मनुष्य के सामाजिक जीवन से संबंधित है और अपने अध्ययन के लिए वैज्ञानिक विधि को नियोजित करती है उसे _____ के रूप में माना जा सकता है।

Options :

1. ✓ सामाजिक विज्ञान

2. ✖ नागरिक शास्त्र
3. ✖ सामाजिक व्यवस्था
4. ✖ सामाजिक शिक्षा

Question Number : 170 Question Id : 1626531188 Question Type : MCQ Option Shuffling : Yes Display Question Number : Yes
Single Line Question Option : No Option Orientation : Vertical

Correct Marks : 1 Wrong Marks : 0.25

Which of the following statements is true?

Options :

1. ✔ Social science prepares students for wholesome social living.
2. ✖ Social science is extracurricular and not a core course.
3. ✖ Social science is a study of human growth.
4. ✖ Social science deals with the history of humans.

Question Number : 170 Question Id : 1626531188 Question Type : MCQ Option Shuffling : Yes Display Question Number : Yes
Single Line Question Option : No Option Orientation : Vertical

Correct Marks : 1 Wrong Marks : 0.25

निम्नलिखित कथनों में से कौनसा कथन सत्य है?

Options :

1. ✔ सामाजिक विज्ञान छात्रों को सामाजिक जीवन के लिए तैयार करते हैं
2. ✖ यह एक असाधारण पाठ्यक्रम है, न कि केंद्रित
3. ✖ यह मानव विकास का एक अध्ययन है
4. ✖ यह मानव इतिहास से संबंधित है

Question Number : 171 Question Id : 1626531189 Question Type : MCQ Option Shuffling : Yes Display Question Number : Yes
Single Line Question Option : No Option Orientation : Vertical

Correct Marks : 1 Wrong Marks : 0.25

What is the most important task of an art and craft teacher?

Options :

1. ✖ Organising teaching work

2. ✖ Taking care of the class
3. ✖ Developing an interest in art and craft
4. ✔ Providing opportunities to students for learning art and craft to explore their abilities

Question Number : 171 Question Id : 1626531189 Question Type : MCQ Option Shuffling : Yes Display Question Number : Yes
Single Line Question Option : No Option Orientation : Vertical
Correct Marks : 1 Wrong Marks : 0.25

कला और शिल्प शिक्षक का सबसे महत्वपूर्ण कार्य क्या है?

Options :

1. ✖ शिक्षण कार्य व्यवस्थित करना
2. ✖ कक्षा का खयाल रखना
3. ✖ कला और शिल्प में रुचि विकसित करना
4. ✔ छात्रों को कला और शिल्प सीखने का अवसर प्रदान करना ताकि वह अपने क्षमताओं को तलाश सकें

Question Number : 172 Question Id : 1626531190 Question Type : MCQ Option Shuffling : Yes Display Question Number : Yes
Single Line Question Option : No Option Orientation : Vertical
Correct Marks : 1 Wrong Marks : 0.25

Which of the following is the best example of creativity?

Options :

1. ✔ Writing a script for role play in class
2. ✖ Preparing an origami structure
3. ✖ Making a painting
4. ✖ Making a Rangoli

Question Number : 172 Question Id : 1626531190 Question Type : MCQ Option Shuffling : Yes Display Question Number : Yes
Single Line Question Option : No Option Orientation : Vertical
Correct Marks : 1 Wrong Marks : 0.25

रचनात्मकता के लिए निम्न में से कौन सा सबसे अच्छा उदाहरण है?

Options :

1. ✔ कक्षा में भूमिका निभाने के लिए एक पटकथा लिखना

2. ✖ ओरिगामी संरचना तैयार करना

3. ✖ एक चित्रकला बनाना

4. ✖ रंगोली बनाना

Question Number : 173 Question Id : 1626531191 Question Type : MCQ Option Shuffling : Yes Display Question Number : Yes
Single Line Question Option : No Option Orientation : Vertical

Correct Marks : 1 Wrong Marks : 0.25

What should teachers do to develop interest among students regarding art education?

Options :

1. ✔

Help students select and perform any art form with which they would like to express themselves

2. ✖ Add art and craft subject to board studies

3. ✖ Show students movies related to art and craft

4. ✖ Discuss the advantages of art and craft

Question Number : 173 Question Id : 1626531191 Question Type : MCQ Option Shuffling : Yes Display Question Number : Yes
Single Line Question Option : No Option Orientation : Vertical

Correct Marks : 1 Wrong Marks : 0.25

कला शिक्षा के संबंध में छात्रों के बीच रुचि विकसित करने के लिए क्या किया जा सकता है?

Options :

1. ✔

किसी भी कला रूप को चुनने और निष्पादित करने में उनकी सहायता करना जिससे वे स्वयं को व्यक्त करना पसंद करते हों

2. ✖ बोर्ड अध्ययन के अधीन कला और शिल्प जोड़ना

3. ✖ कला और शिल्प से संबंधित फिल्मों को दिखाना

4. ✖ कला और शिल्प के फायदों पर चर्चा करना

Question Number : 174 Question Id : 1626531192 Question Type : MCQ Option Shuffling : Yes Display Question Number : Yes
Single Line Question Option : No Option Orientation : Vertical

Correct Marks : 1 Wrong Marks : 0.25

What precaution needs to be taken while gardening?

Options :

1. ✖ Keeping first aid kit ready
2. ✖ Using sanitisers after gardening
3. ✖ Increasing awareness about do's and don'ts
4. ✔ Having a teacher present

Question Number : 174 Question Id : 1626531192 Question Type : MCQ Option Shuffling : Yes Display Question Number : Yes
Single Line Question Option : No Option Orientation : Vertical

Correct Marks : 1 Wrong Marks : 0.25

बागवानी के दौरान क्या सावधानी बरतनी चाहिए?

Options :

1. ✖ प्राथमिक चिकित्सा किट तैयार रखना
2. ✖ बागवानी के बाद सैनीटाइजर्स का उपयोग करना
3. ✖ क्या करें और क्या न करें इसके बारे में जागरूकता बढ़ाना
4. ✔ शिक्षक की उपस्थिति

Question Number : 175 Question Id : 1626531193 Question Type : MCQ Option Shuffling : Yes Display Question Number : Yes
Single Line Question Option : No Option Orientation : Vertical

Correct Marks : 1 Wrong Marks : 0.25

How does physical training help students?

Options :

1. ✖ It enables students to improve their physical fitness.
2. ✖ It encourages students to become active in yoga.
3. ✔ It helps students gain good health and sound state of mind.
4. ✖ It helps them meditate better.

Question Number : 175 Question Id : 1626531193 Question Type : MCQ Option Shuffling : Yes Display Question Number : Yes
Single Line Question Option : No Option Orientation : Vertical

Correct Marks : 1 Wrong Marks : 0.25

शारीरिक प्रशिक्षण छात्रों की मदद कैसे करता है?

Options :

1. ✖ शारीरिक तंदुरुस्ती में वृद्धि करने में
2. ✖ योग गतिविधियों में सक्रिय बनाने में
3. ✔ अच्छे स्वास्थ्य और अच्छे दिमाग के लिए
4. ✖ ध्यान करने में

Question Number : 176 Question Id : 1626531194 Question Type : MCQ Option Shuffling : Yes Display Question Number : Yes
Single Line Question Option : No Option Orientation : Vertical

Correct Marks : 1 Wrong Marks : 0.25

How can we develop students' interest in physical fitness?

Options :

1. ✔ By taking them outside on the playground to play outdoor games
2. ✖ By discussing the benefits of physical fitness
3. ✖ By interviewing an athlete
4. ✖ By taking the students for a visit to a hospital

Question Number : 176 Question Id : 1626531194 Question Type : MCQ Option Shuffling : Yes Display Question Number : Yes
Single Line Question Option : No Option Orientation : Vertical

Correct Marks : 1 Wrong Marks : 0.25

हम शारीरिक तंदुरुस्ती में छात्रों की रुचि कैसे विकसित कर सकते हैं?

Options :

1. ✔ आउटडोर गेम खेलने के लिए उन्हें मैदान पर ले जाकर
2. ✖ शारीरिक तंदुरुस्ती के लाभों पर चर्चा करके
3. ✖ एक एथलीट का साक्षात्कार लेके
4. ✖ छात्रों को अस्पताल जाने के लिए ले जाकर

Question Number : 177 Question Id : 1626531195 Question Type : MCQ Option Shuffling : Yes Display Question Number : Yes
Single Line Question Option : No Option Orientation : Vertical

Correct Marks : 1 Wrong Marks : 0.25

According to Selman, undifferentiated perspective-taking sets in, in the age group of:

Options :

1. ✖ 7 – 12 years
2. ✖ 10 – 15 years
3. ✔ 3 – 6 years
4. ✖ 14 – adults

Question Number : 177 Question Id : 1626531195 Question Type : MCQ Option Shuffling : Yes Display Question Number : Yes
Single Line Question Option : No Option Orientation : Vertical

Correct Marks : 1 Wrong Marks : 0.25

सेल्मैन के अनुसार _____ आयु वर्ग में अविभाजित परिप्रेक्ष्य लेना शुरू हो जाता है।

Options :

1. ✖ 7 - 12 साल
2. ✖ 15 - 10 साल
3. ✔ 6 - 3 साल
4. ✖ 14- वयस्क

Question Number : 178 Question Id : 1626531196 Question Type : MCQ Option Shuffling : Yes Display Question Number : Yes
Single Line Question Option : No Option Orientation : Vertical

Correct Marks : 1 Wrong Marks : 0.25

Bulimia Nervosa is:

Options :

1. ✔ an eating disorder
2. ✖ a type of nervous breakdown
3. ✖ a sleep disorder
4. ✖ a physical disability

Question Number : 178 Question Id : 1626531196 Question Type : MCQ Option Shuffling : Yes Display Question Number : Yes
Single Line Question Option : No Option Orientation : Vertical

Correct Marks : 1 Wrong Marks : 0.25

बुलीमिया नर्वोसा क्या है?

Options :

1. ✓ खाने का एक विकार
2. ✗ तंत्रिका तंत्र धवस्त होना
3. ✗ नींद का एक विकार
4. ✗ एक शारीरिक अक्षमता

Question Number : 179 Question Id : 1626531197 Question Type : MCQ Option Shuffling : Yes Display Question Number : Yes
Single Line Question Option : No Option Orientation : Vertical

Correct Marks : 1 Wrong Marks : 0.25

According to Piaget, adolescents can predict about variables that might affect an outcome and this is called:

Options :

1. ✓ Hypo-deductive reasoning
2. ✗ Propositional thought
3. ✗ Scientific reasoning
4. ✗ Idealism and criticism

Question Number : 179 Question Id : 1626531197 Question Type : MCQ Option Shuffling : Yes Display Question Number : Yes
Single Line Question Option : No Option Orientation : Vertical

Correct Marks : 1 Wrong Marks : 0.25

पियाजेके मुताबिक किशोर वेरिबल्स के बारे में भविष्यवाणी कर सकते हैं जो परिणाम को प्रभावित कर सकते हैं और इसे _____ कहा जाता है।

Options :

1. ✓ उच्च-कटौतीकारक तर्क
2. ✗ अव्ययकारी विचार
3. ✗ वैज्ञानिक तर्क
4. ✗ आदर्शवाद और आलोचना

Question Number : 180 Question Id : 1626531198 Question Type : MCQ Option Shuffling : Yes Display Question Number : Yes
Single Line Question Option : No Option Orientation : Vertical

Correct Marks : 1 Wrong Marks : 0.25

Identifying with a particular gender by means of activities and interests, among other things, is called:

Options :

1. ✖ Sexual diversity
2. ✔ Sexual orientation
3. ✖ Sexual development
4. ✖ Sexual activeness

Question Number : 180 Question Id : 1626531198 Question Type : MCQ Option Shuffling : Yes Display Question Number : Yes
Single Line Question Option : No Option Orientation : Vertical

Correct Marks : 1 Wrong Marks : 0.25

गतिविधियों ,रुचियों आदि के माध्यम से किसी विशेष लिंग के साथ स्वयं की पहचान स्थापित करने को _____ कहा जाता है।

Options :

1. ✖ यौन विविधता
2. ✔ यौन अभिविन्यास
3. ✖ यौन विकास
4. ✖ यौन सक्रियता

Subject Related

Group Number :	10
Group Id :	16265360
Group Maximum Duration :	0
Group Minimum Duration :	120
Revisit allowed for view? :	No
Revisit allowed for edit? :	No
Break time:	0
Group Marks:	20
Revisit allowed for group Instructions? :	Yes
Maximum Instruction Time:	0
Minimum Instruction Time:	0

Subject Related

Section Id :	16265360
Section Number :	1
Section type :	Online
Mandatory or Optional:	Mandatory
Number of Questions:	20
Number of Questions to be attempted:	20

Section Marks: 20
Display Number Panel: Yes
Group All Questions: No

Sub-Section Number: 1
Sub-Section Id: 16265379
Question Shuffling Allowed : Yes

Question Number : 181 Question Id : 1626531199 Question Type : MCQ Option Shuffling : Yes Display Question Number : Yes
Single Line Question Option : No Option Orientation : Vertical

Correct Marks : 1 Wrong Marks : 0.25

Which of the following is a trait in adolescents that hinders their decision making ability?

Options :

1. ☒ Abstract thinking
2. ☐ Idealism
3. ☐ Criticism
4. ☐ Self-concern

Question Number : 181 Question Id : 1626531199 Question Type : MCQ Option Shuffling : Yes Display Question Number : Yes
Single Line Question Option : No Option Orientation : Vertical

Correct Marks : 1 Wrong Marks : 0.25

इनमें से कौन सी किशोरावस्था की एक विशेषता है जो किशोरों के निर्णय लेने की क्षमता में बाधा डालती है?

Options :

1. ☒ सामान्य सोच
2. ☐ आदर्शवाद
3. ☐ आलोचना
4. ☐ आत्म चिंता

Question Number : 182 Question Id : 1626531200 Question Type : MCQ Option Shuffling : Yes Display Question Number : Yes
Single Line Question Option : No Option Orientation : Vertical

Correct Marks : 1 Wrong Marks : 0.25

According to Piaget, which of following is one of the distorted images of relations between self and peers in adolescents?

Options :

1. ☐ Self-concern

2. ✓ Imaginary audience

3. ✗ Peer pressure

4. ✗ Adult pressure

Question Number : 182 Question Id : 1626531200 Question Type : MCQ Option Shuffling : Yes Display Question Number : Yes
Single Line Question Option : No Option Orientation : Vertical

Correct Marks : 1 Wrong Marks : 0.25

पियाजे के मुताबिक निम्न में से कौन सी छवि किशोरावस्था में स्वयं और बराबरी वाले के बीच संबंधों की विकृत छवियों में से एक है?

Options :

1. ✗ आत्म चिंता

2. ✓ काल्पनिक दर्शक

3. ✗ साथियों का दबाव

4. ✗ वयस्क दबाव

Question Number : 183 Question Id : 1626531201 Question Type : MCQ Option Shuffling : Yes Display Question Number : Yes
Single Line Question Option : No Option Orientation : Vertical

Correct Marks : 1 Wrong Marks : 0.25

Which of the following is NOT suitable for the location of a school?

Options :

1. ✗ Out of the city

2. ✗ Near nature

3. ✗ Away from pollution

4. ✓ Place which has health hazards

Question Number : 183 Question Id : 1626531201 Question Type : MCQ Option Shuffling : Yes Display Question Number : Yes
Single Line Question Option : No Option Orientation : Vertical

Correct Marks : 1 Wrong Marks : 0.25

निम्नलिखित में से कौन स्कूल के स्थान के लिए उपयुक्त नहीं है?

Options :

1. ✗ शहर से बाहर

2. ✖ प्रकृति के पास
3. ✖ प्रदूषण से दूर
4. ✔ वह जगह जहां स्वास्थ्य खतरे हैं

Question Number : 184 Question Id : 1626531202 Question Type : MCQ Option Shuffling : Yes Display Question Number : Yes
Single Line Question Option : No Option Orientation : Vertical

Correct Marks : 1 Wrong Marks : 0.25

Whom should you call if a student falls sick in the classroom?

Options :

1. ✖ Parents
2. ✖ Headmaster
3. ✖ Class teacher
4. ✔ Doctor

Question Number : 184 Question Id : 1626531202 Question Type : MCQ Option Shuffling : Yes Display Question Number : Yes
Single Line Question Option : No Option Orientation : Vertical

Correct Marks : 1 Wrong Marks : 0.25

यदि छात्र कक्षा में बीमार पड़ते हैं तो आपको किसको कॉल करना चाहिए?

Options :

1. ✖ माता-पिता
2. ✖ प्राचार्य
3. ✖ कक्षा अध्यापक
4. ✔ चिकित्सक

Question Number : 185 Question Id : 1626531203 Question Type : MCQ Option Shuffling : Yes Display Question Number : Yes
Single Line Question Option : No Option Orientation : Vertical

Correct Marks : 1 Wrong Marks : 0.25

What are specific intervention strategies of a school?

Options :

1. ✔
Nutrition and food safety, water quality, air quality, sanitation facilities, transportation, waste, facilities design

2. ✖ Procedural policies of school
3. ✖ Aims of objectives of school
4. ✖ Financial strategies of school

Question Number : 185 Question Id : 1626531203 Question Type : MCQ Option Shuffling : Yes Display Question Number : Yes
Single Line Question Option : No Option Orientation : Vertical
Correct Marks : 1 Wrong Marks : 0.25

स्कूल की विशिष्ट हस्तक्षेप रणनीतियाँ क्या हैं?

Options :

1. ✔ पोषण और खाद्य सुरक्षा ; पानी की गुणवत्ता ; हवा की गुणवत्ता ; शौचालय की सुविधा ; परिवहन अपशिष्ट ; सुविधाएं डिजाइन
2. ✖ स्कूल की प्रक्रियात्मक नीतियां
3. ✖ स्कूल के उद्देश्यों के लक्ष्य
4. ✖ स्कूल की वित्तीय रणनीतियां

Question Number : 186 Question Id : 1626531204 Question Type : MCQ Option Shuffling : Yes Display Question Number : Yes
Single Line Question Option : No Option Orientation : Vertical
Correct Marks : 1 Wrong Marks : 0.25

How can a school deal with health-related problems?

Options :

1. ✖ By making doctors available on school premises
2. ✖ By making funds available for health issues
3. ✖ By providing a well-structured school building and proper sanitation facilities
4. ✔ By providing basic knowledge about managing respiratory infections, asthma and diarrhoea

Question Number : 186 Question Id : 1626531204 Question Type : MCQ Option Shuffling : Yes Display Question Number : Yes
Single Line Question Option : No Option Orientation : Vertical
Correct Marks : 1 Wrong Marks : 0.25

स्कूल स्वास्थ्य संबंधी समस्याओं से कैसे निपट सकता है?

Options :

1. ✖ स्कूल परिसर में एक डॉक्टर उपलब्ध कराके
2. ✖ स्वास्थ्य मुद्दों के लिए निधि उपलब्ध कराके
3. ✖
- स्कूल की अच्छी तरह से बनाया गया इमारत और स्वच्छता सुविधाओं की अच्छी संरचना सुनिश्चित करके
4. ✔ श्वसन संक्रमण ,अस्थमा ,और दस्त के प्रबंधन के बारे में बुनियादी ज्ञान प्रदान करके

Question Number : 187 Question Id : 1626531205 Question Type : MCQ Option Shuffling : Yes Display Question Number : Yes
Single Line Question Option : No Option Orientation : Vertical
Correct Marks : 1 Wrong Marks : 0.25

Which of the following entities recommends basic safety assurance of students in school?

Options :

1. ✔ World Health Organization (WHO)
2. ✖ School organisations
3. ✖ Health Ministry
4. ✖ Central Government

Question Number : 187 Question Id : 1626531205 Question Type : MCQ Option Shuffling : Yes Display Question Number : Yes
Single Line Question Option : No Option Orientation : Vertical
Correct Marks : 1 Wrong Marks : 0.25

स्कूल में छात्रों के बुनियादी सुरक्षा आश्वासन की सिफारिश निम्न में से किसने की?

Options :

1. ✔ विश्व स्वास्थ्य संगठन (WHO)
2. ✖ स्कूल संगठन
3. ✖ स्वास्थ्य मंत्रालय
4. ✖ केंद्र सरकार

Question Number : 188 Question Id : 1626531206 Question Type : MCQ Option Shuffling : Yes Display Question Number : Yes
Single Line Question Option : No Option Orientation : Vertical
Correct Marks : 1 Wrong Marks : 0.25

How does planting shade-providing trees around school grounds help students?

Options :

1. ✖ It provides proper ventilation in the class
2. ✖ It enables teachers to take students on the school grounds
3. ✔ It helps reduce ultra-violet rays
4. ✖ It enables teachers to arrange nature visit camps

Question Number : 188 Question Id : 1626531206 Question Type : MCQ Option Shuffling : Yes Display Question Number : Yes
Single Line Question Option : No Option Orientation : Vertical

Correct Marks : 1 Wrong Marks : 0.25

विद्यालय के मैदानों के आसपास छायादार पेड़ों को लगाना छात्रों की कैसे मदद करता है?

Options :

1. ✖ यह कक्षा में हवा का उचित आवागमन सुनिश्चित करता है
2. ✖ यह शिक्षकों को सक्षम बनाता है बच्चों को स्कूल के मैदानों में ले जाने के लिए
3. ✔ यह पराबैंगनी किरणों को कम करता है
4. ✖ यह प्रकृति यात्रा शिविर की व्यवस्था करने में शिक्षकों की मदद करता है

Question Number : 189 Question Id : 1626531207 Question Type : MCQ Option Shuffling : Yes Display Question Number : Yes
Single Line Question Option : No Option Orientation : Vertical

Correct Marks : 1 Wrong Marks : 0.25

It is possible in every circumstance that the children may develop the skills of observing a livelihood in local economy available to them by including _____ in complete educational routine.

Options :

1. ✖ efforts
2. ✔ work
3. ✖ skills
4. ✖ knowledge

Question Number : 189 Question Id : 1626531207 Question Type : MCQ Option Shuffling : Yes Display Question Number : Yes
Single Line Question Option : No Option Orientation : Vertical

Correct Marks : 1 Wrong Marks : 0.25

प्रत्येक परिस्थिति में यह संभव है कि बच्चे पूर्ण शैक्षणिक दिनचर्या में _____ सहित उपलब्ध स्थानीय अर्थव्यवस्था में आजीविका को देखने के कौशल विकसित कर सकें

Options :

1. ✖ प्रयास
2. ✔ कार्य
3. ✖ कौशल
4. ✖ ज्ञान

Question Number : 190 Question Id : 1626531208 Question Type : MCQ Option Shuffling : Yes Display Question Number : Yes
Single Line Question Option : No Option Orientation : Vertical
Correct Marks : 1 Wrong Marks : 0.25

Which of the following is NOT a factor that is essential for the success of work education?

Options :

1. ✖ Broadmindedness
2. ✖ Positive relationship between community and school
3. ✔ Dignity of labour and pessimistic attitude
4. ✖ Feelings of co-operation

Question Number : 190 Question Id : 1626531208 Question Type : MCQ Option Shuffling : Yes Display Question Number : Yes
Single Line Question Option : No Option Orientation : Vertical
Correct Marks : 1 Wrong Marks : 0.25

कार्य शिक्षा की सफलता के लिए कौन सा आवश्यक कारक नहीं है?

Options :

1. ✖ समझ का दायरा
2. ✖ समुदाय और स्कूल के बीच सकारात्मक संबंध
3. ✔ श्रम की गरिमा और निराशावादी दृष्टिकोण
4. ✖ सहयोग की भावनाएं

Question Number : 191 Question Id : 1626531209 Question Type : MCQ Option Shuffling : Yes Display Question Number : Yes
Single Line Question Option : No Option Orientation : Vertical
Correct Marks : 1 Wrong Marks : 0.25

National curricular framework for school education as developed by the NCERT (2000) has given a new term 'work education' instead of the earlier name _____.

Options :

1. ✖ Social work
2. ✖ Social studies
3. ✔ Work experience
4. ✖ Work culture

Question Number : 191 Question Id : 1626531209 Question Type : MCQ Option Shuffling : Yes Display Question Number : Yes
Single Line Question Option : No Option Orientation : Vertical

Correct Marks : 1 Wrong Marks : 0.25

एनसीईआरटी (2000) द्वारा विकसित स्कूल शिक्षा के लिए राष्ट्रीय पाठ्यचर्या ढांचा ने पहले नाम _____ के बजाय एक नया नाम 'कार्य शिक्षा' दिया है

Options :

1. ✖ सामाजिक कार्य
2. ✖ सामाजिक अध्ययन
3. ✔ कार्य का अनुभव
4. ✖ कार्य संस्कृति

Question Number : 192 Question Id : 1626531210 Question Type : MCQ Option Shuffling : Yes Display Question Number : Yes
Single Line Question Option : No Option Orientation : Vertical

Correct Marks : 1 Wrong Marks : 0.25

Creating opportunities to promote teacher collaboration is essential for:

Options :

1. ✖ teacher's growth
2. ✖ teacher's knowledge
3. ✖ handling challenges in the profession
4. ✔ teacher's professional development

Question Number : 192 Question Id : 1626531210 Question Type : MCQ Option Shuffling : Yes Display Question Number : Yes
Single Line Question Option : No Option Orientation : Vertical

Correct Marks : 1 Wrong Marks : 0.25

शिक्षक सहयोग को बढ़ावा देने के अवसरों का निर्माण करना _____ आवश्यक है।

Options :

1. ✖ शिक्षक की उन्नति के लिए
2. ✖ शिक्षक के ज्ञान के लिए
3. ✖ पेशे में चुनौतियों का सामना करने के लिए
4. ✔ शिक्षक के पेशेवर विकास के लिए

Question Number : 193 Question Id : 1626531211 Question Type : MCQ Option Shuffling : Yes Display Question Number : Yes
Single Line Question Option : No Option Orientation : Vertical

Correct Marks : 1 Wrong Marks : 0.25

_____ can offer teachers, even in low-resource environments, access to content, curriculum, colleagues and a variety of learning experiences.

Options :

1. ✖ Radio, mobile phones, TV
2. ✖ Internet and audio-visual facilities
3. ✖ Teaching-learning aids
4. ✔ Information and Communication Technology

Question Number : 193 Question Id : 1626531211 Question Type : MCQ Option Shuffling : Yes Display Question Number : Yes
Single Line Question Option : No Option Orientation : Vertical

Correct Marks : 1 Wrong Marks : 0.25

_____ शिक्षक को, कम संसाधन वाले वातावरण में भी, सामग्री, पाठ्यचर्या, सहयोगियों और विविध प्रकार के शिक्षण अनुभवों तक पहुंच की पेशकश कर सकते हैं।

Options :

1. ✖ रेडियो ,मोबाइल फोन ,टीवी
2. ✖ इंटरनेट और ऑडियो-विजुअल सुविधाएं
3. ✖ अध्यापन-शिक्षण सहायक उपकरण
4. ✔ सूचना और संचार प्रौद्योगिकी

Question Number : 194 Question Id : 1626531212 Question Type : MCQ Option Shuffling : Yes Display Question Number : Yes
Single Line Question Option : No Option Orientation : Vertical

Correct Marks : 1 Wrong Marks : 0.25

To encourage fellowship among parents, teachers, children and the community, _____ has to be established.

Options :

1. ✖ community centre
2. ✔ parent-teacher association
3. ✖ board of studies
4. ✖ board of trustees

Question Number : 194 Question Id : 1626531212 Question Type : MCQ Option Shuffling : Yes Display Question Number : Yes
Single Line Question Option : No Option Orientation : Vertical

Correct Marks : 1 Wrong Marks : 0.25

माता-पिता ,शिक्षकों ,बच्चों और समुदाय के बीच फैलोशिप को प्रोत्साहित करने के लिए _____ की स्थापना करना है।

Options :

1. ✖ सामुदायिक केंद्र
2. ✔ अभिभावक शिक्षक संघ
3. ✖ अध्ययन बोर्ड
4. ✖ न्यासियों का बोर्ड

Question Number : 195 Question Id : 1626531213 Question Type : MCQ Option Shuffling : Yes Display Question Number : Yes
Single Line Question Option : No Option Orientation : Vertical

Correct Marks : 1 Wrong Marks : 0.25

In best school practice, _____ communicate closely and regularly so that all sectors of the school community are working effectively towards achieving common goals.

Options :

1. ✖ SMC, principal and trustees
2. ✖ Supervisors, admin and board
3. ✖ Trustees, office and parents
4. ✔ PTA, board and staff

Question Number : 195 Question Id : 1626531213 Question Type : MCQ Option Shuffling : Yes Display Question Number : Yes
Single Line Question Option : No Option Orientation : Vertical

Correct Marks : 1 Wrong Marks : 0.25

सर्वोत्तम स्कूल अभ्यास में _____, बारीकी से और नियमित रूप से संवाद करते हैं ताकि स्कूल समुदाय के सभी क्षेत्र आम लक्ष्यों को प्राप्त करने के प्रति प्रभावी ढंग से काम कर सकें।

Options :

1. ✖ एसएमसी, प्राचार्य और ट्रस्टी
2. ✖ पर्यवेक्षक, व्यवस्थापक, और बोर्ड
3. ✖ ट्रस्टी, कार्यालय और माता-पिता
4. ✔ पीटीए, बोर्ड, और कर्मचारी

Question Number : 196 Question Id : 1626531214 Question Type : MCQ Option Shuffling : Yes Display Question Number : Yes
Single Line Question Option : No Option Orientation : Vertical

Correct Marks : 1 Wrong Marks : 0.25

The major role of primary school leading teachers is to:

Options :

1. ✔ improve the skill, knowledge and performance of the teaching workforce
2. ✖ contribute to classroom management
3. ✖ supervise the delivery of teaching programs
4. ✖ develop and manage the school code of conduct

Question Number : 196 Question Id : 1626531214 Question Type : MCQ Option Shuffling : Yes Display Question Number : Yes
Single Line Question Option : No Option Orientation : Vertical

Correct Marks : 1 Wrong Marks : 0.25

प्राथमिक विद्यालय के अग्रणी शिक्षकों की प्रमुख भूमिका _____ है।

Options :

1. ✔ अध्यापन कार्यबल के कौशल, ज्ञान और प्रदर्शन में सुधार करना
2. ✖ और कक्षा प्रबंधन में योगदान करना
3. ✖ अध्यापन कार्यक्रमों की प्रदायता की निगरानी करना
4. ✖ विद्यालय आचार संहिता का विकास और प्रबंधन करना

Question Number : 197 Question Id : 1626531215 Question Type : MCQ Option Shuffling : Yes Display Question Number : Yes
Single Line Question Option : No Option Orientation : Vertical

Correct Marks : 1 Wrong Marks : 0.25

Classroom management is an important responsibility of teachers that entails three basic functions, which are _____.

Options :

1. ✖ Curriculum, designing and execution
2. ✔ planning, control and communication
3. ✖ controlling, managing and performing
4. ✖ planning, managing and performing

Question Number : 197 Question Id : 1626531215 Question Type : MCQ Option Shuffling : Yes Display Question Number : Yes
Single Line Question Option : No Option Orientation : Vertical

Correct Marks : 1 Wrong Marks : 0.25

कक्षा प्रबंधन शिक्षकों की एक महत्वपूर्ण जिम्मेदारी है जिसमें तीन बुनियादी कार्य शामिल हैं, जैसे:

Options :

1. ✖ पाठ्यचर्या, डिजाइनिंग और निष्पादन
2. ✔ योजना ,नियंत्रण और संचार
3. ✖ नियंत्रण ,प्रबंधन और प्रदर्शन करना
4. ✖ योजना बनाना, प्रबंधित करना और प्रदर्शन करना

Question Number : 198 Question Id : 1626531216 Question Type : MCQ Option Shuffling : Yes Display Question Number : Yes
Single Line Question Option : No Option Orientation : Vertical

Correct Marks : 1 Wrong Marks : 0.25

For effective functioning, primary school teachers are expected to be efficient in organising:

Options :

1. ✖ fun fairs, science exhibitions and projects
2. ✔ play projects, discussions, dialogues, observations and visits
3. ✖ laboratory work, group activities and presentations
4. ✖ Indoor and outdoor sports, language clubs and field work

Question Number : 198 Question Id : 1626531216 Question Type : MCQ Option Shuffling : Yes Display Question Number : Yes
Single Line Question Option : No Option Orientation : Vertical

Correct Marks : 1 Wrong Marks : 0.25

प्रभावी कामकाज के लिए प्राथमिक विद्यालय के शिक्षकों से _____ आयोजन में दक्ष होने की उम्मीद की जाती है।

Options :

1. ✖ मेले ,विज्ञान प्रदर्शनी ,परियोजनाएँ
2. ✔ परियोजनाएँ चलाना ,चर्चा ,संवाद ,अवलोकन ,यात्राएँ
3. ✖ प्रयोगशाला कार्य ,समूह गतिविधियाँ ,प्रस्तुतियाँ
4. ✖ इनडोर और आउट डोर खेल ,भाषा क्लब ,मैदानी कार्य

Question Number : 199 Question Id : 1626531217 Question Type : MCQ Option Shuffling : Yes Display Question Number : Yes
Single Line Question Option : No Option Orientation : Vertical

Correct Marks : 1 Wrong Marks : 0.25

_____ includes using appropriate games to improve the child's literacy and numeracy. It also includes parents being assisted to arrange effective learning spaces for their child.

Options :

1. ✔ Parent engagement
2. ✖ Parent-teachers association
3. ✖ Parents' active interference
4. ✖ Appropriate parental behaviour

Question Number : 199 Question Id : 1626531217 Question Type : MCQ Option Shuffling : Yes Display Question Number : Yes
Single Line Question Option : No Option Orientation : Vertical

Correct Marks : 1 Wrong Marks : 0.25

_____में बच्चे की साक्षरता और संख्यात्मकता में सुधार करने के लिए उपयुक्त खेलों का उपयोग करना और बच्चे के लिए प्रभावी शिक्षण जगहों की व्यवस्था करने में सहायता करना शामिल है।

Options :

1. ✔ अभिभावक जुड़ाव
2. ✖ अभिभावक-शिक्षक संघ
3. ✖ माता-पिता का सक्रिय हस्तक्षेप

4. ✖ माता-पिता का उपयुक्त व्यवहार

Question Number : 200 Question Id : 1626531218 Question Type : MCQ Option Shuffling : Yes Display Question Number : Yes
Single Line Question Option : No Option Orientation : Vertical

Correct Marks : 1 Wrong Marks : 0.25

When relationships between the school and wider community strengthen the ability of schools and families to support student learning, well-being and developmental outcomes, it is called:

Options :

1. ✖ Community engagement
2. ✖ Community co-operation
3. ✔ Community collaboration
4. ✖ Community network

Question Number : 200 Question Id : 1626531218 Question Type : MCQ Option Shuffling : Yes Display Question Number : Yes
Single Line Question Option : No Option Orientation : Vertical

Correct Marks : 1 Wrong Marks : 0.25

जब स्कूल और व्यापक समुदाय के बीच संबंध छात्र शिक्षण कल्याण और विकास के परिणामों का समर्थन करने के लिए स्कूलों और परिवारों की क्षमता को मजबूत करते हैं, यह _____ कहलाता है।

Options :

1. ✖ सामुदायिक व्यस्तता
2. ✖ सामुदायिक सहयोग
3. ✔ सामुदायिक संबद्धता
4. ✖ सामुदायिक नेटवर्क